

제 4 교시

사회탐구 영역(사회·문화)

성명  수험 번호

1. 그림에서 밑줄 친 ㉠~㉢과 같은 현상이 갖는 일반적인 특징에 대한 설명으로 적절하지 않은 것은?



- ① ㉠과 같은 현상은 ㉡과 같은 현상과 달리 인과 관계가 분명하다.
- ② ㉢과 같은 현상은 ㉠과 같은 현상과 달리 특수성이 나타난다.
- ③ ㉢과 같은 현상은 불가치적, ㉡과 같은 현상은 가치 함축적이다.
- ④ ㉢과 같은 현상은 ㉠과 같은 현상과 달리 규범의 지배를 받는다.
- ⑤ ㉡, ㉢과 같은 현상은 ㉠과 같은 현상과 달리 확률의 원리가 적용된다.

2. 그림은 일탈 이론 (가)~(다)를 도식화한 것이다. 이에 대한 설명으로 옳은 것은? [3점]



- ① (가)는 일탈 행동 자체보다 그에 대한 사회적 반응을 더 문제시한다.
- ② (나)는 차별적인 제재가 일탈 행동의 원인이라고 본다.
- ③ (다)는 사회 구성원 간 갈등으로 인한 가치 혼란이 일탈 행동의 원인이라고 본다.
- ④ (가)는 (다)와 달리 일탈 행동의 객관적 기준이 있다고 본다.
- ⑤ (나), (다)는 모두 일탈 행동의 원인을 개인적 차원에서 파악하고 있다.

3. (가), (나)는 사회·문화 현상을 탐구하는 연구자 윤리와 관련된 진술이다. 이에 대한 옳은 설명을 <보기>에서 고른 것은?

(가) 연구자는 잠정적 연구 대상자에게 연구의 목적과 연구에 참여했을 때 나타날 수 있는 피해를 미리 알려 준 후 연구에 참여할 것인가 아닌가를 결정하게 해야 한다.  
 (나) 연구자는 연구 대상자와 그가 제공한 정보를 분리해야 하는데, 이는 연구 결과가 공개되더라도 연구 대상자가 누구인가를 확인할 수 없게 하려는 것이다.

— < 보기 > —  
 가. (가)는 일반화라는 과학적 필요와 상충될 수 있다.  
 나. (나)에 따르면 연구 대상자 본인만 알고 있는 비밀스러운 정보에 대해 질문해서는 안 된다.  
 다. (가)와 달리 (나)는 연구 대상자의 익명성을 보장하는 데 기여한다.  
 르. (가), (나)는 모두 연구자가 연구 과정에서 객관적 태도를 유지하도록 하는 데 필요하다.

- ① 가, 나    ② 가, 다    ③ 나, 다    ④ 나, 르    ⑤ 다, 르

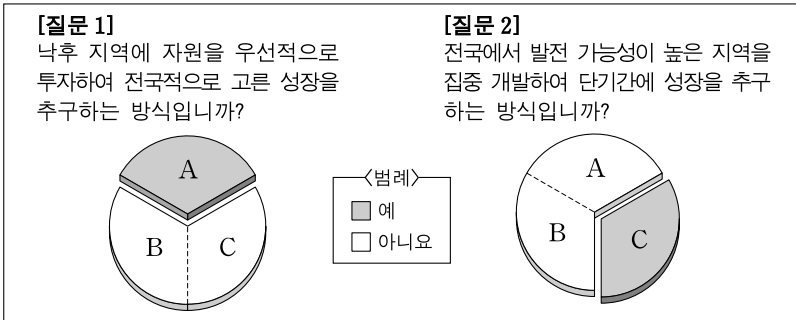
4. (가)~(다)에 대한 설명으로 적절하지 않은 것은? [3점]

지난 시간에는 문화의 속성 중 축적성과 변동성에 대해 알아보았습니다. 이번 시간에는 그 밖의 속성 (가)~(다)에 대해 알아보기로 해요.

속성	(가)	(나)	(다)
사	최근 우리나라에서 태어난 다문화 가정의 자녀들은 아버지에게는 한국어, 어머니에게는 어머니의 모국어...	뉴질랜드 전통 부족인 마오리족은 코를 비비거나 부딪치는 횡수가 2회면 환영, 3회는 청혼의 의미가...	고려 시대에 송불 사상의 영향으로 채소 음식이 선호되면 서 동치미나 나박김치 등 김치의 종류가 다양해지기 시작...
레	...	...	...

- ① 사회화를 통해 사회가 유지, 존속되는 것은 (가)에 해당한다.
- ② 전승된 문화를 통해 새로운 문화가 창출되는 것은 (가)에 해당한다.
- ③ 구성원의 사고와 행동에 구속성을 갖는 것은 (나)에 해당한다.
- ④ 원활한 사회 생활을 위한 상호 작용의 토대가 되는 것은 (나)에 해당한다.
- ⑤ 문화의 각 요소가 상호 연관성을 갖는다고 보는 것은 (다)에 해당한다.

5. 그림은 우리나라의 지역 개발 방식을 구분한 것이다. A~C의 일반적인 특징에 대한 설명으로 옳은 것은? (단, A~C는 각각 거점 개발, 광역 개발, 균형 개발 중 하나이다.)



- ① A는 주로 개발도상국에서 선호하는 방식이다.
- ② A는 C에 비해 지역 간 역차별 논란이 발생할 가능성이 크다.
- ③ B는 A와 달리 개발의 형평성을 강조한다.
- ④ C는 A에 비해 개발의 효율성이 떨어지는 단점이 있다.
- ⑤ C는 B에 비해 상향식 의사 결정을 중시한다.

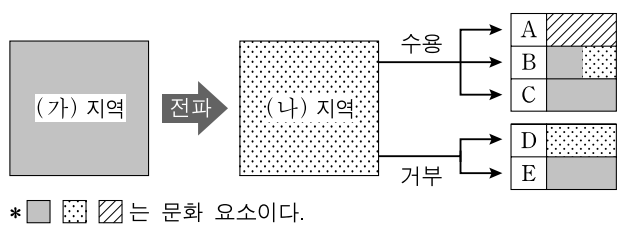
6. 다음의 조사 결과를 도출하기 위해 활용한 자료로 적절하지 않은 것은? [3점]

○○고등학교 학생 갑은 농촌과 도시의 인구 및 가구 현황을 조사하기 위해 각종 통계 자료를 활용하여 다음과 같은 결과를 얻었다. 농촌은 도시보다 독거 노인 가구의 비율이 높고 유소년 부양비의 감소 정도가 더 컸다. 반면 도시는 농촌보다 친족 가구 중 3세대 이상의 확대 가족 비율이 더 높고 다문화 가구 수가 더 많았다. 한편 농촌과 도시 모두 노년 인구의 증가율이 부양 인구의 증가율보다 컸다.

\* 유소년 부양비 = (유소년 인구 / 부양 인구) × 100  
 \*\* 노년 부양비 = (노년 인구 / 부양 인구) × 100

- ① 농촌과 도시의 노년 부양비 변화 추이
- ② 농촌과 도시의 유소년 부양비 변화 추이
- ③ 농촌과 도시의 노인 가구 수 및 1인 가구 수
- ④ 농촌과 도시의 친족 가구의 세대 별 구성 비율
- ⑤ 농촌과 도시의 다문화 가구 비율 및 전체 다문화 가구 비율

7. 그림의 (나) 지역에서 나타날 수 있는 문화 접변 결과인 A~E에 대한 설명으로 가장 적절한 것은? [3점]



- ① A는 전파된 문화 요소가 수용 지역의 문화 체계 안에서 그대로 정착하여 하나의 특질로 나타난 결과이다.
- ② B는 (가) 지역 문화 요소보다 (나) 지역 문화 요소가 우수하다고 인식될 때 주로 나타난다.
- ③ C는 외래 문화가 전통 문화 체계 속으로 흡수되어 나타난 결과이다.
- ④ D는 문화 접변을 통해 (나) 지역에서 (가) 지역 문화 요소에 대한 이질감이 완화됨을 보여준다.
- ⑤ E는 강제적 문화 접변 과정을 통해 문화가 대체되었음을 보여준다.

8. 다음의 (가)~(다)에 해당하는 사회를 <보기>에서 옳게 고른 것은?

(가)~(다)는 각각 농업 사회, 산업 사회, 정보 사회 중 하나이다. 일반적으로 (가)는 (나)보다 가정과 일터의 결합 정도가 강하고, (나)는 (다)보다 산업에서 제조업이 차지하는 비중이 높으며, (다)는 (가)보다 사회 변동 속도가 느리다.

— <보기> —  
 A: 산업 혁명의 확산으로 제조업이 중심이 되는 사회  
 B: 지식과 정보를 기반으로 한 정보 산업이 중심이 되는 사회  
 C: 신석기 혁명으로 전개되어 온 농업 위주의 전통적인 사회

- |   |     |     |     |   |     |     |     |
|---|-----|-----|-----|---|-----|-----|-----|
|   | (가) | (나) | (다) |   | (가) | (나) | (다) |
| ① | A   | B   | C   | ② | B   | A   | C   |
| ③ | B   | C   | A   | ④ | C   | A   | B   |
| ⑤ | C   | B   | A   |   |     |     |     |

9. 밑줄 친 ㉠~㉣에 대한 옳은 설명만을 <보기>에서 있는 대로 고른 것은? [3점]

연구자 갑은 타인의 기대가 있으면 이에 부응하는 쪽으로 행동이 변할 것이라는 가설을 세웠다. 이를 검증하기 위해 ○○ 기업 사원을 대상으로 ㉠업무 수행 능력 검사를 한 후, 각 부서에서 무작위로 ㉡20%의 사원을 선정하였다. 그 명단을 부장에게 주면서 ㉢'업무 수행 능력 점수가 높은 사원들'이라고 믿게 하였고, 부장은 이들을 지속적으로 격려했다. 1년이 지난 후 ㉣동일한 전체 사원을 대상으로 업무 수행 능력 검사를 실시하였다. 그 결과 명단에 속한 사원 집단이 ㉤다른 사원 집단보다 ㉥업무 수행 능력 점수의 향상 정도가 높았다.

— <보기> —  
 가. ㉠은 사전 검사를 통해 2차 자료를 수집하는 방법이다.  
 나. ㉡은 위의 가설을 검증하기 위해 필요한 과정이다.  
 다. ㉢은 실험 집단, ㉣은 통제 집단이다.  
 라. ㉤은 독립 변인, ㉥은 종속 변인이다.

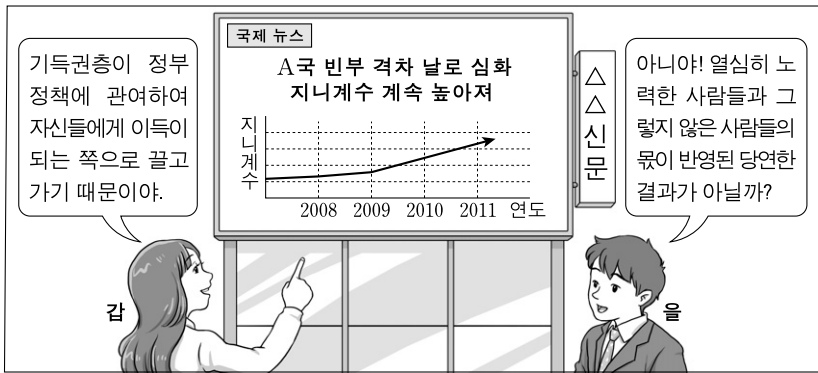
- |           |           |        |
|-----------|-----------|--------|
| ① 가, 다    | ② 가, 라    | ③ 나, 다 |
| ④ 가, 나, 라 | ⑤ 나, 다, 라 |        |

10. 다음 두 가지 사례에서 공통적으로 추론할 수 있는 정보 사회의 특징으로 가장 적절한 것은?

- A사는 매달 다운로드가 많이 되는 자사의 MP3 파일 Top 50곡을 수록한 압축 파일을 제작하여 판매하였다.
- B사는 인터넷 동호회의 요청에 따라 사양을 주문에 맞추어 PC와 서버를 제공하였다.

- ① 기업 간 지식 및 정보 교류가 활발하게 진행된다.
- ② 주문에 의한 생산 체제로 대량의 정보 유통이 가능하게 된다.
- ③ 지식과 정보의 증가로 인해 대중의 정보 판단 능력이 강화된다.
- ④ 기업이 소비자의 선호가 반영된 정보를 선택하려는 경향이 강화된다.
- ⑤ 정보 통신 기술의 활용이 확대됨에 따라 기업의 조직 구조가 유연해진다.

11. 그림에서 사회 불평등 현상을 바라보는 갑, 을의 관점에 대한 설명으로 가장 적절한 것은? [3점]



- ① 갑은 사회 기여 정도에 따라 희소가치가 분배된다고 본다.
- ② 을은 사회 불평등 구조가 궁극적으로 양극화된다고 본다.
- ③ 갑은 을과 달리 사회 불평등의 원인이 사회 구조보다는 개인에게 있다고 본다.
- ④ 갑은 사회 불평등을 보편적인 현상이라고 보고, 을은 극복해야 할 대상이라고 본다.
- ⑤ 갑은 사회 불평등 현상이 상대적 박탈감을 유발한다고 보고, 을은 성취 동기를 자극한다고 본다.

12. 우리나라의 사회 보장 제도 (가)~(다)에 대한 설명으로 옳은 것은? [3점]

(가) 도움이 필요한 대상자들에게 가정이나 지역 사회의 재가 복지 센터를 통해 일상생활을 위한 도움을 주거나 자립할 수 있도록 프로그램을 제공하는 제도  
 (나) 국가가 생활을 유지하기 어려운 계층을 대상으로 진찰이나 수술 등 기본적인 의료 혜택을 제공하는 제도  
 (다) 국민의 질병·부상에 대한 예방·진단·치료·재활과 출산·사망 및 건강 증진에 대해 보험 급여를 실시하는 제도

- ① (가)는 (나)와 달리 소득 재분배 효과가 나타난다.
- ② (나)는 (가)와 달리 수혜 정도에 따라 비용을 부담한다.
- ③ (나)는 (다)와 달리 수혜 대상자 결정에서 소득이 고려된다.
- ④ (가)는 금전적 지원 방식, (다)는 비금전적 지원 방식이 원칙이다.
- ⑤ (나)는 임의 가입 방식, (다)는 강제 가입 방식이 적용된다.

13. 다음 연구에 대한 분석 및 추론으로 가장 적절한 것은?

연구자 갑은 부모와의 유대가 높은 청소년일수록 비행 정도가 낮을 것이라는 가설을 세우고 이를 검증하기 위해 다음과 같이 연구하였다. 먼저 ○○시에 소재하는 중·고등학교 10개교를 선정하고, 각 학교에서 다시 2학년 2개 학급씩을 무작위로 추출한 뒤, 조사원들이 학생들과의 대면 접촉을 통해 구조화된 질문지에 직접 기입하게 하는 방법으로 자료를 수집하였다. 분석 결과, 부모와의 유대는 여자 청소년이 남자 청소년보다 유의미하게 높았고, 비행 건수는 남자 청소년이 여자 청소년보다 유의미하게 많았다.

- ① 가설이 기각되었을 것이다.
- ② 표본이 모집단을 대표하고 있다.
- ③ 귀납적 추론 과정을 거치지 않았다.
- ④ 개념의 조작화가 이루어졌을 것이다.
- ⑤ 양적 연구와 질적 연구가 병행되었다.

14. (가), (나)에서 나타나는 개인과 사회의 관계를 바라보는 관점에 대한 설명으로 가장 적절한 것은?

(가) 전체는 단지 외부의 힘으로부터 각 구성원의 신체와 재산을 방어하고 보호해 주는 하나의 연합 형태일 뿐이다. 따라서 개인이 모여 전체를 이룬다 하더라도 각 개인은 자기 자신에게만 복종하기 때문에 이전과 마찬가지로 여전히 자유로울 수 있다.  
 (나) 인간 개개인은 얼마든지 도덕적일 수 있어도 그런 개인들이 모여 집단이 되면 전혀 다른 특성이 나타난다. 즉 집단으로서 이익을 추구하는 새로운 논리와 생리를 갖게 됨으로써 사회는 비도덕적이 된다.

- ① (가) 관점은 사회를 하나의 유기체로 바라본다.
- ② (가) 관점은 사회의 특성이 개인의 특성을 구속한다고 본다.
- ③ (나) 관점은 개개인의 실천을 통해 사회 문제를 해결할 수 있다고 본다.
- ④ (나) 관점은 사회가 그 자체를 구성하고 있는 부분 요소로 환원될 수 없다고 본다.
- ⑤ (가) 관점은 개인보다 사회를, (나) 관점은 사회보다 개인을 중시한다.

15. 다음 자료에 대한 옳은 분석만을 <보기>에서 있는 대로 고른 것은?

갑국의 A 지역과 B 지역은 각각 농촌과 도시 중 하나를 나타낸다. 일반적으로 A 지역은 B 지역에 비해 익명성이 낮고, 구성원 간 경제적 격차가 작다. 인구 이동은 농촌에서 농촌, 농촌에서 도시, 도시에서 농촌, 도시에서 도시로의 이동으로 이루어지며 각각의 경우에서 매 시기 1회 이상 일어난 것으로 가정한다. 또한 이동한 인구는 한 번씩만 이동한 것으로 가정한다.

〈갑국의 인구 이동 현황〉 (단위: %)

구분		(가) 시기 인구 이동	(나) 시기 인구 이동
		출발 지역	A 지역: 75 B 지역: 25
도착 지역	A 지역	20	40
	B 지역	80	60

— <보기> —

ㄱ. (가) 시기에는 농촌에서 도시로 이동한 인구가 도시에서 농촌으로 이동한 인구의 3배 이상이다.  
 ㄴ. (나) 시기에는 도시에서 농촌으로 이동한 인구보다 농촌에서 도시로 이동한 인구가 많다.  
 ㄷ. 농촌에서 도시로 이동한 인구는 (가) 시기가 (나) 시기보다 많다.  
 ㄹ. (가), (나) 시기 모두 도시에서 도시로 이동한 인구가 농촌에서 농촌으로 이동한 인구보다 많다.

- ① ㄱ, ㄷ
- ② ㄱ, ㄹ
- ③ ㄴ, ㄷ
- ④ ㄱ, ㄴ, ㄹ
- ⑤ ㄴ, ㄷ, ㄹ

16. 문화 이해 태도 A~C에 대한 옳은 진술만을 <보기>에서 있는 대로 고른 것은? (단, A~C는 각각 자문화 중심주의, 문화 상대주의, 문화 상대주의 중 하나이다.)

질문	문화 이해 태도	A	B	C
각 사회가 지니고 있는 문화의 고유한 의미와 가치를 인정하는가?		예	아니오	아니오
자기 문화가 우월하다는 믿음을 바탕으로 타문화를 판단하는가?		아니오	아니오	예

— <보기> —

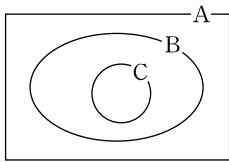
ㄱ. A는 B와 달리 문화의 다양성을 보존하는 데 기여할 수 있다.  
 ㄴ. B는 C와 달리 선진 문물의 수용은 용이하나 문화의 정체성을 상실할 우려가 있다.  
 ㄷ. C는 B와 달리 문화의 우열을 정하는 기준이 존재한다고 본다.  
 ㄹ. C는 A, B와 달리 문화를 평가의 대상으로 본다.

- ① ㄱ, ㄴ                      ② ㄱ, ㄷ                      ③ ㄷ, ㄹ  
 ④ ㄱ, ㄴ, ㄹ                ⑤ ㄴ, ㄷ, ㄹ

[17~18] 다음 자료를 읽고 물음에 답하시오.

<자료 1> 갑은 어려서부터 자연스럽게 자신의 연고 지역팀인 프로야구 ㉠○○팀의 ㉡팬클럽에 가입하여 지금까지 회원으로 활동하고 있다. 그러다가 고교 졸업 후, 내키지 않았지만 △△팀의 연고 지역에 있는 ㉢□□대학교에 진학하였다. 야구를 좋아했던 갑은 ㉣대학 내 야구 동아리에 가입하였고, 훈련과 연습을 하면서 친구들과 친밀하게 지냈다. 하지만 △△팀과 ○○팀의 경기가 열릴 때면 대부분의 야구 동아리 친구들이 일방적으로 △△팀을 응원하기 때문에 소외감을 느끼기도 한다.

<자료 2> 사회 집단 간 관계



\* A~C는 각각 비공식 조직, 이익 사회, 자발적 결사체 중 하나이다.

17. <자료 1>에 나타난 사회 집단과 갑의 관계에 대한 옳은 설명을 <보기>에서 고른 것은?

— <보기> —

ㄱ. 갑에게 대학 내 야구 동아리는 1차 집단적 성격을 갖는다.  
 ㄴ. 갑에게 ○○팀의 팬클럽은 소속 집단이자 내집단이다.  
 ㄷ. 갑에게 □□대학교와 △△팀은 외집단이다.  
 ㄹ. 갑의 소속 집단은 모두 준거 집단이다.

- ① ㄱ, ㄴ    ② ㄱ, ㄷ    ③ ㄴ, ㄷ    ④ ㄴ, ㄹ    ⑤ ㄷ, ㄹ

18. <자료 1>, <자료 2>에 대한 설명으로 옳은 것은? [3점]

- ① B는 이익 사회, C는 비공식 조직에 해당한다.  
 ② ㉡은 B와 C 모두에 해당한다.  
 ③ ㉢은 A와 B 모두에 해당한다.  
 ④ ㉣은 A에 해당하나 B에는 해당하지 않는다.  
 ⑤ ㉠은 A, ㉡은 B, ㉣은 C에 해당한다.

19. 밑줄 친 ㉠~㉣에 대한 옳은 설명만을 <보기>에서 있는 대로 고른 것은? [3점]

<다큐멘터리 등장 인물 소개>

**주인공 갑:** 1960년 집성촌인 ㉠○○마을에서 태어남. 만형의 대학 진학으로 인해 ㉡가족들은 도시로의 이주를 ㉢심각하게 고민하였으나 자신은 부모와 함께 남아 농사를 지음. 얼마 전에 ㉣영농 후계자에 선정되어 ㉤소정의 교육을 이수함. 7년 전 외국인 아내 을과 결혼했음. ... (후략)...

**아내 을:** △△국 출신으로 갑의 아내가 되어 집안의 ㉥맡겨느리 역할을 함. 부업을 하기 위해 읍내 학원에서 운영하는 ㉦제과 제빵 프로그램을 수강하고 있음. 최근 자녀 교육 문제로 ㉧도시로 이주할까 고민 중임. ... (후략)...

— <보기> —

ㄱ. ㉠과 ㉡은 구성원들이 자연 발생적 의지로 결합된 집단으로서 1차적 사회화 기관에 해당한다.  
 ㄴ. ㉢은 갑, ㉣은 을의 역할 갈등이다.  
 ㄷ. 갑에게 ㉤은 성취 지위, 을에게 ㉥은 귀속 지위이다.  
 ㄹ. 갑에게 ㉧은 재사회화, 을에게 ㉦은 예기 사회화에 해당한다.

- ① ㄱ, ㄴ                      ② ㄱ, ㄹ                      ③ ㄴ, ㄷ  
 ④ ㄱ, ㄷ, ㄹ                ⑤ ㄴ, ㄷ, ㄹ

20. 표는 (가), (나) 사회의 세대 간 이동에 따른 계층 구성 비율을 나타낸 것이다. 이에 대한 분석으로 옳은 것은? [3점]

구분	부모의 계층			계	
	A	B	C		
자녀의 계층	A	18	27	5	100
	B	3	28	2	
	C	4	5	8	
계	100				
구분	부모의 계층			계	
	A	B	C		
자녀의 계층	A	8	3	3	100
	B	46	17	2	
	C	6	5	10	
계	100				

\* A, B, C는 각각 상층, 중층, 하층 중 하나에 해당한다.  
 \*\* (가) 사회에서 부모의 계층 구조는 피라미드형 구조이다.

- ① (가) 사회에서 부모의 계층이 자녀의 계층으로 고착화되는 현상은 상층이 가장 심하다.  
 ② (나) 사회는 세대 간 상승 이동이 세대 간 하강 이동보다 더 많다.  
 ③ (가) 사회가 (나) 사회보다 세대 간 수직 이동 비율이 크다.  
 ④ 부모의 계층 중에서 하층 지위가 대물림된 비율은 (나) 사회가 (가) 사회보다 크다.  
 ⑤ 자녀 세대에서는 (나) 사회가 (가) 사회보다 사회 통합에 유리한 계층 구조이다.

\* 확인 사항  
 ○ 답안지의 해당란에 필요한 내용을 정확히 기입(표기)했는지 확인하시오.