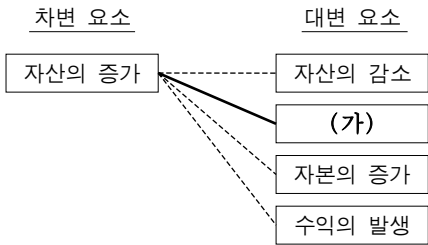


제 4 교시

직업탐구 영역(회계원리)

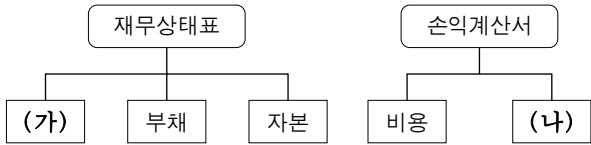
성명  수험 번호

1. 다음은 거래 8요소의 결합 관계 일부이다. 제시된 차변 요소와 대변 요소 (가)의 결합 관계에 해당하는 거래로 옳은 것은?



- ① 은행으로부터 현금 ₩700,000을 차입하다.
- ② 현금 ₩200,000을 출자하여 영업을 시작하다.
- ③ 거래처에 현금 ₩800,000을 6개월간 대여하다.
- ④ 대여금에 대한 이자 ₩500,000을 현금으로 받다.
- ⑤ 상품 ₩900,000을 주문하고 계약금 ₩90,000을 현금으로 지급하다.

2. 다음은 재무상태표와 손익계산서의 구성 요소를 나타낸 것이다. (가), (나)에 속하는 계정과목으로 옳은 것은?



- |         |        |
|---------|--------|
| (가)     | (나)    |
| ① 선수금   | 임대료    |
| ② 특허권   | 이자비용   |
| ③ 선급금   | 세금과공과  |
| ④ 보통예금  | 배당금수익  |
| ⑤ 외상매입금 | 외화환산이익 |

3. 다음은 [화물차 매매 관련 자료]이다. (가), (나)에 들어갈 계정과목으로 옳은 것은?

[화물차 매매 관련 자료]

- 8월 1일 거래  
○○(주)는 △△자동차(주)로부터 업무용 화물차를 ₩3,000,000에 구입하고 대금은 1개월 후에 지급하기로 하다.
- 8월 1일 각 회사별 분개

회사명	차 변	대 변
○○(주)	차량운반구 3,000,000	(가) 3,000,000
△△자동차(주)	(나) 3,000,000	매출 3,000,000

- |         |       |
|---------|-------|
| (가)     | (나)   |
| ① 미지급금  | 가수금   |
| ② 미지급금  | 미수금   |
| ③ 미지급금  | 외상매출금 |
| ④ 외상매입금 | 미수금   |
| ⑤ 외상매입금 | 외상매출금 |

4. 그림은 자본 분류 항목에 대한 스무고개 장면이다. (가)에 속하는 계정과목으로 옳은 것을 <보기>에서 고른 것은? [3점]



— < 보기 > —

ㄱ. 감자차익	ㄴ. 이익준비금
ㄷ. 결손보전적립금	ㄹ. 주식발행초과금

- ① ㄱ, ㄴ
- ② ㄱ, ㄷ
- ③ ㄴ, ㄷ
- ④ ㄴ, ㄹ
- ⑤ ㄷ, ㄹ

5. 다음은 ○○(주)의 2011년 기초 재무상태표 일부와 기중 [거래]이다. 이를 회계 처리한 결과에 대한 설명으로 옳은 것을 <보기>에서 고른 것은? [3점]

재무상태표			
○○(주) 2011년 1월 1일 현재 (단위: 원)			
매출채권	300,000	:	:
대손충당금	(3,000)	:	:

[거래]  
○ 1월 28일 외상매출금 ₩3,500이 거래처 파산으로 회수 불가능하게 되어 대손 처리하다.

— < 보기 > —

ㄱ. 유동부채가 감소한다.	ㄴ. 유동자산이 감소한다.
ㄷ. 영업외비용이 증가한다.	ㄹ. 판매비와관리비가 증가한다.

- ① ㄱ, ㄴ
- ② ㄱ, ㄷ
- ③ ㄴ, ㄷ
- ④ ㄴ, ㄹ
- ⑤ ㄷ, ㄹ

6. 다음은 ○○(주)의 [건물 관련 자료]이다. 이를 회계 처리한 후 알 수 있는 내용으로 옳은 것은? (단, 건물의 잔존가치는 없으며, 제시된 자료 외에는 고려하지 않는다.) [3점]

[건물 관련 자료]

- 취득  
제2기 초에 업무용 건물을 ₩19,500,000에 구입하고 대금은 취득세 및 등기 비용 ₩500,000과 함께 현금으로 지급하다.
- 결산 정리 분개  
- 제2기 말  
(차변) 감가상각비 1,000,000 (대변) 건물감가상각누계액 1,000,000  
- 제3기 말  
(차변) 감가상각비 1,000,000 (대변) 건물감가상각누계액 1,000,000
- 처분  
제3기 말에 위 건물을 ₩19,000,000에 처분하고 대금은 현금으로 받다.

- ① 감가상각 방법은 정률법이다.
- ② 건물의 취득원가는 ₩19,500,000이다.
- ③ 감가상각비의 기장 방법은 직접법이다.
- ④ 건물의 처분 손실액은 ₩1,000,000이다.
- ⑤ 제2기 말 건물의 장부금액은 ₩19,000,000이다.

7. 그림은 ○○(주)의 여유 자금 활용 방안에 관한 대화 장면이다. 대화 결과를 실행하여 회계 처리할 경우 증가하는 자산의 분류 항목으로 옳은 것은?



- ① 당좌자산                      ② 재고자산                      ③ 투자자산
- ④ 무형자산                      ⑤ 기타비유동자산

8. 다음 기사 내용에서 △△(주)가 지출한 비용을 회계 처리할 때 차변 계정과목으로 옳은 것은?

△△(주)는 자사의 브랜드를 홍보하기 위하여 런던올림픽에 출전하는 유명 선수들을 모델로 한 TV 광고에 많은 비용을 지출하였다.  
- ○○신문, 2012년 8월 3일자 -

- ① 통신비                      ② 광고선전비                      ③ 세금과공과
- ④ 수수료비용                      ⑤ 여비교통비

9. 다음은 ○○(주)의 지출결의서 일부이다. 이를 집행하여 회계 처리한 후 손익계산서에 미치는 영향으로 옳은 것은? [3점]

**지출결의서**

결재	계	과장	부장
	한부	모욕	평기

직원 단합을 위한 등반대회 경비를 청구합니다.

1. 직원 식사비	₩300,000
2. 기념품 구입비	₩500,000
합계	₩800,000

- ① 영업이익이 증가된다.
- ② 매출총이익이 감소된다.
- ③ 영업외비용이 증가된다.
- ④ 영업외수익이 감소된다.
- ⑤ 판매비와관리비가 증가된다.

10. 다음은 ○○(주)의 [상품 관련 자료]이다. 이를 회계 처리한 결과에 대한 내용으로 옳은 것은? (단, A상품만 취급하며, 제시된 자료 외에는 고려하지 않는다.) [3점]

[상품 관련 자료]

**상품재고장**

(선입선출법)                      품명: A상품                      (단위: 개, 원)

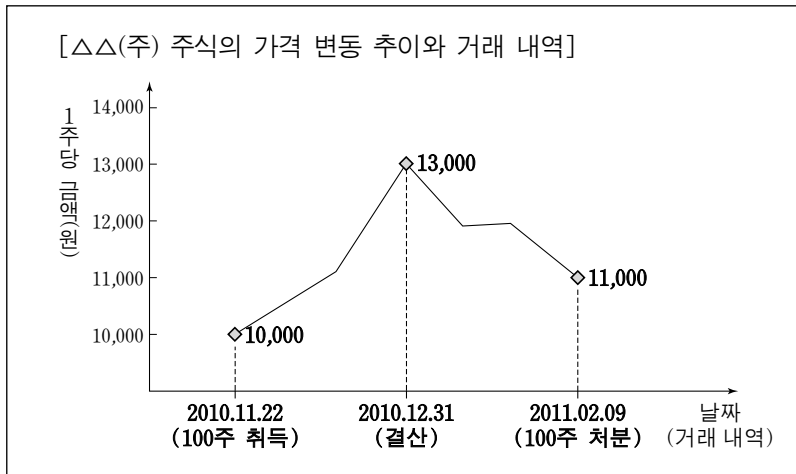
월	일	적요	인수		인도		잔액			
			수량	단가	금액	수량	단가	금액	수량	단가
12	1	전월이월	50	800	40,000			50	800	40,000
	31	차월이월				30	1,000	30,000		
				900	920,000	900		920,000		

※ 1월부터 11월까지 상품 거래는 없다.  
※ 상품과 관련된 환입, 환출, 에누리, 할인은 없다.

○ 기말 상품 재고 관련 자료  
- 실제 재고: 20개(감모 수량 중 6개만 원가성이 있다.)  
- 순실현가능가치(시가): @₩900

- ① 순매입액은 ₩920,000이다.
- ② 상품 매출원가는 ₩898,000이다.
- ③ 상품 판매가능액은 ₩950,000이다.
- ④ 재고자산 평가 손실액은 ₩3,000이다.
- ⑤ 영업외비용으로 처리하는 금액은 ₩3,600이다.

11. 다음은 ○○(주)가 단기 매매 차익을 얻을 목적으로 취득한 [△△(주) 주식의 가격 변동 추이와 거래 내역]을 나타낸 것이다. 이를 회계 처리한 후 나타나는 처분 손익 계정과목과 그 금액으로 옳은 것은? (단, 취득한 주식은 매수와 매도가 적극적이고 빈번하게 이루어지며, 제시된 자료 외에는 고려하지 않는다.) [3점]



- | 계정과목         | 금액       |
|--------------|----------|
| ① 단기투자자산처분손실 | ₩100,000 |
| ② 단기투자자산처분손실 | ₩200,000 |
| ③ 단기투자자산처분손실 | ₩300,000 |
| ④ 단기투자자산처분이익 | ₩100,000 |
| ⑤ 단기투자자산처분이익 | ₩200,000 |

12. 다음은 ○○(주)의 수정 전 잔액시산표 일부와 [결산 정리 사항]이다. 이를 회계 처리한 후 알 수 있는 내용으로 옳은 것은? [3점]

차 변	원면	계정과목	대 변
100,000	생 략	현 금	
150,000		당 좌 예 금	
90,000		단 기 대 여 금	
220,000		외 상 매 출 금	
100,000		받 을 어 음	
50,000		이 월 상 품	
70,000		소 모 품	
		가 수 금	20,000

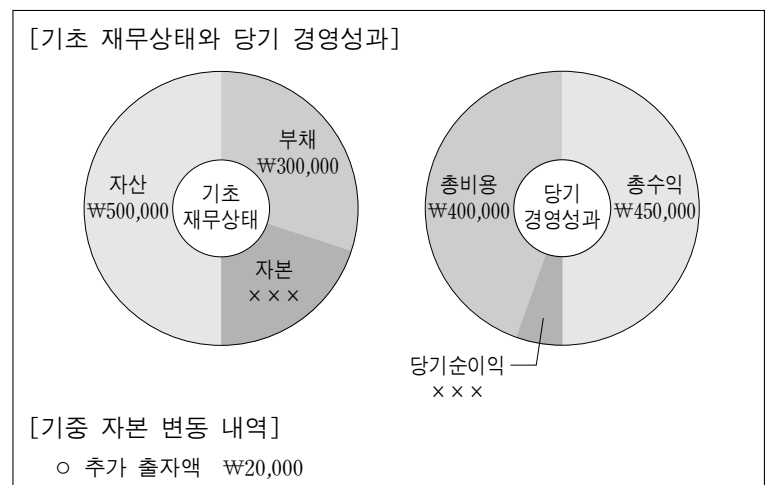
- ① 소모품비는 ₩70,000이다.
- ② 매출채권은 ₩300,000이다.
- ③ 단기투자자산은 ₩240,000이다.
- ④ 기초상품재고액은 ₩120,000이다.
- ⑤ 현금및현금성자산은 ₩100,000이다.

13. 다음은 ○○(주)의 분개장 일부이다. (가)에 들어갈 계정과목으로 옳은 것은?

월 일	적 요	원면	차 변	대 변
10 17	(가)	생	500,000	500,000
	불우이웃 돕기 성금 지급 (현 금)	략		

- ① 기부금
- ② 잡손실
- ③ 접대비
- ④ 복리후생비
- ⑤ 수도광열비

14. 다음은 개인기업인 ○○상점의 2011년 [기초 재무상태와 당기 경영성과] 및 [기중 자본 변동 내역]을 나타낸 것이다. 기말 자본을 계산한 금액으로 옳은 것은? (단, 제시된 자료 외에는 고려하지 않는다.)



- ① ₩200,000
- ② ₩220,000
- ③ ₩230,000
- ④ ₩250,000
- ⑤ ₩270,000

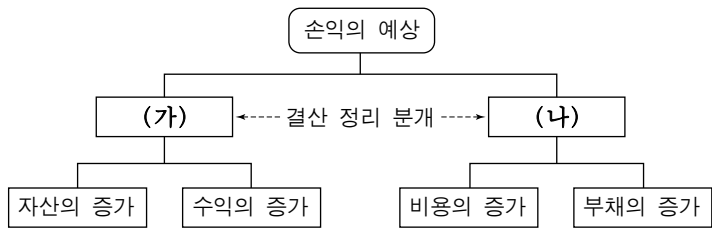
15. 다음 전표의 내용을 총계정원장에 직접 전기할 때 (가)에 들어갈 계정과목으로 옳은 것은?

계정과목	비 품	거래처	○○ 컴퓨터						
적 요	금 액								
업무용 컴퓨터 3대 @₩1,000,000 구입			3	0	0	0	0	0	0
합 계			₩ 3	0	0	0	0	0	0

9/10 (가) 3,000,000

- ① 비품
- ② 상품
- ③ 현금
- ④ 외상매입금
- ⑤ 외상매출금

16. 다음은 손익의 예상에 따른 회계 처리가 재무제표에 미치는 영향을 나타낸 것이다. (가), (나)에 해당하는 결산 정리 사항을 추정한 내용으로 옳은 것을 <보기>에서 고른 것은? [3점]



- <보기>
- ㄱ. 보험료 선급분을 계상하다.
  - ㄴ. 임대료 선수분을 계상하다.
  - ㄷ. 이자수익 미수분을 계상하다.
  - ㄹ. 이자비용 미지급분을 계상하다.

- |   |     |     |   |     |     |
|---|-----|-----|---|-----|-----|
|   | (가) | (나) |   | (가) | (나) |
| ① | ㄱ   | ㄴ   | ② | ㄱ   | ㄷ   |
| ③ | ㄴ   | ㄷ   | ④ | ㄴ   | ㄹ   |
| ⑤ | ㄷ   | ㄹ   |   |     |     |

17. 다음은 ○○(주)의 총계정원장 일부이다. 당기 상품 순매입액을 계산한 금액으로 옳은 것은?

		매 입			
:	:	12/31	이월상품	300,000	:
12/31	이월상품	12/31	손 익	× × ×	:
	200,000			4,200,000	
	4,200,000			4,200,000	

		손 익			
12/31	매 입	3,400,000	12/31	매 출	4,000,000
:	:	:	:	:	:
	× × ×			× × ×	
	× × ×			× × ×	

- ① ₩3,500,000
- ② ₩3,600,000
- ③ ₩3,700,000
- ④ ₩3,800,000
- ⑤ ₩3,900,000

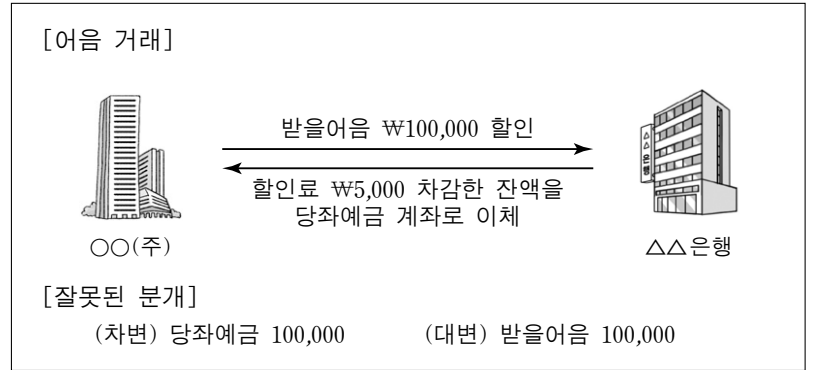
18. 다음은 일반기업회계기준 중 어느 자산 항목에 관한 내용의 일부이다. (가)에 속하는 계정과목으로 옳은 것을 <보기>에서 고른 것은?

(가)은 재화의 생산, 용역의 제공, 타인에 대한 임대 또는 자체적으로 사용할 목적으로 보유하는 물리적 형태가 있는 자산으로서, 1년을 초과하여 사용할 것이 예상되는 자산을 말한다.

- 한국회계기준원, 「일반기업회계기준 제10장」-

- <보기>
- ㄱ. 건물
  - ㄴ. 기계장치
  - ㄷ. 디자인권
  - ㄹ. 장기대여금
- ① ㄱ, ㄴ
  - ② ㄱ, ㄷ
  - ③ ㄴ, ㄷ
  - ④ ㄴ, ㄹ
  - ⑤ ㄷ, ㄹ

19. 다음은 ○○(주)의 2011년 9월 3일 [어음 거래]와 [잘못된 분개]를 나타낸 것이다. 잘못된 분개 결과가 재무제표에 미치는 영향으로 옳은 것을 <보기>에서 고른 것은? (단, 어음 할인의 회계 처리는 매각 거래로 한다.) [3점]



- <보기>
- ㄱ. 부채의 과소 계상
  - ㄴ. 비용의 과소 계상
  - ㄷ. 수익의 과대 계상
  - ㄹ. 자산의 과대 계상
- ① ㄱ, ㄴ
  - ② ㄱ, ㄷ
  - ③ ㄴ, ㄷ
  - ④ ㄴ, ㄹ
  - ⑤ ㄷ, ㄹ

20. 다음은 ○○(주)의 2011년 [사채 관련 분개]이다. 이를 통해 알 수 있는 내용으로 옳은 것만을 <보기>에서 있는 대로 고른 것은? (단, 사채발행비는 없으며, 제시된 자료 외에는 고려하지 않는다.) [3점]

[사채 관련 분개]

- 1월 1일(발행)
 

(차변) 현금	95,196	(대변) 사채	100,000
		사채할인발행차금	4,804
- 12월 31일(결산)
 

(차변) 이자비용	11,424	(대변) 현금	10,000
		사채할인발행차금	1,424
- 12월 31일(매입 상황)
 

(차변) 사채	100,000	(대변) 현금	96,000
		사채할인발행차금	3,380
		사채상환이익	620

- <보기>
- ㄱ. 사채의 발행금액은 ₩100,000이다.
  - ㄴ. 사채 상환 시 사채의 장부금액은 ₩96,620이다.
  - ㄷ. 사채 발행 시 유효이자율이 액면이자율보다 높다.
- ① ㄱ
  - ② ㄷ
  - ③ ㄱ, ㄴ
  - ④ ㄴ, ㄷ
  - ⑤ ㄱ, ㄴ, ㄷ

\* 확인 사항

- 답안지의 해당란에 필요한 내용을 정확히 기입(표기)했는지 확인 하시오.