

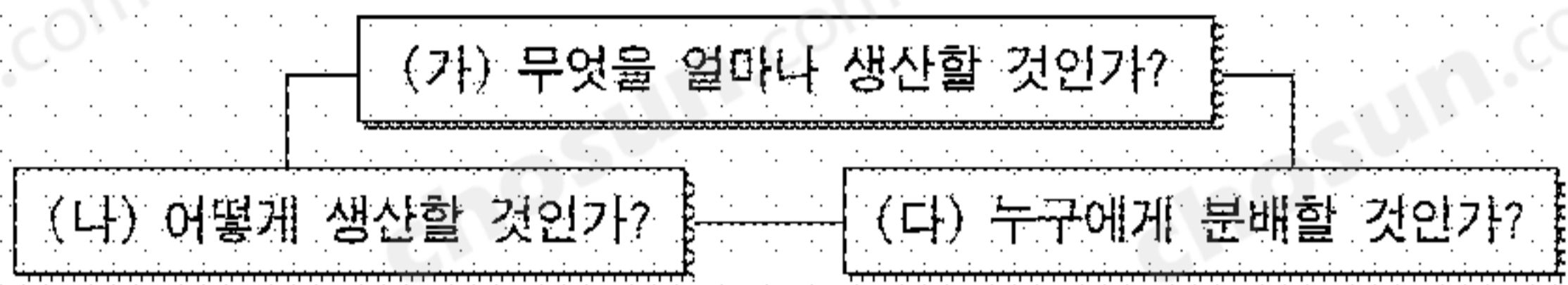
제 4 교시

사회탐구 영역(경제)

성명  수험 번호

- 자신이 선택한 과목의 문제지인지 확인하십시오.
- 문제지에 성명과 수험 번호를 정확히 써 넣으십시오.
- 답안지에 성명과 수험 번호를 써 넣고, 또 수험 번호와 답을 정확히 표시하십시오.
- 과목을 선택한 순서대로 풀고, 답은 답안지의 '제1선택'란에서부터 차례대로 표시하십시오.
- 문항에 따라 배점이 다르니, 각 물음의 끝에 표시된 배점을 참고하십시오. 3점 문항에만 점수가 표시되어 있습니다. 점수 표시가 없는 문항은 모두 2점입니다.

1. 기본적인 경제 문제를 나타낸 그림이다. 이와 관련된 사례를 <보기>에서 골라 바르게 연결한 것은? [3점]



<보 기>

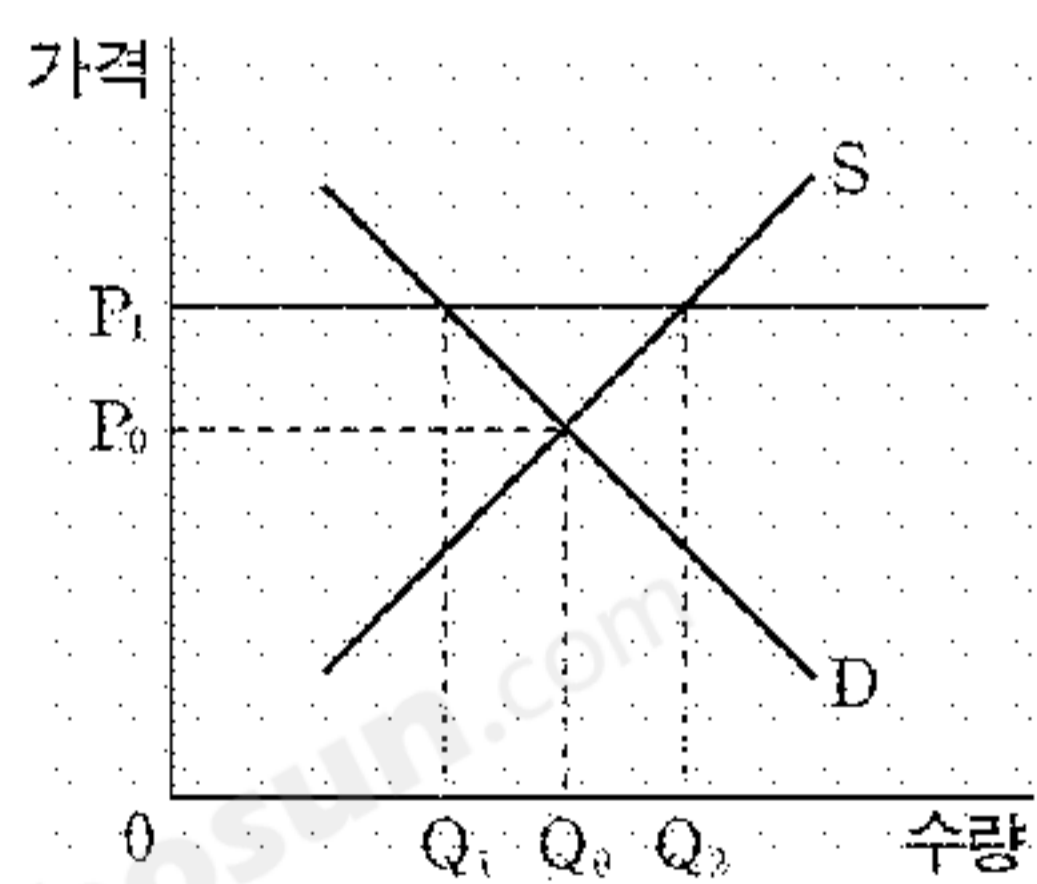
ㄱ. 갑 선생님은 이번 학기에 경제와 사회·문화 과목을 강의하기로 하였다.

ㄴ. 을 회사는 영업 실적이 좋은 사원에게 더 많은 성과급을 지급하기로 하였다.

ㄷ. 병 회사는 사원 수를 늘릴 것인지, 공장 자동화 설비를 늘릴 것인지에 대해 고민하고 있다.

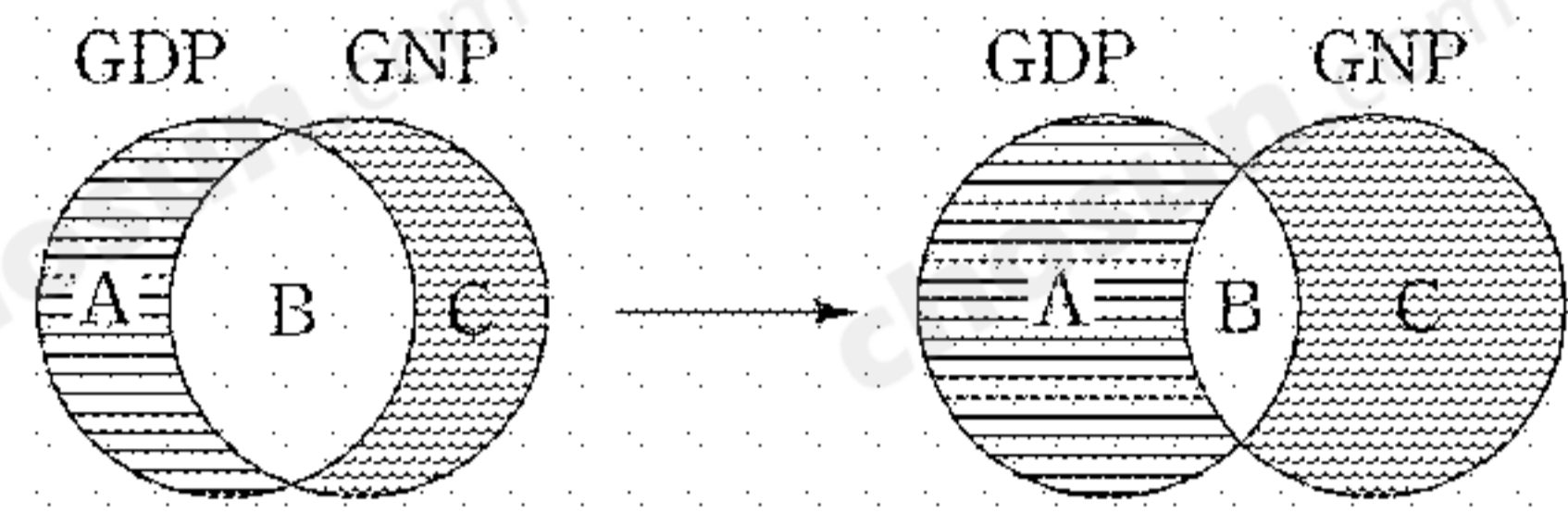
- |   |     |     |     |   |     |     |     |
|---|-----|-----|-----|---|-----|-----|-----|
|   | (가) | (나) | (다) |   | (가) | (나) | (다) |
| ① | ㄱ   | ㄴ   | ㄷ   | ② | ㄱ   | ㄷ   | ㄴ   |
| ③ | ㄴ   | ㄱ   | ㄷ   | ④ | ㄴ   | ㄷ   | ㄱ   |
| ⑤ | ㄷ   | ㄱ   | ㄴ   |   |     |     |     |

2. 정부가 시장에서 가격을  $P_1$ 으로 규제한 것을 나타낸 그림이다. 이에 대해 옳게 설명한 것은? [3점]



- ① 수요량은  $Q_0$ 에서  $Q_1$ 으로 감소한다.
- ② 정부가 물가 폭등을 막기 위해 실시한다.
- ③ 노동 시장이라면  $Q_0Q_2$  수준의 실업자가 발생한다.
- ④  $Q_1Q_2$  수준의 초과 수요가 발생하여 암시장이 형성된다.
- ⑤ 정부의 가격 규제가 없어진다면, 가격은  $P_1$  수준 이상으로 상승한다.

3. 그림은 GDP와 GNP의 관계가 변화한 경우를 나타낸 것이다. 이와 관련한 옳은 설명을 <보기>에서 모두 고른 것은? (단, A와 B는 GDP에서 차지하는 비중을, B와 C는 GNP에서 차지하는 비중을 의미하며 GDP와 GNP의 크기는 같다고 가정한다.) [3점]



<보 기>

ㄱ. 내국인의 국내 소득이 GDP에서 차지하는 비중은 커졌다.

ㄴ. 내국인의 해외 소득이 GNP에서 차지하는 비중은 작아졌다.

ㄷ. A는 외국인의 국내 소득이 GDP에서 차지하는 비중을 의미한다.

ㄹ. 세계화가 위 그림의 변화를 초래한 요인 중의 하나라고 말할 수 있다.

- ① ㄱ, ㄴ    ② ㄱ, ㄷ    ③ ㄴ, ㄷ    ④ ㄴ, ㄹ    ⑤ ㄷ, ㄹ

4. 기사 내용을 보고 국내 마늘 시장에 나타날 균형 가격과 균형 거래량의 변화를 옳게 예측한 것은?

△△일보 ○○○○년 ○월 ○일

“마늘, 암 발생 억제에 효과 있어”    “정부, 마늘에 대한 수입 관세 폐지”  
 국립 암 센터 연구팀 밝혀            외국에서 수입 급증할 듯

- |   |       |        |       |           |
|---|-------|--------|-------|-----------|
|   | 균형 가격 | 균형 거래량 | 균형 가격 | 균형 거래량    |
| ① | 상승    | 증가     | ②     | 상승    감소  |
| ③ | 하락    | 감소     | ④     | 하락    불분명 |
| ⑤ | 불분명   | 증가     |       |           |

5. 다음 사례를 통해 내릴 수 있는 결론으로 가장 타당한 것은?

A국은 탈세를 방지하기 위하여 ‘영수증 주고 받기’ 캠페인을 벌였으나 별로 효과가 없었다. 그 대책으로 모든 거래의 영수증에 번호를 부여하고 주기적으로 추첨해 당첨금과 경품을 지급하였다. 그러자 이 나라에서는 아무리 적은 금액이라도 영수증을 주고 받는 것이 당연하게 되었다.

- ① 모든 자원은 희소하다.
- ② 거래는 모두를 이롭게 한다.
- ③ 사람들은 경제적 유인에 반응한다.
- ④ 공정성은 경쟁을 통해서 달성할 수 있다.
- ⑤ 효율성과 공정성을 동시에 달성할 수 없다.

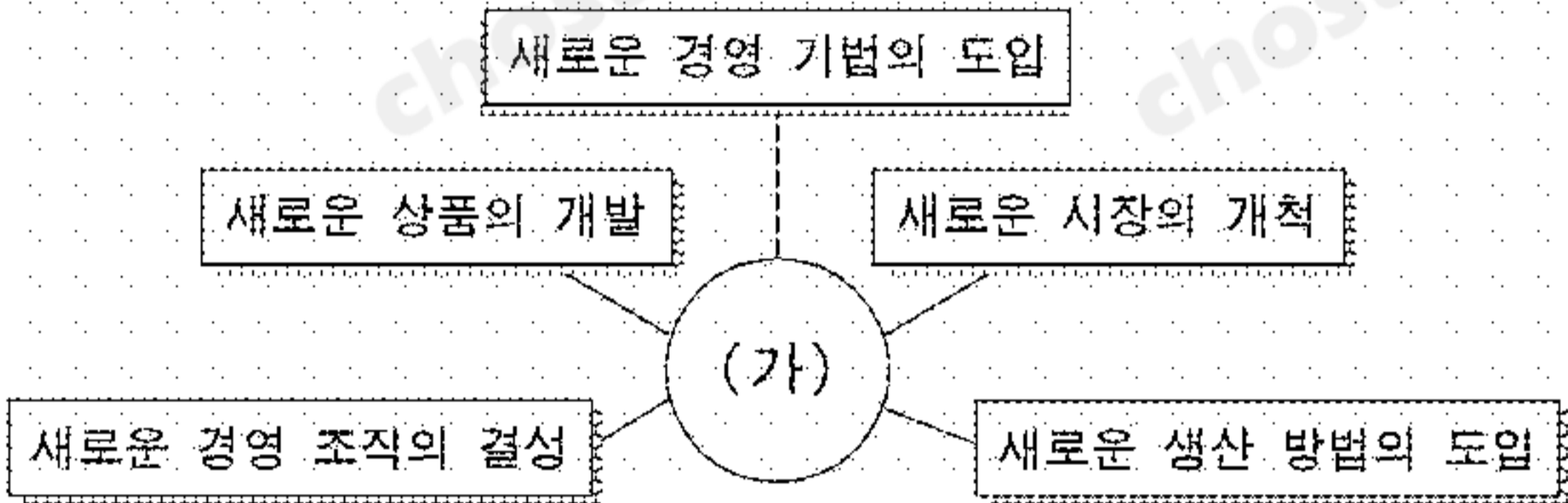
6. A와 B 컴퓨터 중에서 한 대를 구입하고자 한다. 자료에 대한 옳은 설명이나, 자료에 근거한 합리적 선택을 <보기>에서 모두 고른 것은? (단, A와 B 컴퓨터는 소비자에게 동일한 만족을 준다.) [3점]

판매업체	가격		배송료 (구매자 부담)	판매업체 신뢰도
	A 컴퓨터	B 컴퓨터		
(가)	156만원	156만원	2만원	하
(나)	158만원	157만원	없음	상
(다)	159만원	158만원	2만원	상

<보 기>  
 ㄱ. 판매업체의 신뢰도가 같으면 컴퓨터의 가격도 같다.  
 ㄴ. A 컴퓨터를 구입하려면 (나) 판매업체에서 구입하여야 한다.  
 ㄷ. 최소 비용으로 최대 만족을 얻으려면 B 컴퓨터를 구입하여야 한다.

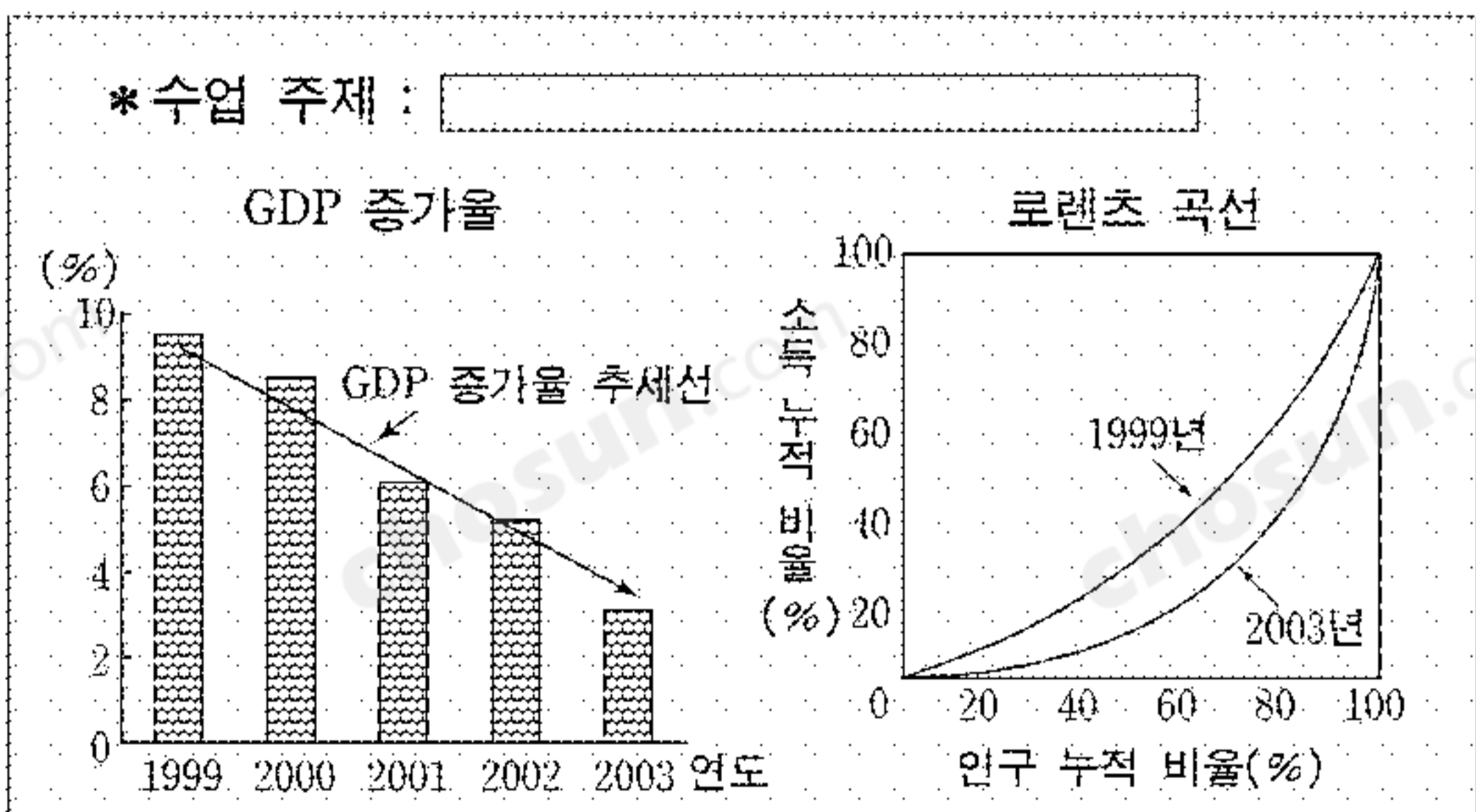
- ① ㄱ    ② ㄴ    ③ ㄱ, ㄷ    ④ ㄴ, ㄷ    ⑤ ㄱ, ㄴ, ㄷ

7. 그림에 제시된 (가)의 구체적 사례와 거리가 먼 것은?



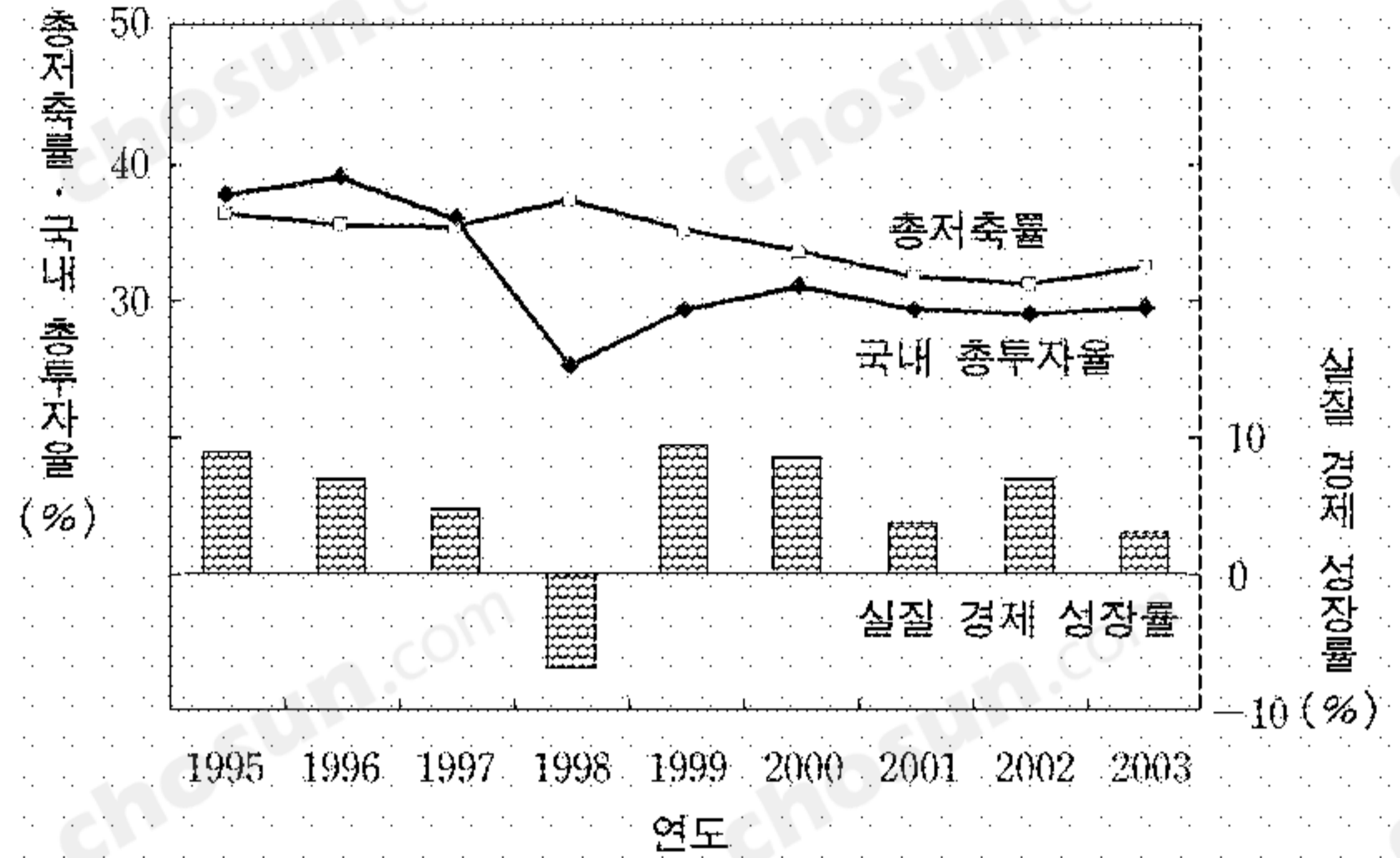
- ① 자동차 수요가 일시적으로 급증하자 야간 근로 시간을 늘렸다.  
 ② 전자 상거래와 홈쇼핑 제도를 도입함으로써 물류 비용을 크게 줄였다.  
 ③ 강력한 구조 조정과 팀제 도입을 통해 기업 경영의 효율성을 향상시켰다.  
 ④ 강철 대신에 신소재를 사용한 경량(輕量) 자동차를 생산하여 부가가치를 크게 높였다.  
 ⑤ 수출 다변화 전략을 통해 중국 시장에 집중되었던 휴대 전화의 수출을 유럽 시장까지 확대시켰다.

8. 경제 수업 시간에 제시된 자료이다. 이 자료에 알맞은 수업 주제로 가장 타당한 것은?



- ① 성장과 분배                      ② 실물 부문과 화폐 부문  
 ③ 내수 확대와 수출 정책        ④ 확장 정책과 긴축 정책  
 ⑤ 수요와 공급의 가격 탄력성

9. 총저축률, 국내 총투자율, 실질 경제 성장률을 나타낸 그림이다. 이에 대한 옳은 해석을 <보기>에서 모두 고른 것은? [3점]



<보 기>  
 ㄱ. 총저축률이 상승하면 실질 경제 성장률도 높아진다.  
 ㄴ. 2003년에 전년 대비 실질 국내 총생산은 감소하였다.  
 ㄷ. 2003년의 국내 총투자율은 1997년 수준을 회복하지 못하였다.  
 ㄹ. 1998년부터 2003년 사이에는 총저축률이 국내 총투자율보다 높았다.

- ① ㄱ, ㄴ    ② ㄱ, ㄷ    ③ ㄴ, ㄷ    ④ ㄴ, ㄹ    ⑤ ㄷ, ㄹ

10. 환경 문제와 관련된 글이다. 밑줄 친 내용에 대한 설명으로 옳지 않은 것은?

환경 오염의 경우처럼 외부 불경제가 발생하면, ㉠ 기업의 이윤 극대화를 충족시켜 주는 생산량과 사회적으로 바람직한 수준의 생산량은 일치하지 않는다. 또 ㉡ 환경 정화 시설은 정화 비용을 지불하지 않는 제3자들도 그 혜택을 누릴 수 있다는 특성 때문에 정부가 직접 나서서 그 시설을 확충하기도 한다. 게다가 오염을 야기한 주체가 그로 인해 피해를 입은 사람들에게 보상을 해주지 않기 때문에 ㉢ 환경 오염이 사회적 감동을 초래하는 경우도 종종 발생한다. 최근에는 웰빙 바람과 함께 건강에 대한 사람들의 관심도가 높아지면서 환경 오염이 ㉣ 재화의 성격마저 크게 변화시키는 양상을 보이고 있다.

- ① ㉠에서 기업의 생산량은 사회적으로 바람직한 수준의 생산량보다 적다.  
 ② ㉡은 공공재의 특성을 설명하고 있다.  
 ③ ㉠과 ㉡은 시장 실패와 관련되어 있다.  
 ④ 강 상류의 폐수 방출 기업과 그 강물을 식수로 사용하는 하류 지역 주민들 간의 마찰이 ㉢의 한 사례이다.  
 ⑤ 깨끗한 공기도 경제재가 될 수 있음은 ㉣의 한 사례이다.

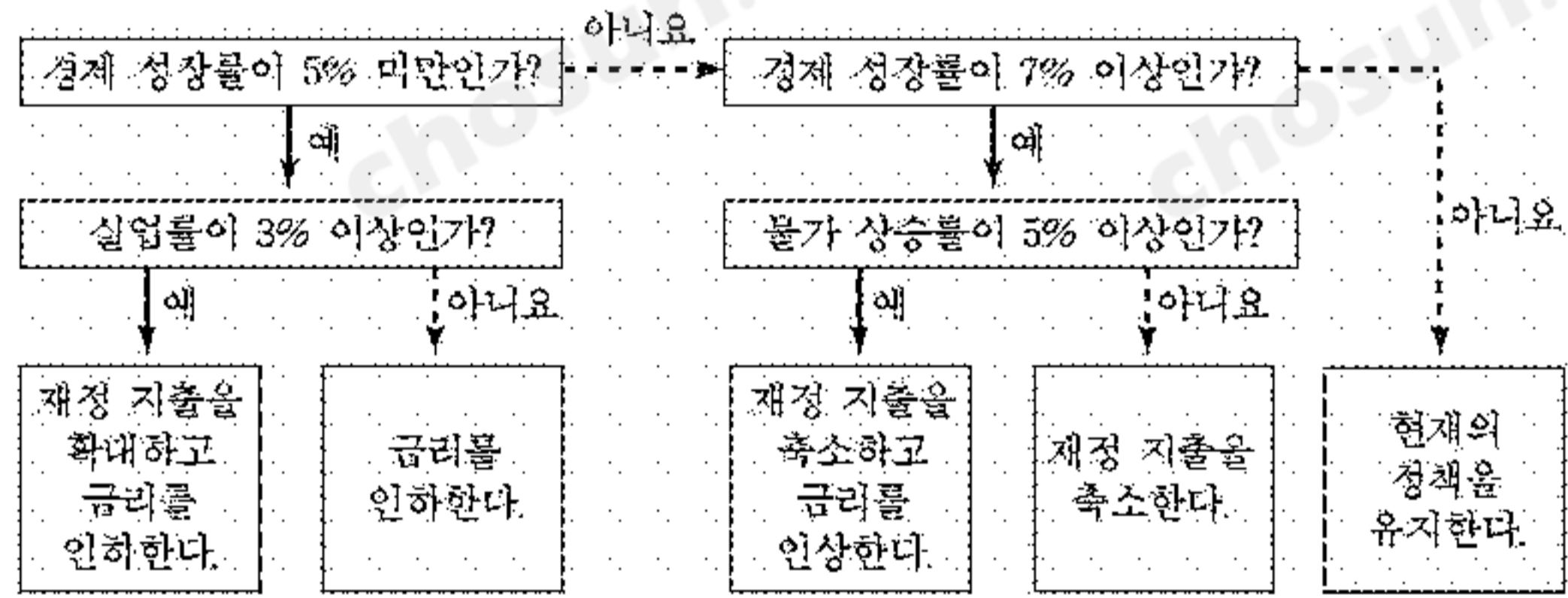
11. 모든 사람들이 다음 글에서와 같이 식사한다고 가정할 때, 옳게 추론한 내용을 <보기>에서 모두 고른 것은? [3점]

음식에는 궁합이 있다. 예를 들어 표고 버섯은 돼지 고기의 콜레스테롤이 체내에 흡수되는 것을 억제시키고 누린내를 없애 주기 때문에 돼지 고기와 같이 먹는 것이 좋다. 표고 버섯 대신에 느타리 버섯을 돼지 고기와 같이 먹어도 좋다.

- <보 기>
- ㄱ. 표고 버섯과 느타리 버섯은 대체재이다.
  - ㄴ. 돼지 고기의 수요가 감소하면 표고 버섯의 가격은 상승한다.
  - ㄷ. 표고 버섯의 공급이 감소하면 느타리 버섯의 가격은 상승한다.

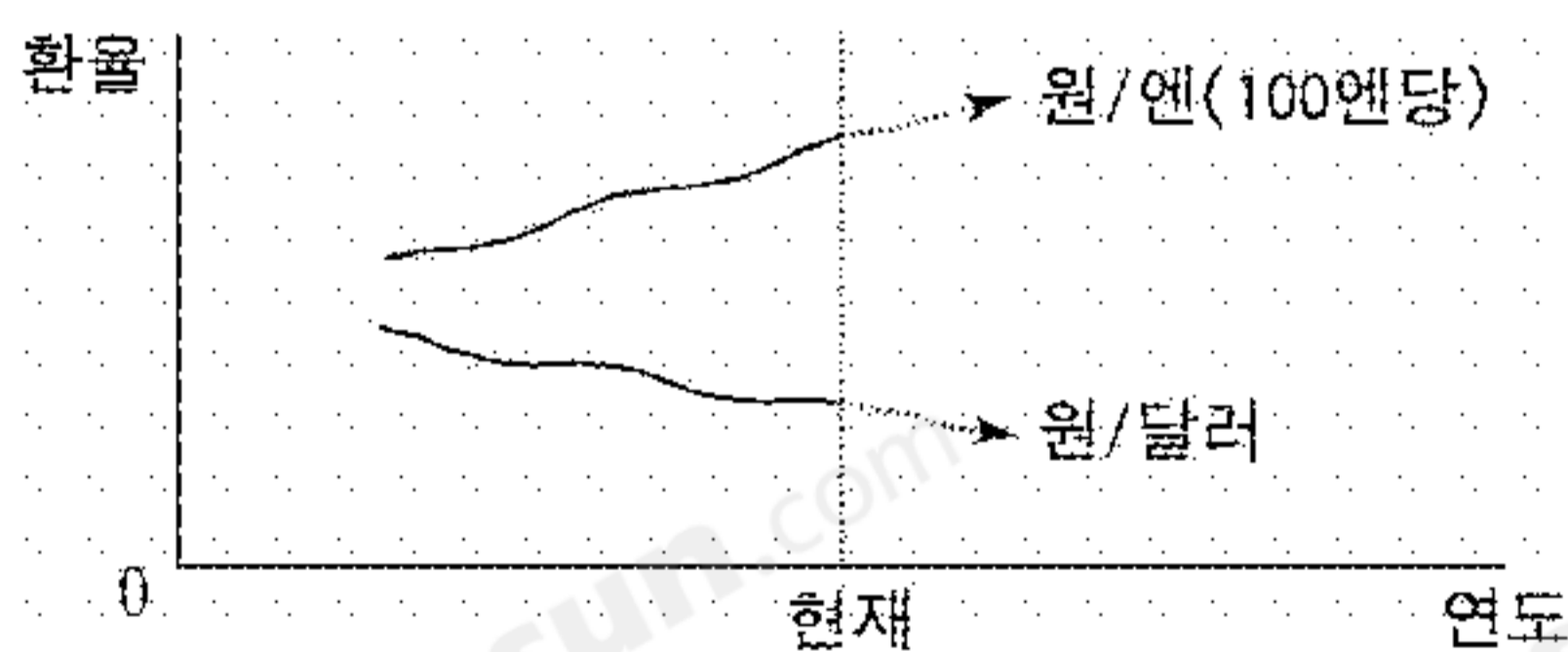
- ① ㄱ      ② ㄴ      ③ ㄷ      ④ ㄱ, ㄴ      ⑤ ㄱ, ㄷ

12. A국의 경제 정책에 대한 의사 결정 과정을 보여 주는 그림이다. 이에 근거한 진술로 가장 타당한 것은?



- ① 실업률이 2%이면 재정 지출을 확대한다.
- ② 경제 성장률이 7% 이상이면 현재의 정책을 유지한다.
- ③ 경제 정책을 결정할 때 경제 성장률을 우선적으로 고려한다.
- ④ 경제 성장률이 2%이고 물가 상승률이 5%인 때는 금리를 인상한다.
- ⑤ 재정 지출을 축소하고 금리를 인상하면 경제 성장률을 높일 수 있다.

13. 미 달러화와 엔화에 대한 원화의 환율 변동 추세를 나타낸 그림이다. 이러한 추세가 지속될 것으로 예상할 때, 현 시점에서 합리적으로 판단하고 있는 사람을 <보기>에서 모두 고른 것은? [3점]



- <보 기>
- 갑 : 엔화로 표시된 외채의 상환을 미뤄야겠어.
  - 을 : 지난 미국 출장에서 남은 달러를 빨리 원화로 바꿔야겠어.
  - 병 : 결혼 25주년을 기념하는 일본 여행을 빨리 다녀와야겠어.
  - 정 : 미국에서 수입한 자동차의 대금을 서둘러 결제해야겠어.

- ① 갑, 을      ② 갑, 병      ③ 을, 병      ④ 을, 정      ⑤ 병, 정

14. 취직 시험을 앞둔 갑은 다음 자료를 바탕으로 남은 3일을 영어와 상식 과목 공부에 배분하고자 한다. 갑의 합리적 선택과 관련하여 옳은 서술을 <보기>에서 모두 고른 것은? (단, 하루에 한 과목만 공부한다.) [3점]

합격 가능 최저 점수

회사 \ 과목	영어	상식
A 회사	75점	80점
B 회사	80점	75점

공부 일수별 예상 취득 점수

과목 \ 일수	0일	1일	2일	3일
영어	70점	75점	80점	85점
상식	71점	75점	78점	80점

- <보 기>
- ㄱ. 영어 점수 5점을 높이기 위한 기회 비용은 변하지 않는다.
  - ㄴ. A와 B 이외의 회사를 목표로 해도 공부 일수의 배분에는 변함이 없다.
  - ㄷ. A 회사보다는 B 회사에 합격하는 것을 목표로 공부하는 것이 합리적이다.
  - ㄹ. 3일 동안 상식만 공부할 수 없는 이유는 시간이란 자원이 한정되어 있기 때문이다.

- ① ㄱ, ㄴ      ② ㄱ, ㄷ      ③ ㄴ, ㄷ      ④ ㄴ, ㄹ      ⑤ ㄷ, ㄹ

15. 다음은 우리나라의 국제 수지표이다. ㉠~㉤ 항목에 해당하는 사례로 옳은 것은?

구분	지급	수취
경상 수지		
상품 수지(재화의 수출과 수입)	㉠	
서비스 수지(운수, 여행 등)		㉡
소득 수지(임금, 이자, 배당 등)		㉢
경상 이전 수지(개인 송금, 국제 기구 출연금 등)	㉣	
자본 수지		
투자 수지(차관, 해외 투자 등)		㉤
기타 자본 수지(자본 이전 등)		

- ① ㉠ : 국내 반도체 제조업체가 반도체를 수출한 후, 2억 달러의 대금을 받았다.
- ② ㉡ : 해외에 취업 중인 한국인이 자신의 임금 2만 달러를 국내의 가족에게 송금하였다.
- ③ ㉢ : 국내 기업이 외국의 해운 업체에 30만 달러의 운송 대금을 지불하였다.
- ④ ㉣ : 우리 정부가 지진 피해를 입은 외국에 무상으로 50만 달러를 원조하였다.
- ⑤ ㉤ : 국내 식품 업체가 외국에 공장을 짓기 위해 200만 달러를 새로 투자하였다.

16. A국과 B국이 휴대 전화 1단위와 에어컨 1단위를 생산하는 데 투입되는 노동자 수를 나타낸 표이다. 이에 대한 옳은 분석을 <보기>에서 모두 고른 것은? (단, 휴대 전화와 에어컨의 교역 조건은 1대 1이다.) [3점]

(단위 : 명)

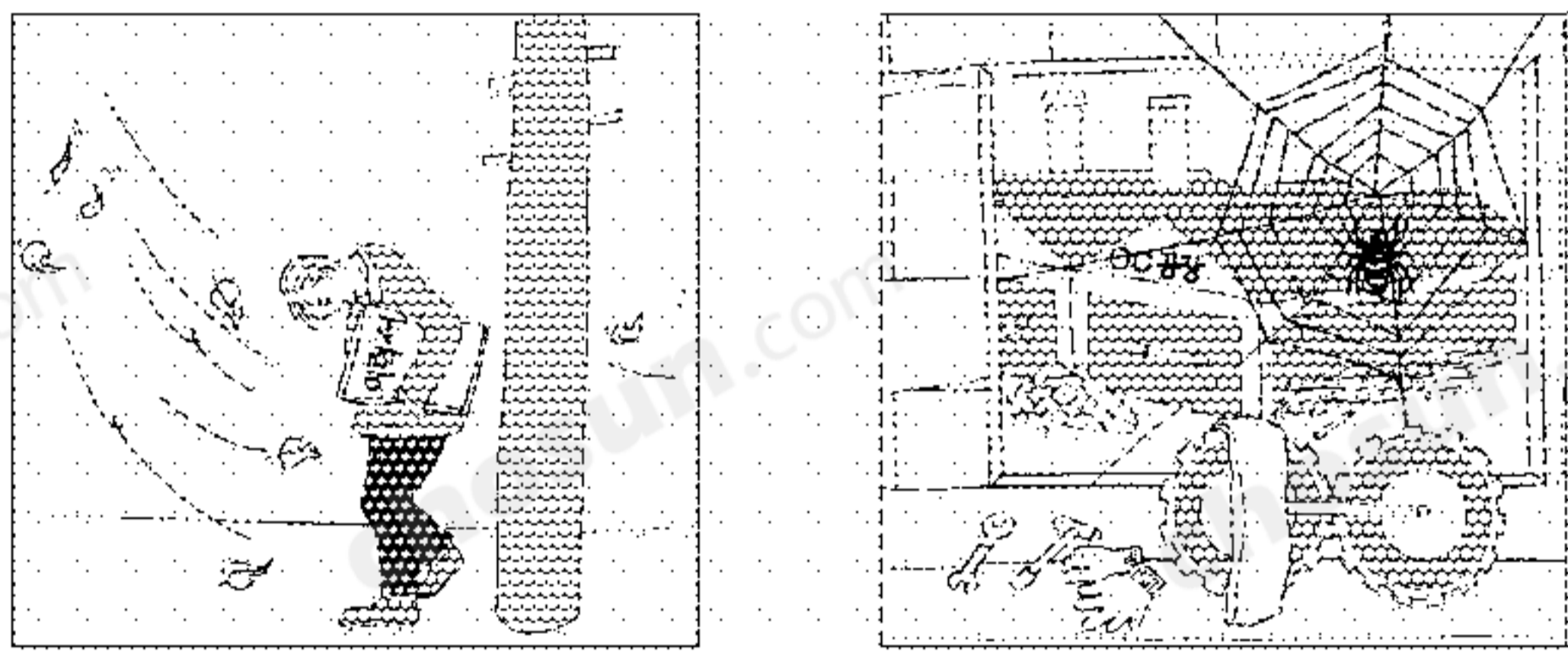
상품 \ 국가	A국	B국
휴대 전화	10	8
에어컨	12	5

<보 기>

- ㄱ. A국은 휴대 전화에, B국은 에어컨에 절대 우위가 있다.
- ㄴ. A국은 휴대 전화를, B국은 에어컨을 특화·생산하는 것이 유리하다.
- ㄷ. A국이 특화한 상품을 2단위 생산하여 1단위를 교역할 경우, 3명의 노동력 절감 효과를 거둘 수 있다.
- ㄹ. B국이 특화한 상품을 2단위 생산하여 1단위를 교역할 경우, 특화 상품의 0.6단위에 해당되는 무역 이익을 얻을 수 있다.

- ① ㄱ, ㄴ    ② ㄱ, ㄷ    ③ ㄴ, ㄷ    ④ ㄴ, ㄹ    ⑤ ㄷ, ㄹ

17. 그림에 나타난 경제 현상을 해결하기 위한 경제 정책을 <보기>에서 모두 고른 것은?

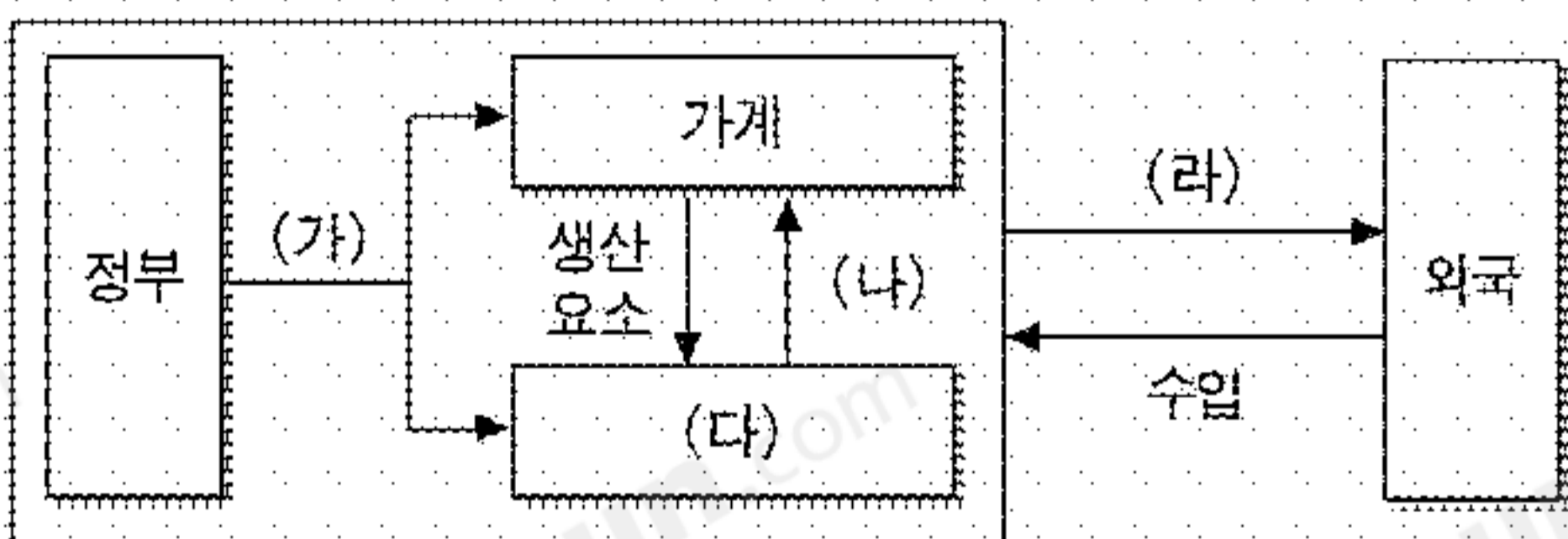


<보 기>

- ㄱ. 국공채의 매각                      ㄴ. 재할인율의 인상
- ㄷ. 지급 준비율의 인하              ㄹ. 소득세 및 법인세의 인하

- ① ㄱ, ㄴ    ② ㄱ, ㄷ    ③ ㄴ, ㄷ    ④ ㄴ, ㄹ    ⑤ ㄷ, ㄹ

18. 경제 활동의 실물 흐름을 나타낸 그림이다. 옳은 설명을 <보기>에서 모두 고른 것은?



<보 기>

- ㄱ. (가)는 사회 간접 자본을 포함한다.
- ㄴ. 유형의 물자만 (나)에 포함된다.
- ㄷ. (다)는 이윤을 얻기 위하여 생산한다.
- ㄹ. 환율이 상승하면 (라)는 감소한다.

- ① ㄱ, ㄴ    ② ㄱ, ㄷ    ③ ㄴ, ㄷ    ④ ㄴ, ㄹ    ⑤ ㄷ, ㄹ

19. 기사를 읽고 옳게 추론한 내용을 <보기>에서 모두 고른 것은?

“저금리 시대, 상당 기간 지속될 듯”

금년 8월 중 은행의 신규 정기 예금 평균 금리는 연 3.66%로 사상 최저 수준이다. 이 금리로 1억원을 1년간 은행에 맡겼을 때, 이자 소득세를 제외하고 실제로 받는 이자는 약 306만원이다. 8월의 소비자 물가 상승률 4.8%가 1년간 계속된다면, 1억원을 예금해 1년 후에 480만원의 이자가 붙어야 현재 가치가 유지된다. 결국 물가 상승률까지 고려할 경우 1년 동안 예금액의 가치는 약 174만원 줄어 세금을 제외한 실질 금리는 -1.74%이다.

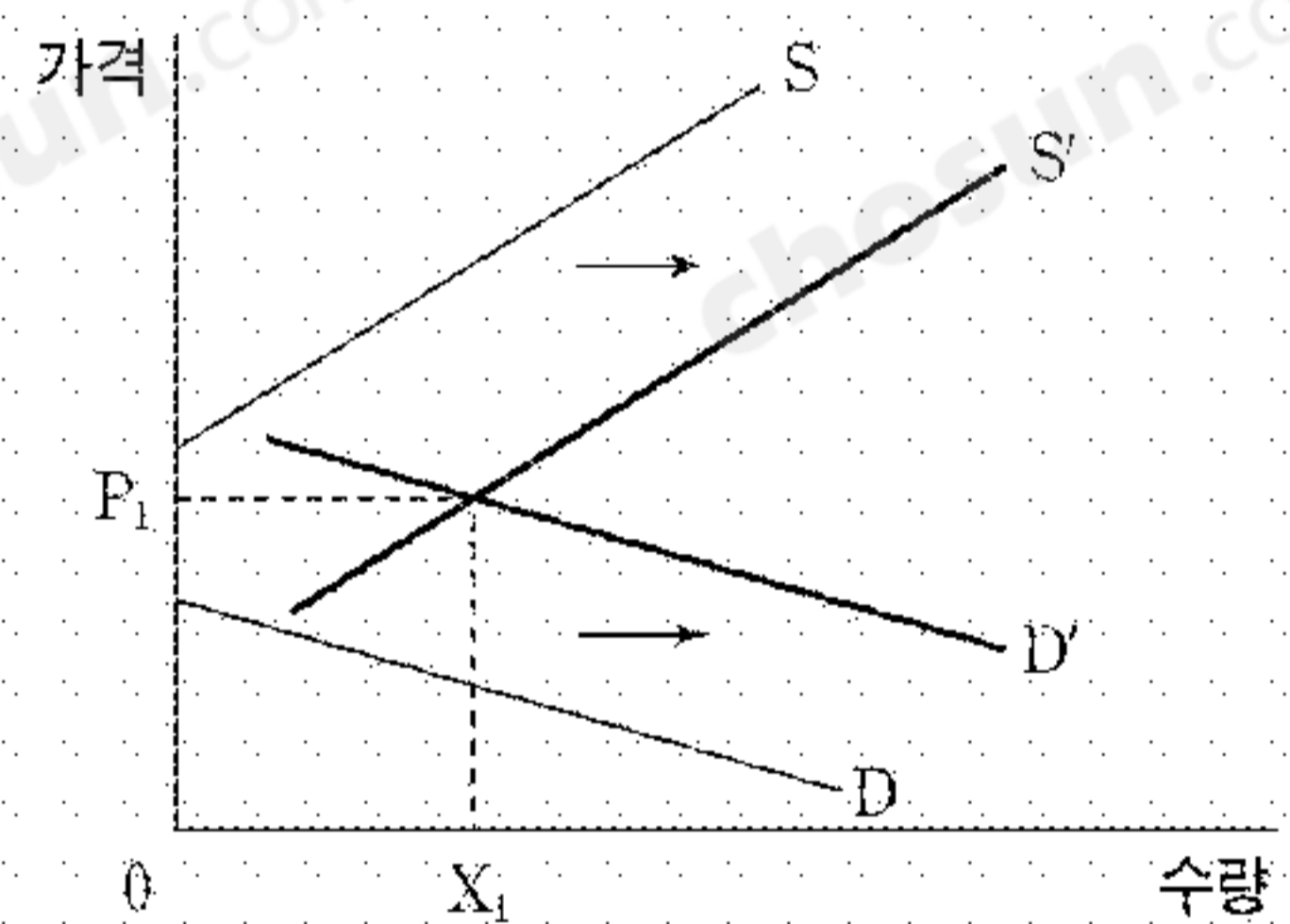
\* 실질 금리=명목 금리-소비자 물가 상승률

<보 기>

- ㄱ. 경기 과열을 막기 위해 정부가 재정 지출을 줄일 필요가 있다.
- ㄴ. 소비자 물가 상승률이 높아지면 실질 금리는 더 떨어질 것이다.
- ㄷ. 이러한 현상이 발생하는 이유는 저축보다 투자가 더 많기 때문이다.
- ㄹ. 금년 9월에 퇴직하여 퇴직금의 이자만으로 사는 사람들은 생활이 어려워질 것이다.

- ① ㄱ, ㄴ    ② ㄱ, ㄷ    ③ ㄱ, ㄹ    ④ ㄴ, ㄹ    ⑤ ㄷ, ㄹ

20. X재의 수요 곡선과 공급 곡선이 이동한 경우를 나타낸 그림이다. 이에 대한 옳은 설명을 <보기>에서 모두 고른 것은? [3점]



<보 기>

- ㄱ. 처음에 자유재였던 X재는 수요와 공급의 변화로 경제재가 되었다.
- ㄴ. 기술 혁신은 공급 곡선을 S에서 S'로 이동시키는 하나의 요인이다.
- ㄷ. X재의 가격 하락은 수요 곡선을 D에서 D'로 이동시키는 하나의 요인이다.
- ㄹ. 처음에 X재가 거래되지 않았던 이유는 공급자가 받고자 하는 가격과 수요자가 지불하고자 하는 가격이 서로 일치하지 않았기 때문이다.

\* 자유재 : 존재량이 풍부하여 희소성이 없는 재화를 의미함.

- ① ㄱ, ㄴ    ② ㄱ, ㄷ    ③ ㄴ, ㄷ    ④ ㄴ, ㄹ    ⑤ ㄷ, ㄹ

\* 확인 사항

○ 답안지의 해당란에 필요한 내용을 정확히 기입(표기)했는지 확인 하시오.