

제 4 교시

사회탐구 영역 (한국지리)

성명 수험 번호

- 자신이 선택한 과목의 문제지인지 확인하십시오.
- 문제지에 성명과 수험 번호를 정확히 써 넣으시오.
- 답안지에 성명과 수험 번호를 써 넣고, 또 수험 번호와 답을 정확히 표시하십시오.
- 과목을 선택한 순서대로 풀고, 답은 답안지의 '제1선택'란에서부터 차례대로 표시하십시오.
- 문항에 따라 배점이 다르니, 각 물음의 끝에 표시된 배점을 참고하십시오. 3점 문항에만 점수가 표시되어 있습니다. 점수 표시가 없는 문항은 모두 2점입니다.

1. 다음은 유경이네 가족이 여행을 하면서 나눈 대화이다. 이 가족이 여행하고 있는 지역에 대한 옳은 설명을 <보기>에서 모두 고른 것은?

아빠 : 동해안으로 가는 이 도로를 지나가다 보면 색다른 경치를 구경할 수 있단다. 잘 보거라.
 유경 : 아빠! 지금까지는 경사가 심한 구불구불한 길을 올라왔는데 여기부터는 높고 편평한 지역이네요. 주위가 마치 평지처럼 보이고, 배추밭이 많아요.
 오빠 : 스키장과 자연 휴양림 표지판도 보여요.
 유경 : 엄마, 저기 보이는 'HAPPY 700'이라는 간판은 무슨 뜻이죠?
 엄마 : 사람이 살기 좋은 고도가 700m란 뜻이란다.

<보 기>

- ㄱ. 곳곳에서 구멍이 숭숭 뚫린 검은 돌을 볼 수 있다.
- ㄴ. 과거 한반도의 용기와 관련이 있는 것으로 추정된다.
- ㄷ. 최근 토양 침식과 유실이 중요한 환경 문제로 대두되고 있다.
- ㄹ. 화강암과 편마암의 차별적인 침식 작용으로 인해 형성된 분지 지형이다.


- ① ㄱ, ㄴ ② ㄱ, ㄷ ③ ㄴ, ㄷ ④ ㄴ, ㄹ ⑤ ㄷ, ㄹ

2. 다음은 제주도를 소개한 글이다. (가)~(마)에 대한 설명으로 옳지 않은 것은?

(가) 한라산에서 흘러내리는 내들은 대개 (나) 건천(乾川)으로 모두 서른 다섯 개쯤 되는데 (다) 장마가 지거나 소나기가 쏟아지면 갑자기 물이 불어나고 물살이 세어 몹시 위험하다. 그러나, 대부분의 빗물은 (라) 현무암이 갈라진 곳으로 스며들어 땅 밑으로 흐르다가 해안에 이르러 (마) 솟아나는 샘이 된다.
 -『한국의 발견』, 제주도편-

- ① (가)의 산록에는 '오름'이라고 불리는 기생 화산이 분포한다.
- ② (나)는 비가 오면 일시적으로 흐르는 하천이다.
- ③ (다)는 대체로 제주도 일대에서 먼저 시작된다.
- ④ (라)가 풍화되면 붉은 색의 토양인 테라로사가 형성된다.
- ⑤ (마)를 중심으로 해안에는 마을이 발달되어 있다.

3. 사진의 경관과 모식도의 지형이 나타나는 지역에 대한 옳은 설명을 <보기>에서 모두 고른 것은? [3점]

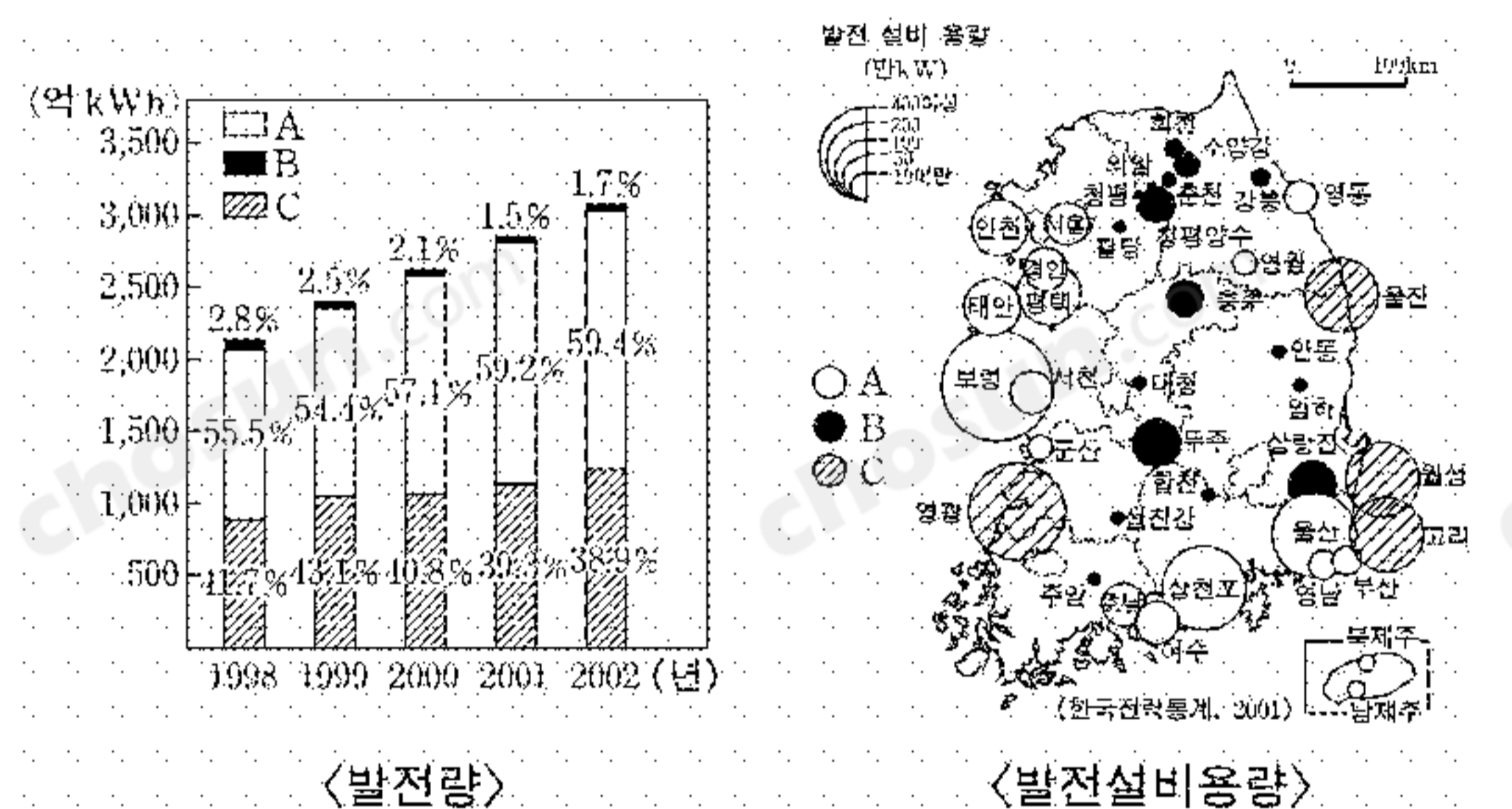


<보 기>

- ㄱ. 공룡의 화석과 발자국 흔적이 많이 나타난다.
- ㄴ. 고추, 마늘 등을 재배하는 밭농사가 이루어진다.
- ㄷ. 빗물이 지하로 잘 스며들기 때문에 지표수가 부족하다.
- ㄹ. 고생대 해성층인 조선누층군(조선계)이 넓게 분포한다.

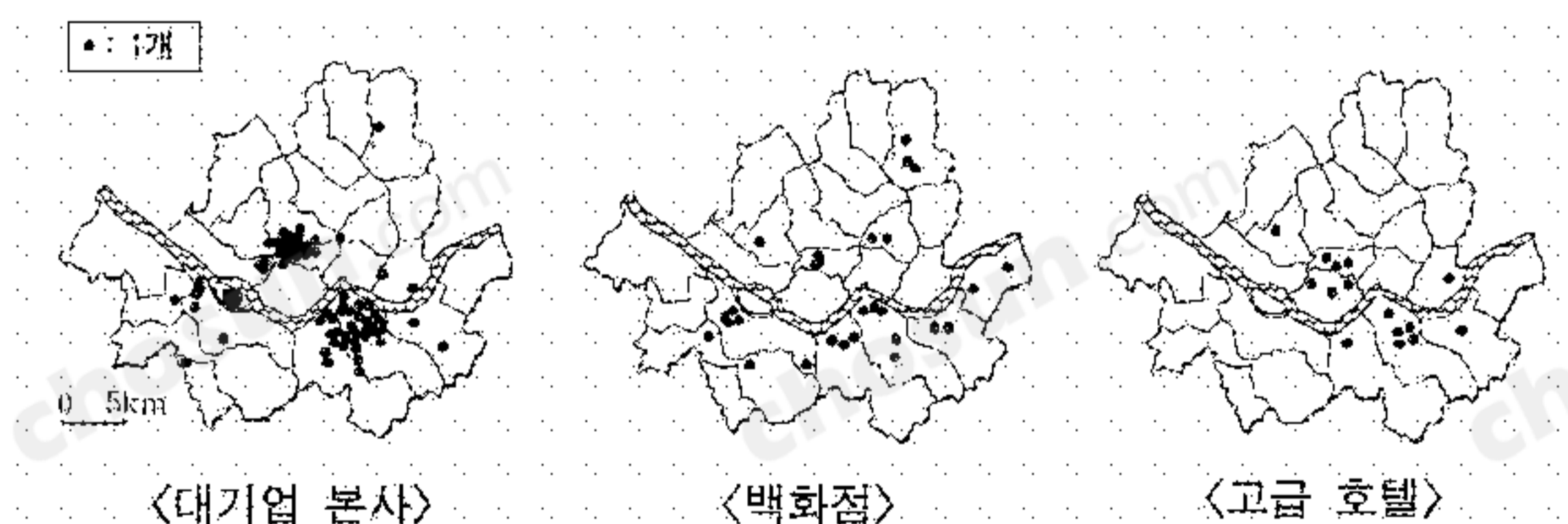
- ① ㄱ, ㄴ ② ㄱ, ㄷ ③ ㄴ, ㄹ
 ④ ㄱ, ㄷ, ㄹ ⑤ ㄴ, ㄷ, ㄹ

4. 다음은 발전량과 발전 설비 용량을 나타낸 것이다. A 발전 양식에 대한 설명으로 가장 적절한 것은?



- ① 환경친화적이나 경제성이 낮다.
- ② 발전 설비 용량과 발전량이 가장 적다.
- ③ 건설비는 비싸지만, 발전 단가는 매우 저렴하다.
- ④ 기후 변화 협약으로 가장 큰 타격을 입을 것이다.
- ⑤ 발전 설비가 고장나면 방사능 오염의 피해가 크다.

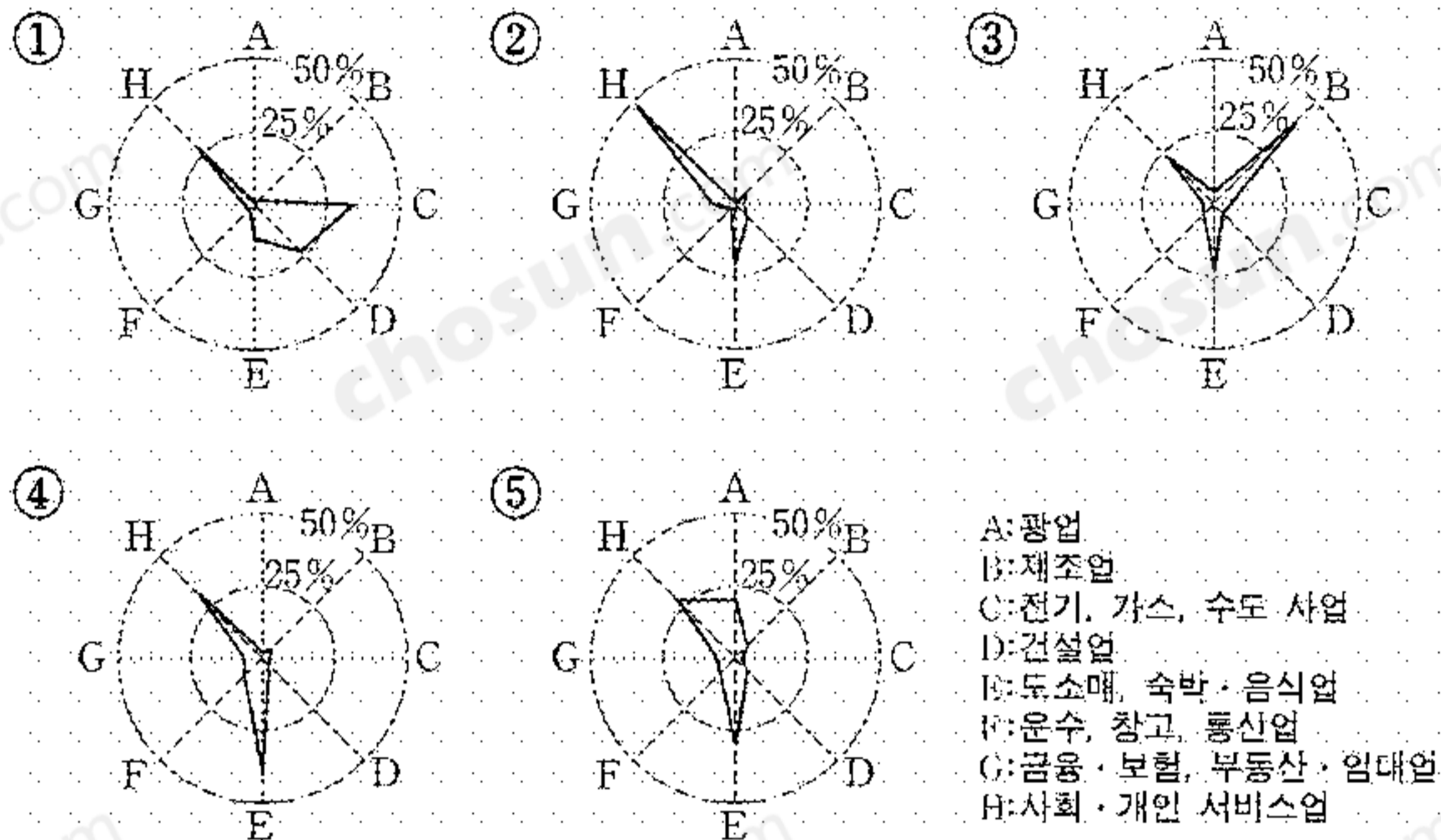
5. 지도는 수진이가 도시 단원을 공부하면서 수집한 자료이다. 이를 통해 알 수 있는 내용으로 가장 적절한 것은?



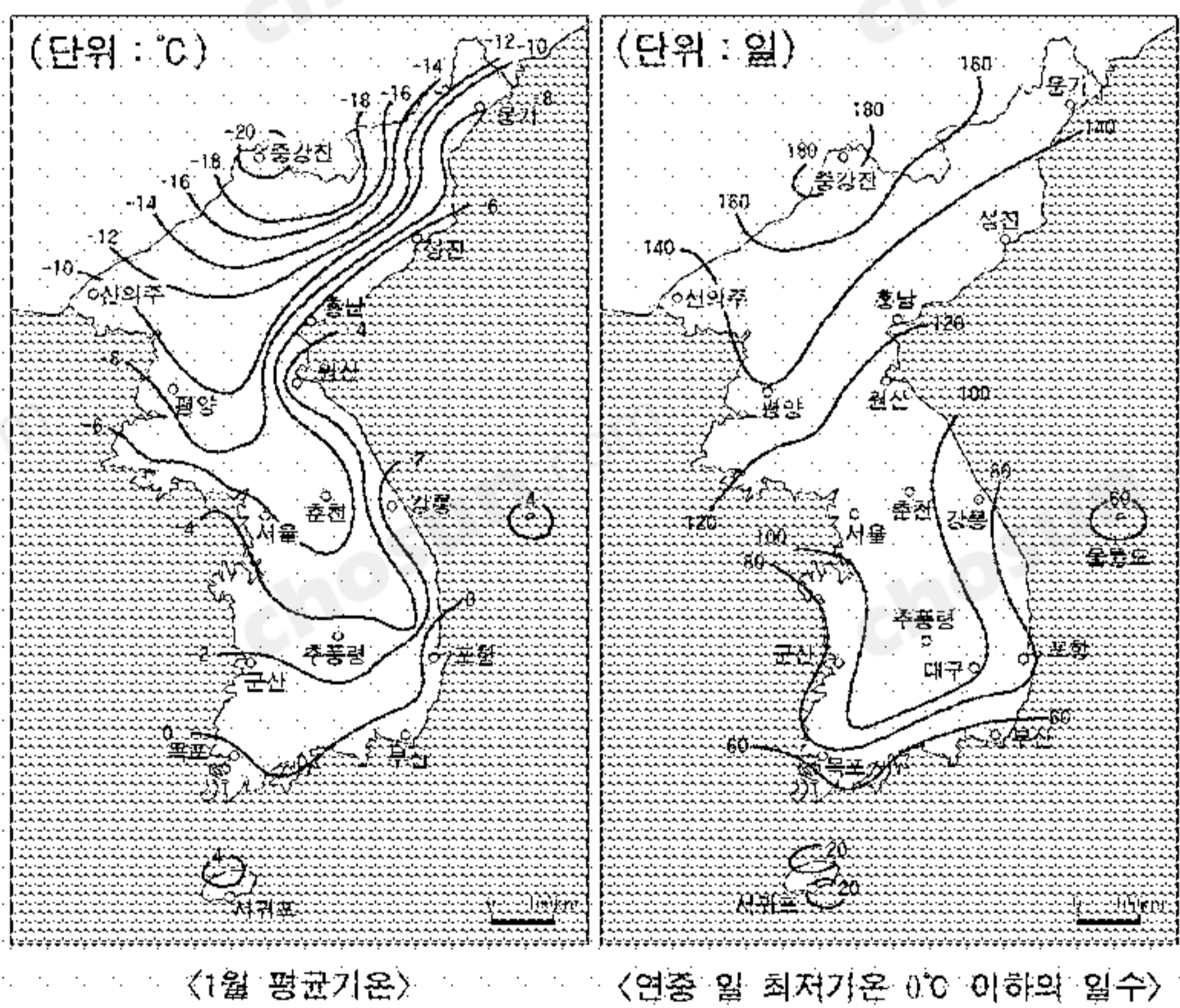
- ① 지역 분화에 따른 도시의 다핵화
- ② 대도시의 인구 감소에 따른 역도시화
- ③ 고속 국도의 건설에 따른 연담 도시화
- ④ 교통 발달에 따른 제조업 시설의 분산
- ⑤ 도시 인구의 증가에 따른 근교 농업 발달

6. 다음은 우리 나라의 어떤 도시에 대한 설명이다. (가) 도시의 산업 구조를 바르게 나타낸 것은?

(가) 시는 남동 임해 공업 지역에 위치하고 있으며, 대규모로 자동차, 조선, 정유, 석유화학 공업이 집중해 있다. 특히 자동차 산업은 국내 자동차 생산액의 27.4%를 차지하고 있다. 또한 (가) 시는 자동차 산업의 국제 경쟁력 강화를 위해 자동차 부품 전용 산업단지인 대형 '오토밸리(Auto Valley)' 조성을 추진하고 있다.



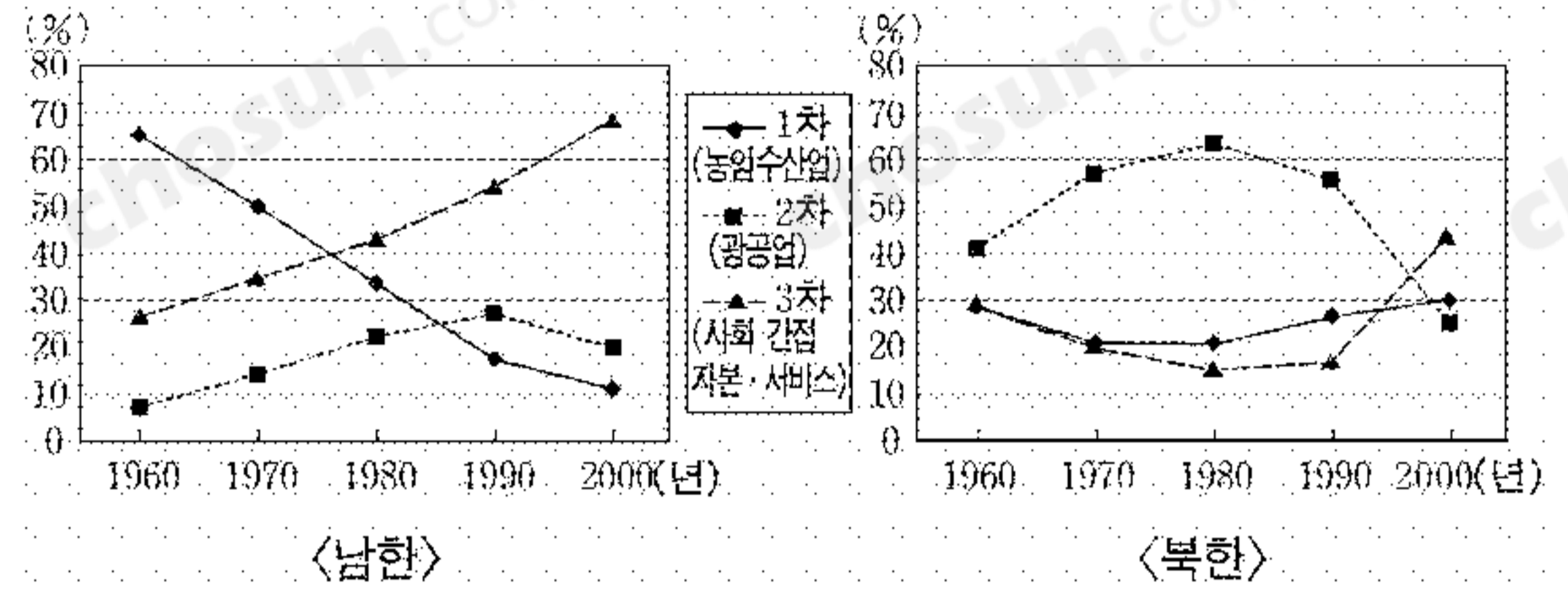
7. 두 지도에 대한 설명으로 옳은 것을 <보기>에서 모두 고른 것은?



가. 1월 평균 기온의 남북 간 차이는 최대 20°C를 넘는다.
 나. 대구는 강릉에 비해 연중 일 최저기온 0°C 이하의 일수가 적다.
 다. 같은 위도일 경우 대체로 내륙이 해안에 비해 1월 평균기온이 낮다.
 라. 서울의 경우 연중 일 최저기온 0°C 이하의 날이 목포의 2배를 넘는다.

- ① 가, 나 ② 가, 다 ③ 나, 다 ④ 나, 라 ⑤ 다, 라

8. 그래프는 남·북한의 산업 구조 변화를 나타낸 것이다. 이 그래프에 관한 설명으로 옳은 것을 <보기>에서 모두 고른 것은? [3점]



가. 남·북한 모두 산업 구조의 고도화가 이루어졌다.
 나. 1960년에는 남한이 북한보다 2차 산업의 비중이 더 높다.
 다. 1980년 이후 남·북한 모두 서비스업의 비중이 높아졌다.
 라. 1990년대까지 북한의 2차 산업 비중이 높은 것은 중공업 중심 정책 때문이다.

- ① 가, 나 ② 가, 다 ③ 나, 다 ④ 나, 라 ⑤ 다, 라

9. 다음의 계획이 성공적으로 실행되었을 때 나타날 수 있는 현상에 대해 추론하였다. 옳은 것을 <보기>에서 모두 고른 것은? [3점]

<산업 집적 지역 계획안>
 정부는 연관 관계가 깊은 다수의 기업과 기관이 집중된 산업 집적 지역(일명 산업 클러스터)을 추진하는 방안을 발표했다. 혁신 역량이 우수한 창원, 구미, 울산, 반월·시화, 광주, 원주 등 6개의 도시를 시범 단지로 지정하여 산업과 연구가 결합된 세계적인 산업 집적 지역으로 육성하기로 하였다.

가. 산업의 지역 특화가 약화될 것이다.
 나. 지방의 산업 경쟁력이 강화될 것이다.
 다. 첨단 산업이 강화되고, 산업 구조가 고도화될 것이다.
 라. 산업 관련 연구 기관의 수도권 집중이 강화될 것이다.

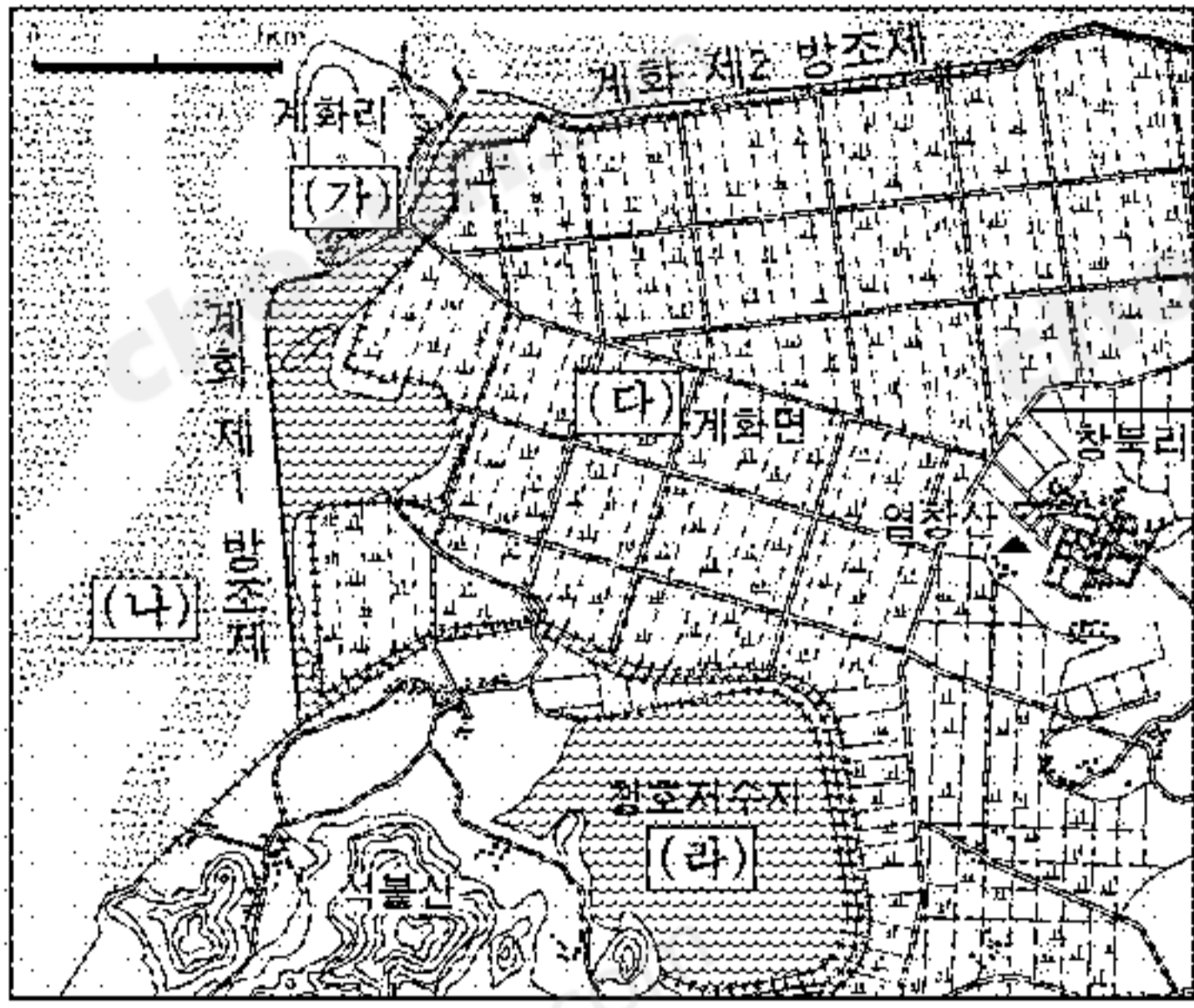
- ① 가, 나 ② 가, 다 ③ 나, 다 ④ 나, 라 ⑤ 다, 라

10. (가)의 시기에 나타난 현상에 대한 추론으로 옳지 않은 것은? [3점]

제4기는 지구의 역사에서 200만년 전부터 현재에 이르는 시기로 플라이스토세(200만년 전~1만년 전)와 현세(1만년 전~현재)로 구분된다. 제4기에는 빙기와 간빙기가 여러 차례 반복되었다. (가) 최종빙기 중 빙하가 가장 확대되었던 때에는 해수면이 현재보다 100m 이상 낮아 남해와 황해의 대부분이 육지화되었고, 그 결과 한반도와 일본 열도는 육지로 서로 연결되었다.

- ① 대기의 평균 기온이 현재보다 낮았을 것이다.
 ② 일부 고산 지역에서는 빙하와 관련된 지형이 형성되었을 것이다.
 ③ 하천 하류 지역에서는 침식 기준면이 낮아져 침식 작용이 활발하였을 것이다.
 ④ 해안을 따라 석호가 형성되었고, 하구에는 삼각주가 넓게 형성되었을 것이다.
 ⑤ 하천 상류 지역에서는 기계적 풍화 작용이 활발하여 퇴적층이 형성되었을 것이다.

11. 지도에 대해 바르게 설명한 내용을 <보기>에서 모두 고른 것은?



<보 기>
 가. (가)는 방조제 건설 후 교통이 편리해졌다.
 나. (나)는 큰 조수 간만의 차로 발달하였다.
 다. (다)는 하천의 퇴적 작용에 의하여 형성되었다.
 라. (라)는 후빙기 해수면의 상승과 관련이 있다.

- ① 가, 나 ② 가, 다 ③ 나, 다 ④ 나, 라 ⑤ 다, 라

12. 다음은 철수가 수행 평가 과제로 제출한 보고서 내용의 일부이다. 이 보고서에 붙일 제목으로 가장 적절한 것은? [3점]

○ 정보화 사회로의 급진전은 '정보 격차'라고 하는 새로운 현상을 야기하고 있는데, 이것은 정보 기기에 대한 접근성, 정보 활용 능력 등의 측면에서 이질적인 집단 사이에서 발생하는 차이 혹은 차별을 의미한다.
 ○ 2001년 컴퓨터 보유 가구의 비율을 보면, 울산과 서울이 각각 65.3%와 63.0%로 높은 반면에, 전남과 경북은 각각 36.7%와 39.9%로 낮았다.
 ○ 2003년 대도시 지역의 인터넷 이용률은 66.1%인데 반해, 군(郡) 지역은 44.2%에 머물렀다.

- ① 정보화 사회의 지역 불균형
 ② 사이버 공간에서의 성별 불평등
 ③ 생산자 서비스업의 지역적 분포
 ④ 하향식 지역 개발 방식의 현황과 문제점
 ⑤ 교통로 확충을 통한 시·공간적 제약의 극복

13. 다음 자료에 나타난 현상의 원인을 <보기>에서 모두 고른 것은?

서울 중심부에 위치한 종로구의 경우 주간 인구나 야간 인구 간의 차이가 크다. 종로1,2,3,4가동의 경우 네 개의 동사무소를 하나로 통합하여 업무를 처리하고 있다. 이처럼 낮의 인구가 밤의 인구보다 많은 곳은 서울 종로구와 중구 외에도 부산의 중구, 대구의 중구가 대표적이다.

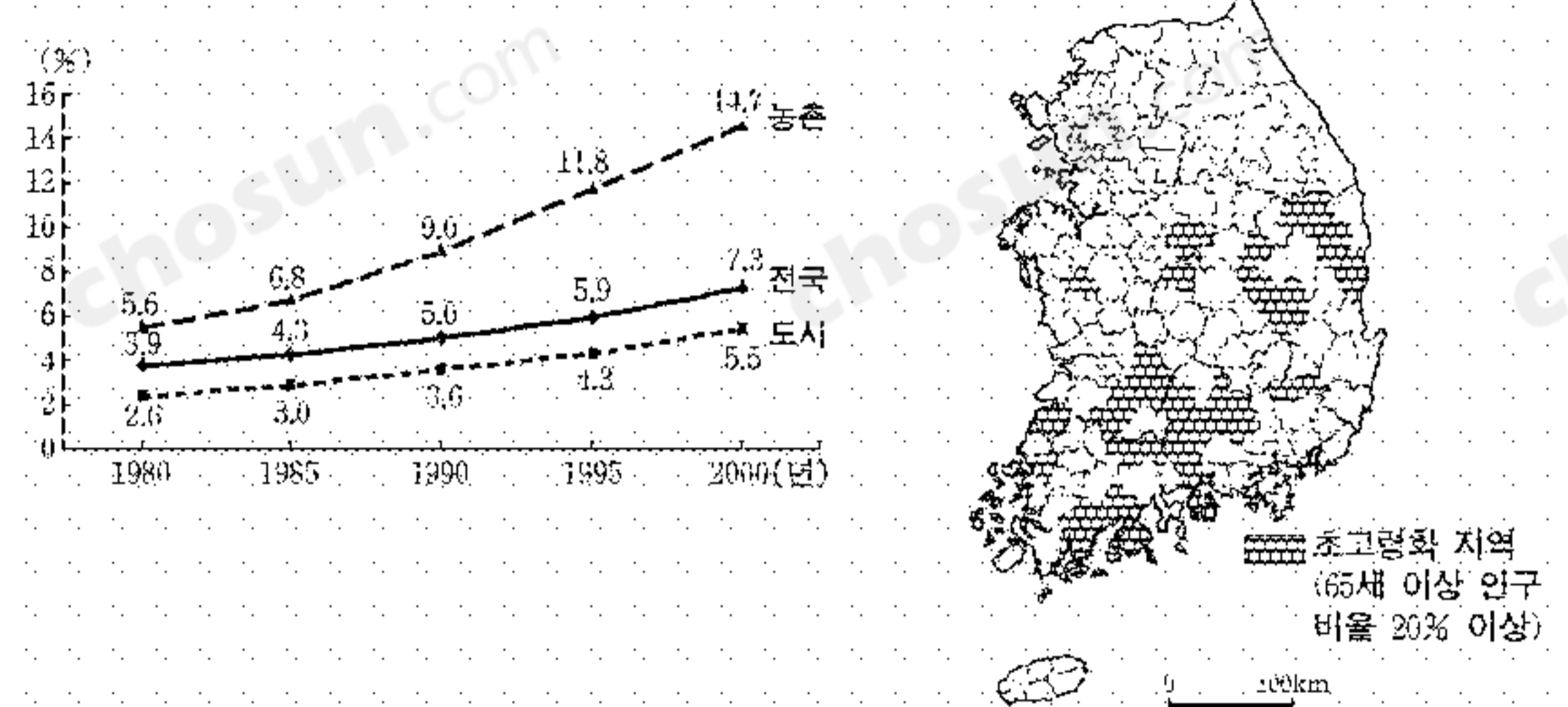
대도시 중심부	1985년 인구수 (명)	1995년 인구수 (명)	연평균증감률 (%)	주간인구지수 (1997년통계청)
서울 중구	209,658	135,583	-4.36	395
부산 중구	91,079	63,658	-3.58	249
대구 중구	183,265	112,565	-4.87	168

* 주간인구지수=(주간활동인구:야간상주인구)×100

<보 기>
 가. 교통 수단의 발달 나. 도심의 지가 상승
 다. 도심의 성비 불균형 라. 도심의 제조업 비중 증가

- ① 가, 나 ② 가, 다 ③ 나, 다 ④ 나, 라 ⑤ 다, 라

[14~15] 우리 나라 인구 고령화에 대한 자료이다. 물음에 답하시오



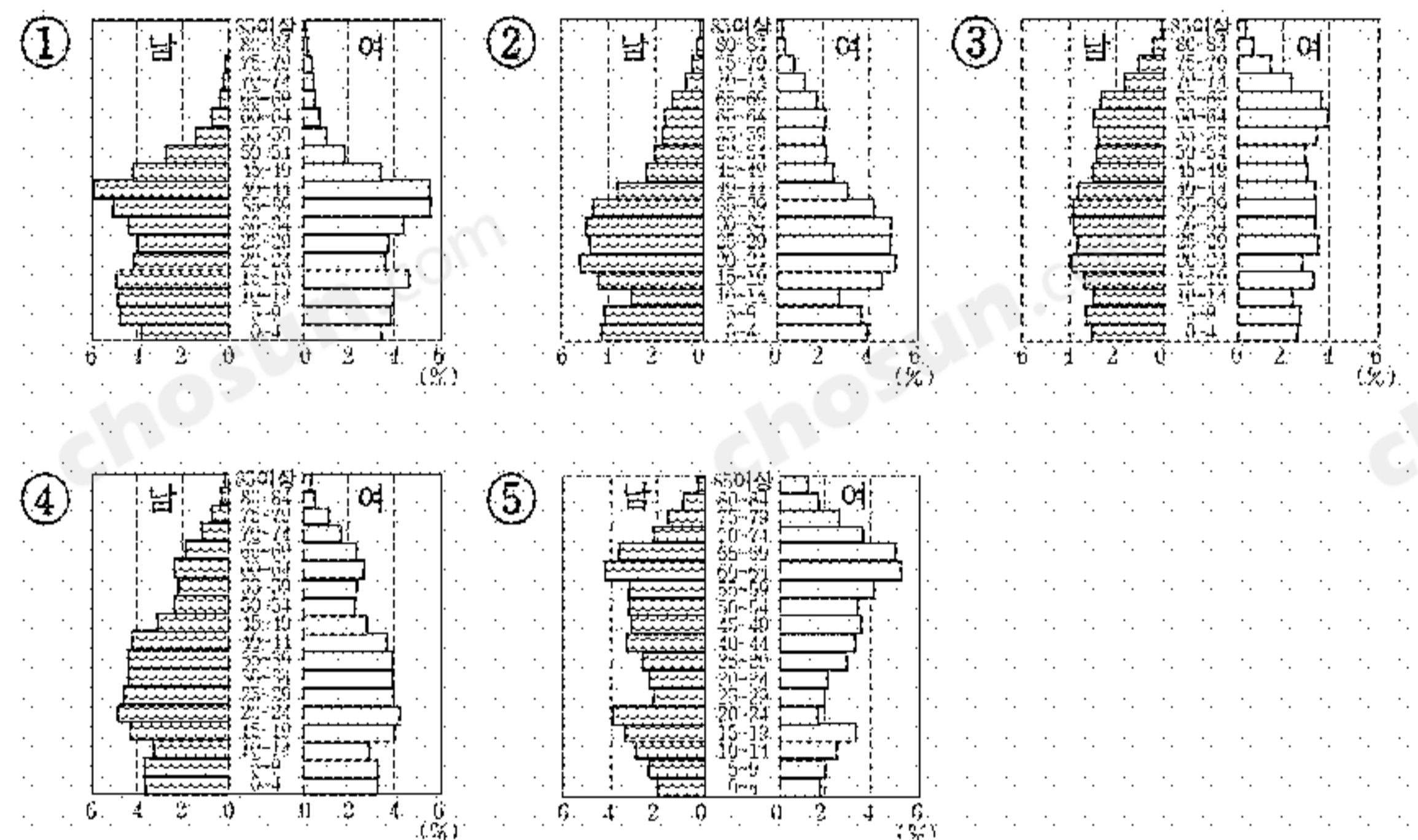
(가) 노년 인구(65세 이상 인구) 비율 (나) 초고령화 지역

14. 두 자료에 대해 바르게 설명한 내용을 <보기>에서 모두 고른 것은? [3점]

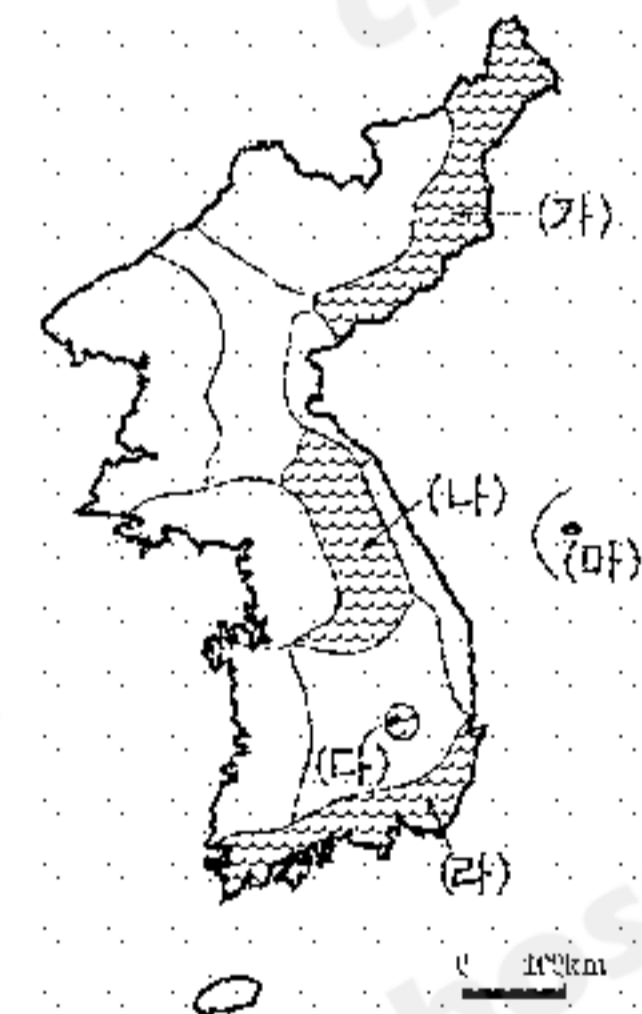
<보 기>
 가. 초고령화 지역은 주로 평야 지역에 집중되어 있다.
 나. 노년 인구 비율의 도농간 차이는 계속 감소해 왔다.
 다. 초고령화 지역은 이촌 향도에 의한 진출 초과를 경험했다.
 라. 노년 인구의 부양을 위한 사회적 부담은 계속 증가해 왔다.

- ① 가, 나 ② 가, 다 ③ 나, 다 ④ 나, 라 ⑤ 다, 라

15. (나)에 표시된 초고령화 지역의 성별·연령별 구조를 바르게 나타낸 것은?



16. 우리 나라의 기후 지역에서 (가)~(마)에 대한 설명으로 옳지 않은 것은? [3점]



- ① (가)지역의 해안에는 안개가 많고, 여름철에 냉해가 잦다.
 ② (나)지역은 늦봄에서 초여름 사이에 높새 바람이 불어 가뭄이 나타난다.
 ③ (다)지역은 지형적인 영향으로 극서지를 이루고 있다.
 ④ (라)지역은 기온의 연교차가 크고 강수량이 적다.
 ⑤ (마)지역은 지형적 요인에 의해 다설지를 이루고 있다.

17. 다음 글에 나타난 자연관과 같은 입장을 취하는 학생을 고른 것은?

분명한 것은 자연은 자연 상태로 두는 것이 가장 인간의 꿈에 부합된다는 것이다. 지중해를 낀 나라들은 그 따스하고 자양분 넘치는 바다 풍경을 자원화시켜서 돈을 번다. 원칙은 손을 대지 않는다는 것이다.

-○○○, 『포구기행』-

교사 : △△간척 사업에 대한 많은 논란이 있습니다. 갯벌 간척 사업에 대한 여러분의 입장에 대해 토론해볼까요?

갑 : 우리 나라에서는 땅이 부족하기 때문에 국토를 넓히는 것이 무엇보다 중요한 일입니다.

을 : 지역 주민들의 소득을 높이기 위해서 갯벌을 간척하여 공업 단지로 이용해야 합니다.

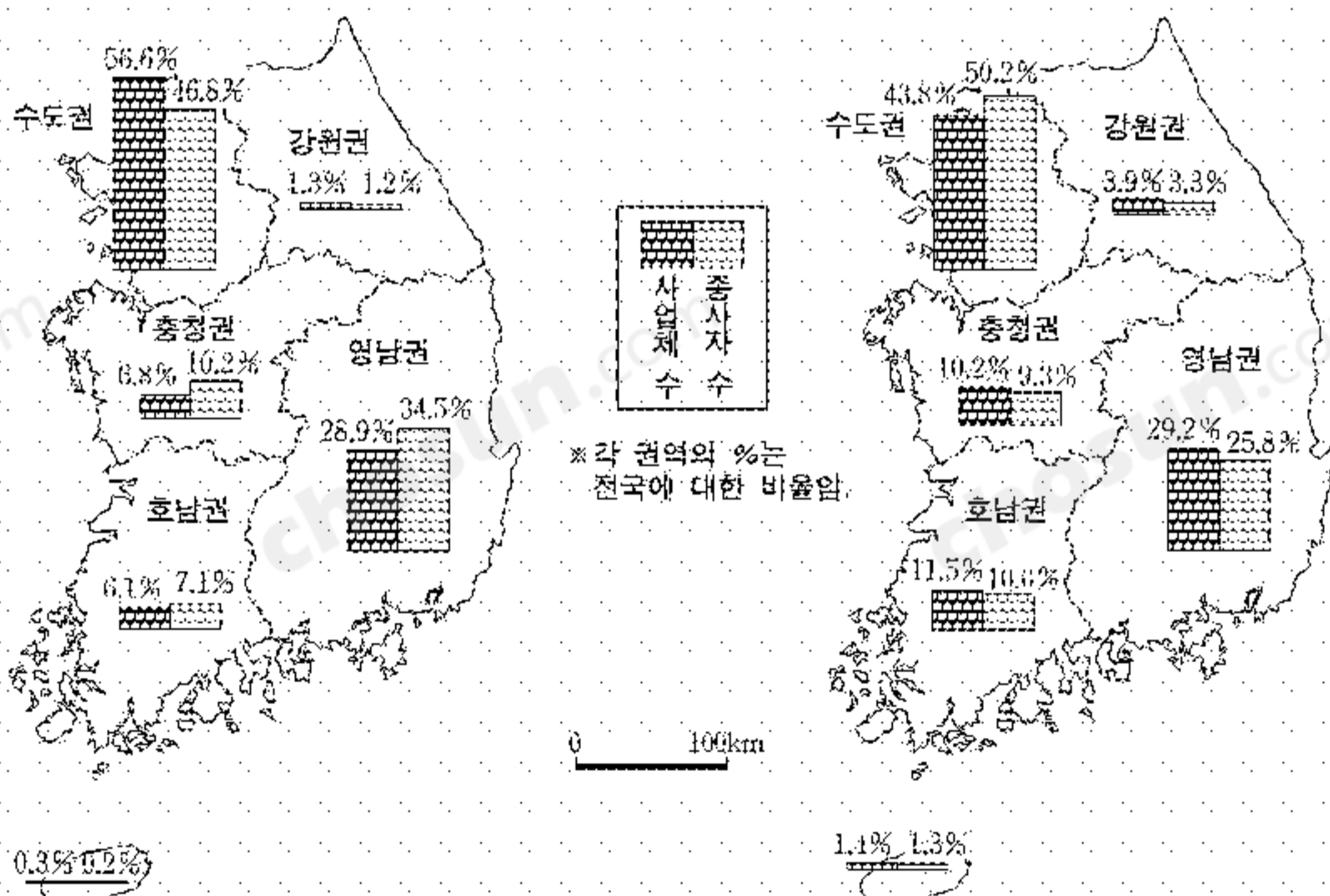
병 : 갯벌은 새들의 먹이가 풍부해서 철새 도래지로 보호해야 합니다.

정 : 이미 간척된 곳도 원래 상태로 되돌려 놓아야 합니다.

무 : 모든 환경 문제는 과학 기술만 이용하면 충분히 극복할 수 있습니다.

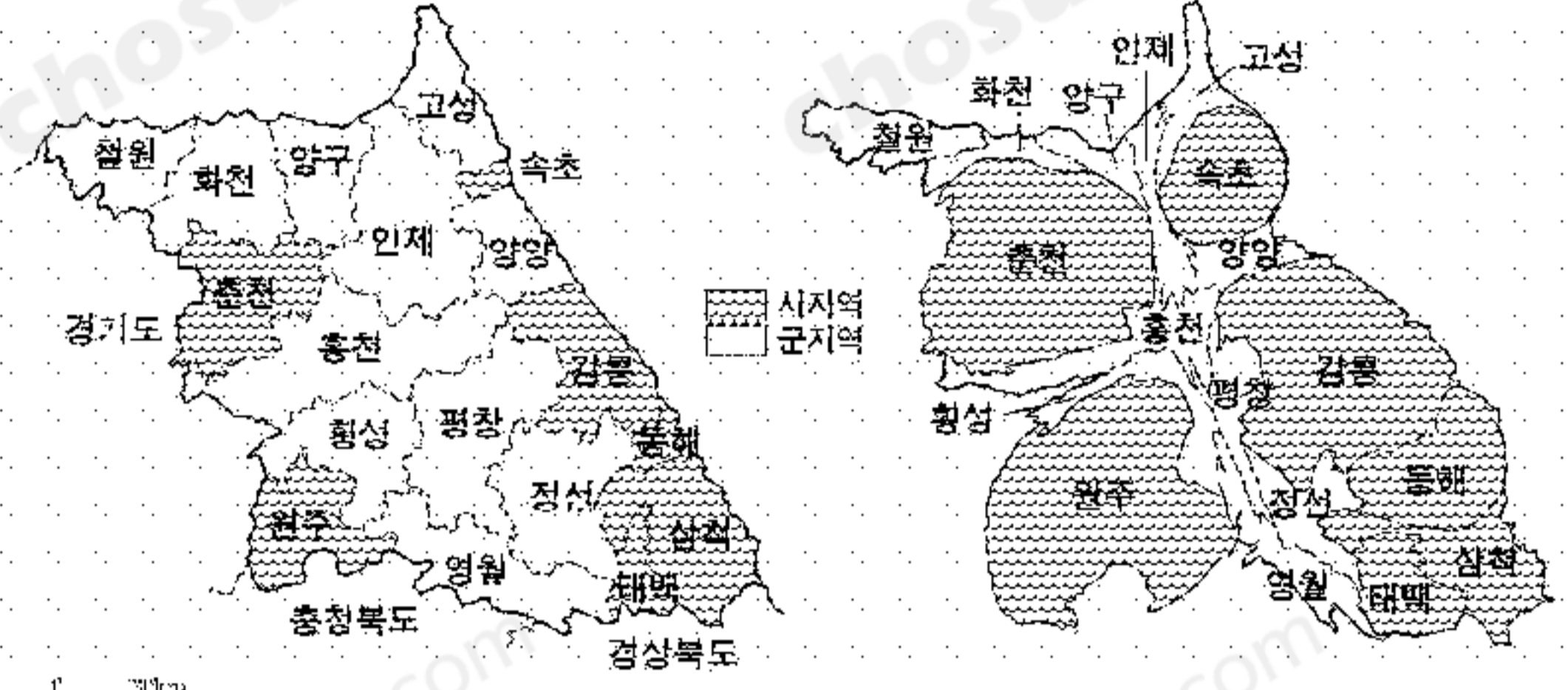
- ① 갑, 을 ② 갑, 무 ③ 을, 병 ④ 병, 정 ⑤ 정, 무

18. 지도에 관한 설명으로 적절하지 않은 것은? [3점]



- ① 제조업과 서비스업의 분포는 인구의 분포와 관계가 깊다.
 ② 제조업의 지역별 분포는 거점 개발 방식의 영향을 받았다.
 ③ 충청권은 수도권에 비해 제조업 사업체 당 평균 종사자 수가 많다.
 ④ 수도권은 제조업과 서비스업 모두에서 가장 높은 비중을 나타낸다.
 ⑤ 영남권은 수도권에 비해 서비스업 사업체 당 평균 종사자 수가 많다.

19. 지도 (가)는 강원도의 시·군별 행정구역도, 지도 (나)는 행정구역별 인구 수를 면적으로 나타낸 것이다. 이에 대한 설명으로 옳은 것을 <보기>에서 모두 고른 것은? [3점]



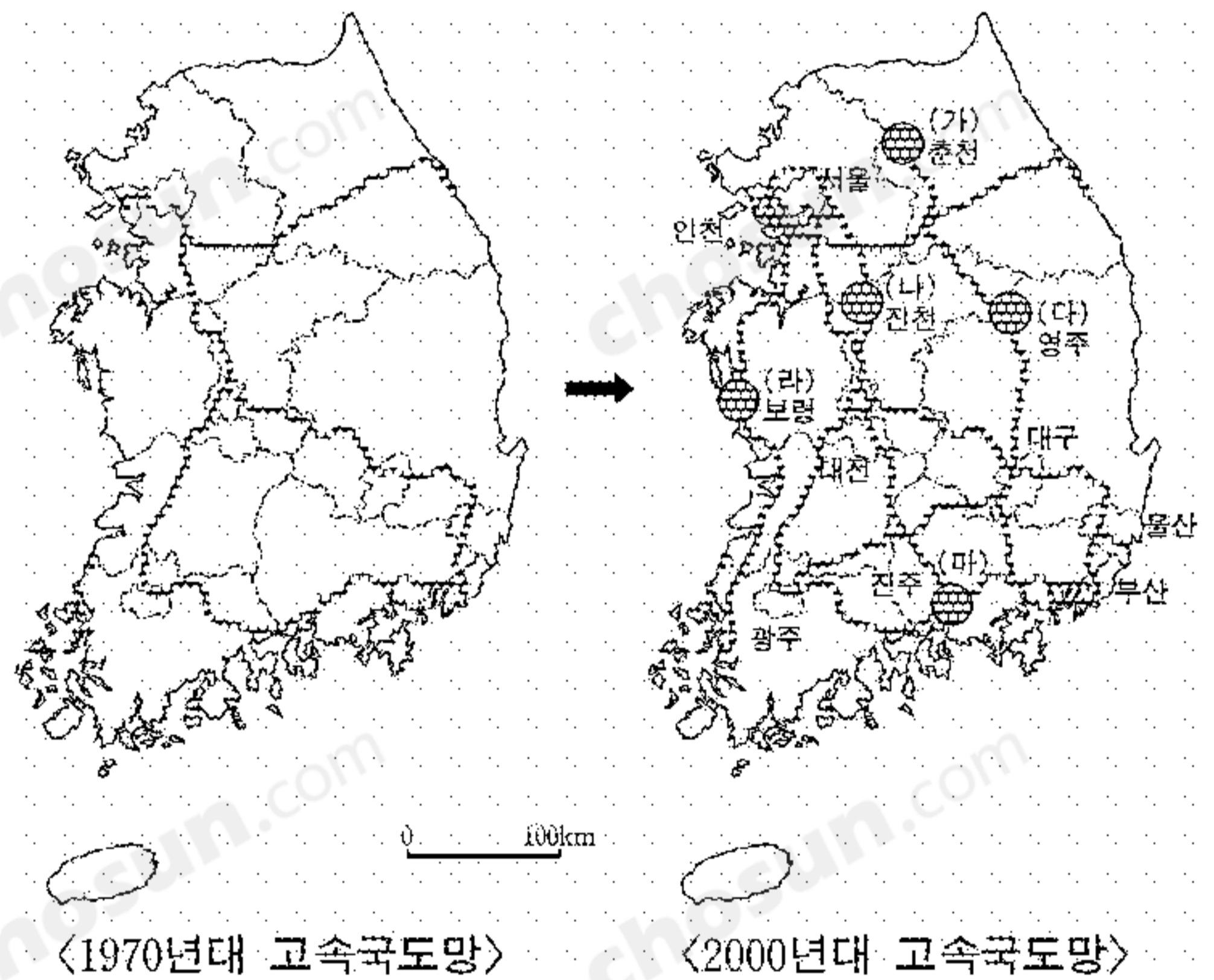
(가) 강원도의 행정구역 (나) 강원도의 인구 분포

<보 기>

- ㄱ. 태백 산맥이 인구 분포에 영향을 미치고 있다.
 ㄴ. 군(郡) 지역의 인구 수가 시(市) 지역의 인구 수보다 많다.
 ㄷ. 휴전선에 접한 지역은 동해안에 접한 지역에 비해 인구 수가 적다.
 ㄹ. 고랭지 농업은 인구 밀도가 높은 시 지역에서 집중적으로 행해진다.

- ① ㄱ, ㄴ ② ㄱ, ㄷ ③ ㄴ, ㄷ ④ ㄴ, ㄹ ⑤ ㄷ, ㄹ

20. 지도를 보고 '교통 발달에 따른 지역의 변화'에 대해 추론하였다. 그 내용으로 적절하지 않은 것은? [3점]



- ① (가) : 지역 축제에 다른 지방에서 온 사람들을 더 많이 볼 수 있게 되었다.
 ② (나) : 수도권을 소비지로 하는 원예 농가가 증가했다.
 ③ (다) : 대구로 통근하는 사람들이 급격히 늘어 대구의 침상 도시로 변모되었다.
 ④ (라) : 주말을 이용해 보령의 대천 해수욕장을 찾는 수도권 관광객의 수가 늘어났다.
 ⑤ (마) : 육로를 통한 접근성이 크게 향상되어, 서울을 오가는 시간이 많이 단축되었다.

* 확인 사항

○ 답안지의 해당란에 필요한 내용을 정확히 기입(표기)했는지 확인 하시오.