

제 4 교시

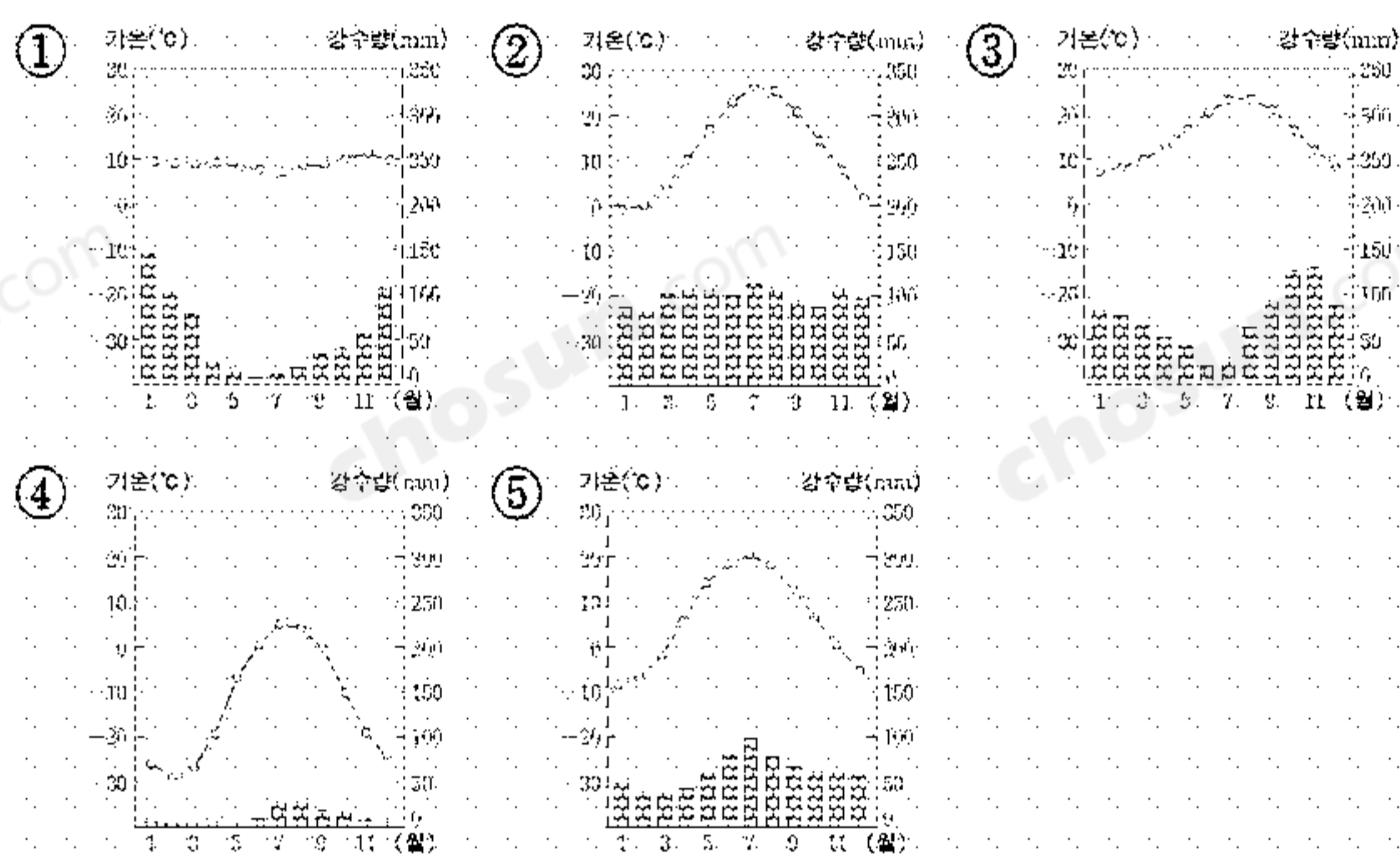
사회탐구 영역(세계지리)

성명	수험 번호
----	-------

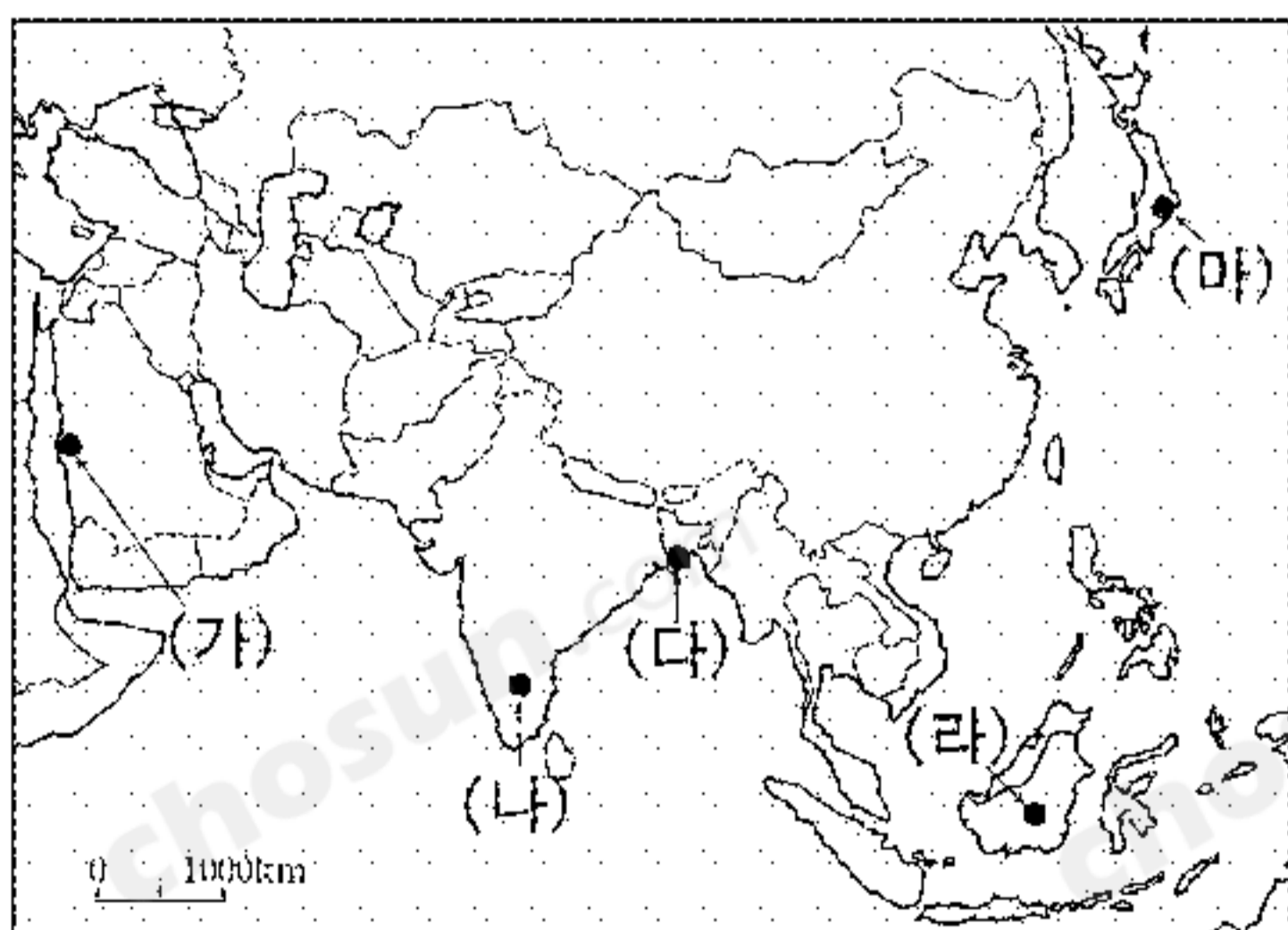
- 자신이 선택한 과목의 문제지인지 확인하시오.
- 문제지에 성명과 수험 번호를 정확히 써 넣으시오.
- 답안지에 성명과 수험 번호를 써 넣고, 또 수험 번호와 답을 정확히 표시하시오.
- 과목을 선택한 순서대로 풀고, 답은 답안지의 '제1선택'란에서부터 차례대로 표시하시오.
- 문항에 따라 배점이 다르니, 각 물음의 끝에 표시된 배점을 참고하시오. 3점 문항에만 점수가 표시되어 있습니다. 점수 표시가 없는 문항은 모두 2점입니다.

1. 다음 밑줄 친 지역의 기후 그래프로 알맞은 것은?

덴마크가 그린란드 주변 해저 영유권을 주장하기 위해 2500만 달러 규모의 탐사 계획을 발표했다. 여기에 미국도 영유권을 주장하면서 이를 증명하기 위한 탐사 계획에 착수했다. 최근 들어 영유권을 둘러 싸고 각국의 입장이 첨예하게 대립하고 있다. 이 바다의 주변 지역은 원래 지의류나 선대류가 자라고 이누이트 족이 순록 유목을 하며 살아간다.



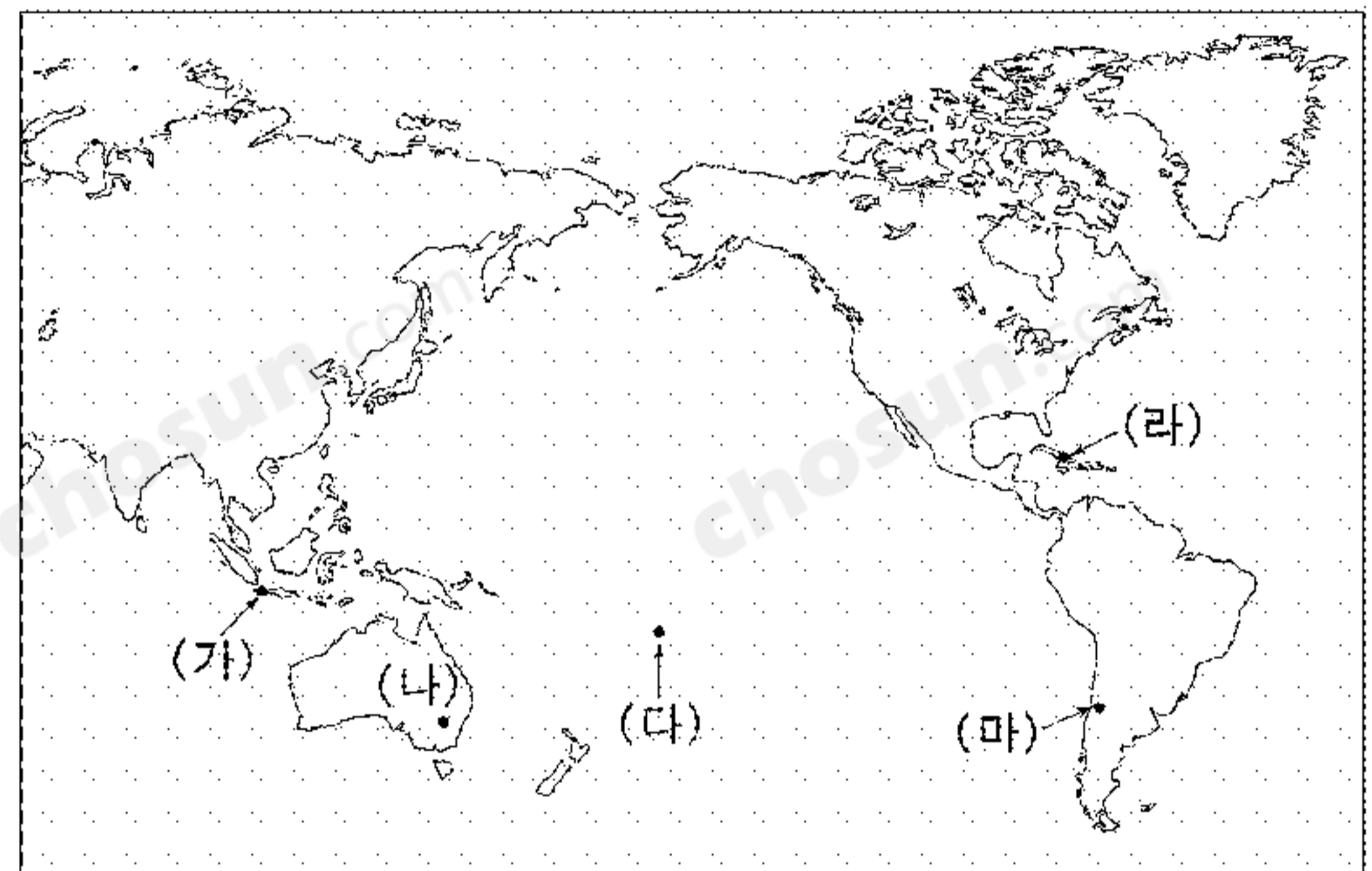
2. 지도에 표시된 (가)~(마)에서 세계지리 수업에 활용할 사진을 촬영하려 한다. 촬영 대상으로 적절하지 않은 것은?



- ① (가) : 해수를 담수로 바꾸는 설비
- ② (나) : 집적화된 대규모 IT 산업 단지
- ③ (다) : 범람에 의한 농경지와 가옥의 침수
- ④ (라) : 사람이 출입하기 어려운 열대 우림
- ⑤ (마) : 피오르 해안에 발달된 수직 절벽

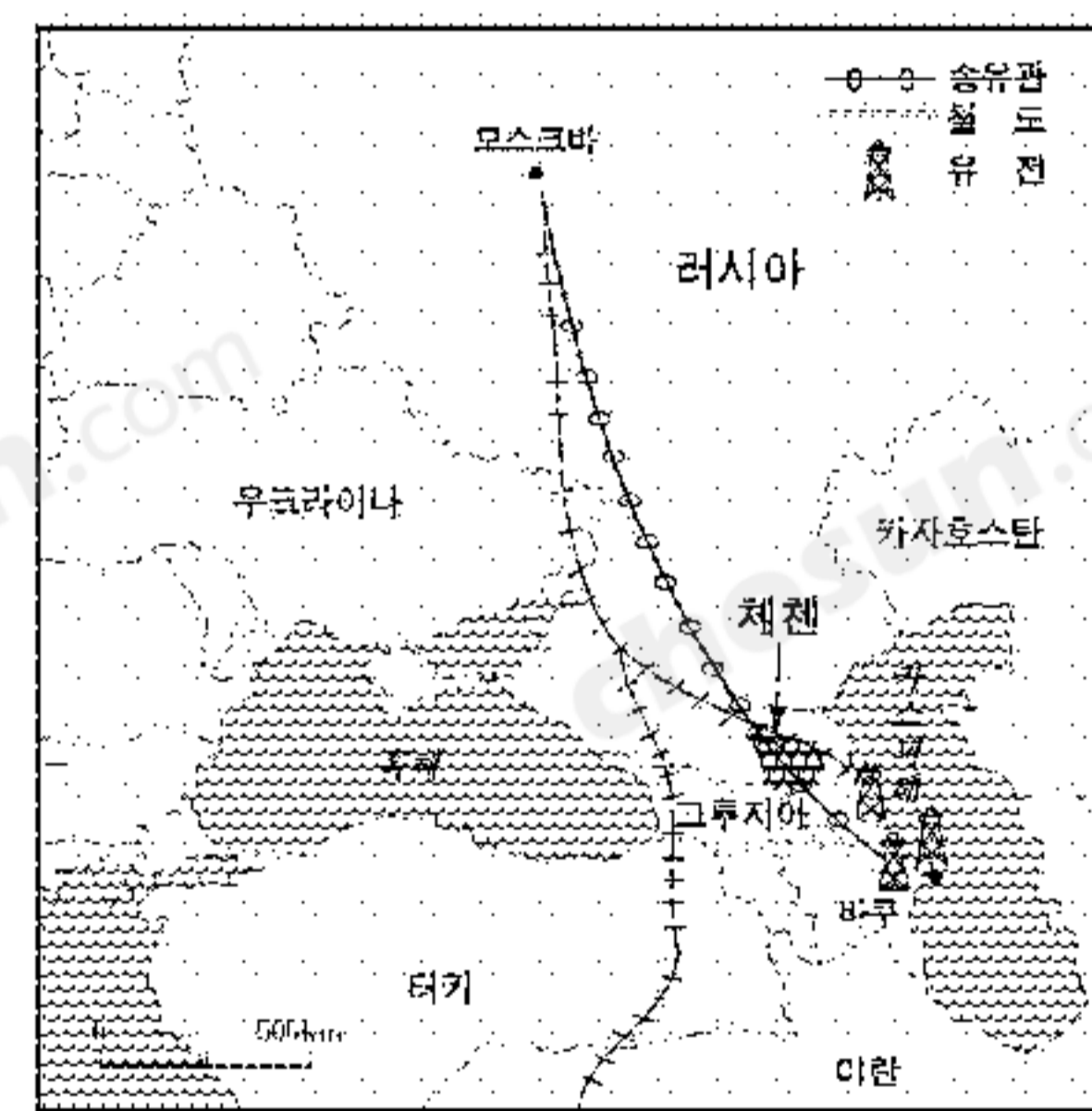
3. 다음 (가)~(마)의 국가 위치를 지도에 표시했을 때 적절하지 않은 것은?

우리가 차량의 연료, 취사 및 난방용으로 쓰는 천연 가스는 (가)에서 들어오고, (나)에서는 제철소에서 필요한 역청탄을 수입해 온다. 참치는 (다)에서 주로 잡아 오며, 빵을 만드는 밀은 신대륙의 밀농사 지역에 의존한다. 우리가 먹는 쇠고기는 (라)에서 주로 수입하며, 최근에는 무역 개방 추세에 맞추어 (마)의 과일이 수입되고 있다.



- ① (가)    ② (나)    ③ (다)    ④ (라)    ⑤ (마)

4. 지도를 바탕으로 러시아와 체첸 간의 갈등 원인을 추론하였다. 그 원인을 <보기>에서 모두 고른 것은? [3점]

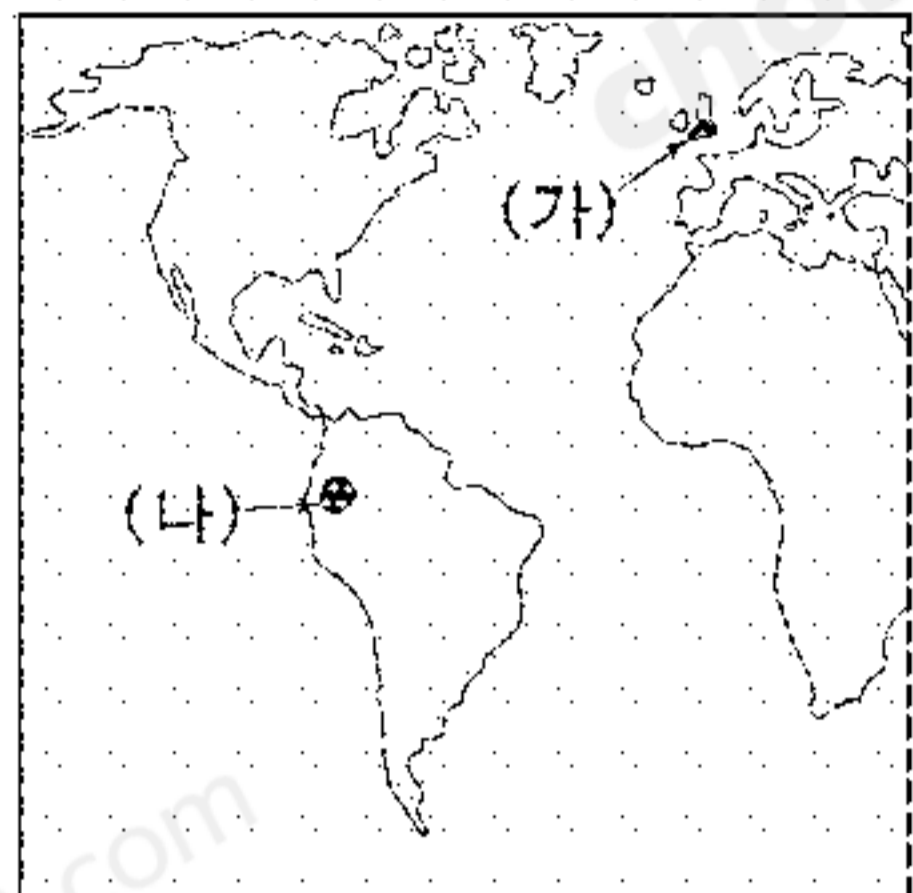


<보 기>

- ㄱ. 체첸은 터키·이란 등 남부 진출을 위한 교통의 요지이기 때문이다.
- ㄴ. 체첸은 석유 자원이 풍부할 뿐 아니라 러시아로의 송유관이 통과하기 때문이다.
- ㄷ. 체첸의 인구는 다수의 러시아인과 소수의 체첸인으로 구성되어 있기 때문이다.
- ㄹ. 체첸은 비옥한 흑토 지대에 위치하고 있어 밀의 주요 생산 지역이기 때문이다.

- ① ㄱ, ㄴ    ② ㄱ, ㄷ    ③ ㄴ, ㄷ    ④ ㄴ, ㄹ    ⑤ ㄷ, ㄹ

5. (가), (나)로 여행간 두 친구로부터 온 전자 우편 내용의 일부이다.

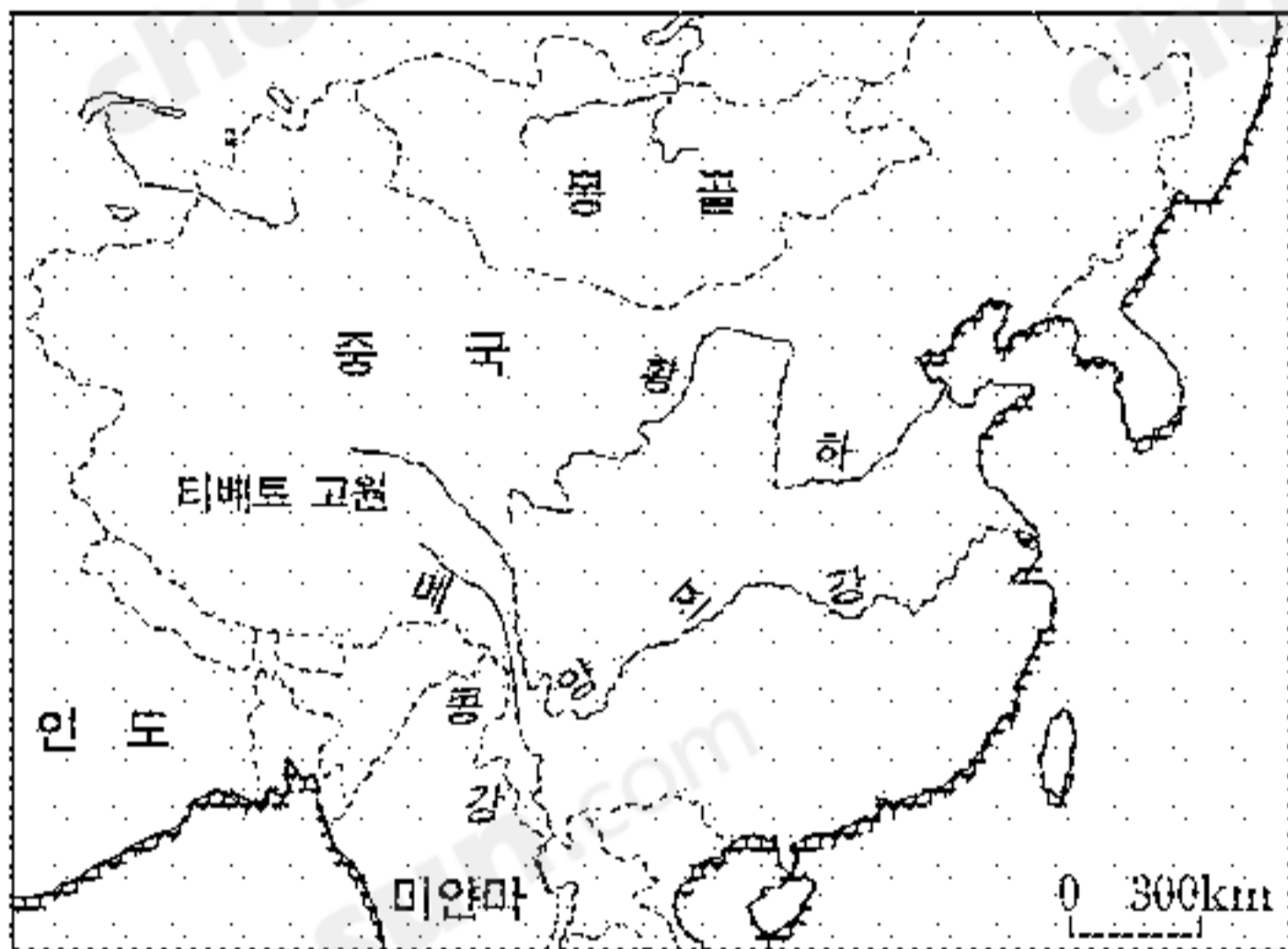


(가)  
○○야!  
겨울 방학은 잘 보내고 있지?  
한국은 날씨가 춥지? 이 곳은 1월인데  
도 영상 4도로 생각 만큼 춥지않아. 그  
래도 서쪽에서 자주 불어 오는 바람은  
싸늘하게 느껴져.  
(나)  
○○야!  
지난 주에 아버지를 따라 잉카 문명의  
유적지를 다녀 왔어. 내가 머물고 있는  
곳은 적도에 걸쳐 있지만 늘 한국의 봄  
과 같은 날씨야.

(가), (나)와 같은 기후 특색이 나타나는 데 가장 큰 영향을 끼치는 기후 요인을 바르게 짚은 것은? [3점]

- |      |         |      |         |
|------|---------|------|---------|
| (가)  | (나)     | (가)  | (나)     |
| ① 위도 | ② 격해도   | ③ 해류 | ④ 위도    |
| ③ 해류 | ④ 해발 고도 | ⑤ 지형 | ⑥ 해발 고도 |
| ⑤ 지형 | ⑥ 격해도   |      |         |

6. 지도와 자료를 바탕으로 중국 서부 지역에 대해 추론한 내용으로 적절하지 않은 것은? [3점]



중국의 서부 지역은 유목민의 생활 터전이고 여러 자치구로 이루어져 있는 광대한 지역이다. 산지의 해발 고도가 높고 사막이 넓게 발달하였다. 이 곳은 황하·양쯔 강·메콩 강의 발원지이다. 메콩 강 상류에서 벌목을 중단하고 식목 사업을 전개하고 있으며 7개의 댐 건설 계획을 추진하고 있다. 인구가 적고 경제는 낙후되었지만 각종 지하 자원이 풍부하다. 최근 중국 정부는 내륙 개발을 목적으로 사회 간접 자본에 막대한 투자를 하고 있다. 그러나 서부 지역 일부 주민들은 한(漢)족만 부자가 되기 위해 자원 개발을 서두른다고 생각한다.

- ① 소수 민족 문제가 지역 개발에 장애가 된다.
- ② 서부 개발은 몽골에 수질 오염을 일으킨다.
- ③ 개발로 인하여 서부로의 인구 유입이 기대된다.
- ④ 서부는 교통이 불편하여 개발이 지연되고 있다.
- ⑤ 식목과 댐 건설은 인도차이나 반도에 영향을 준다.

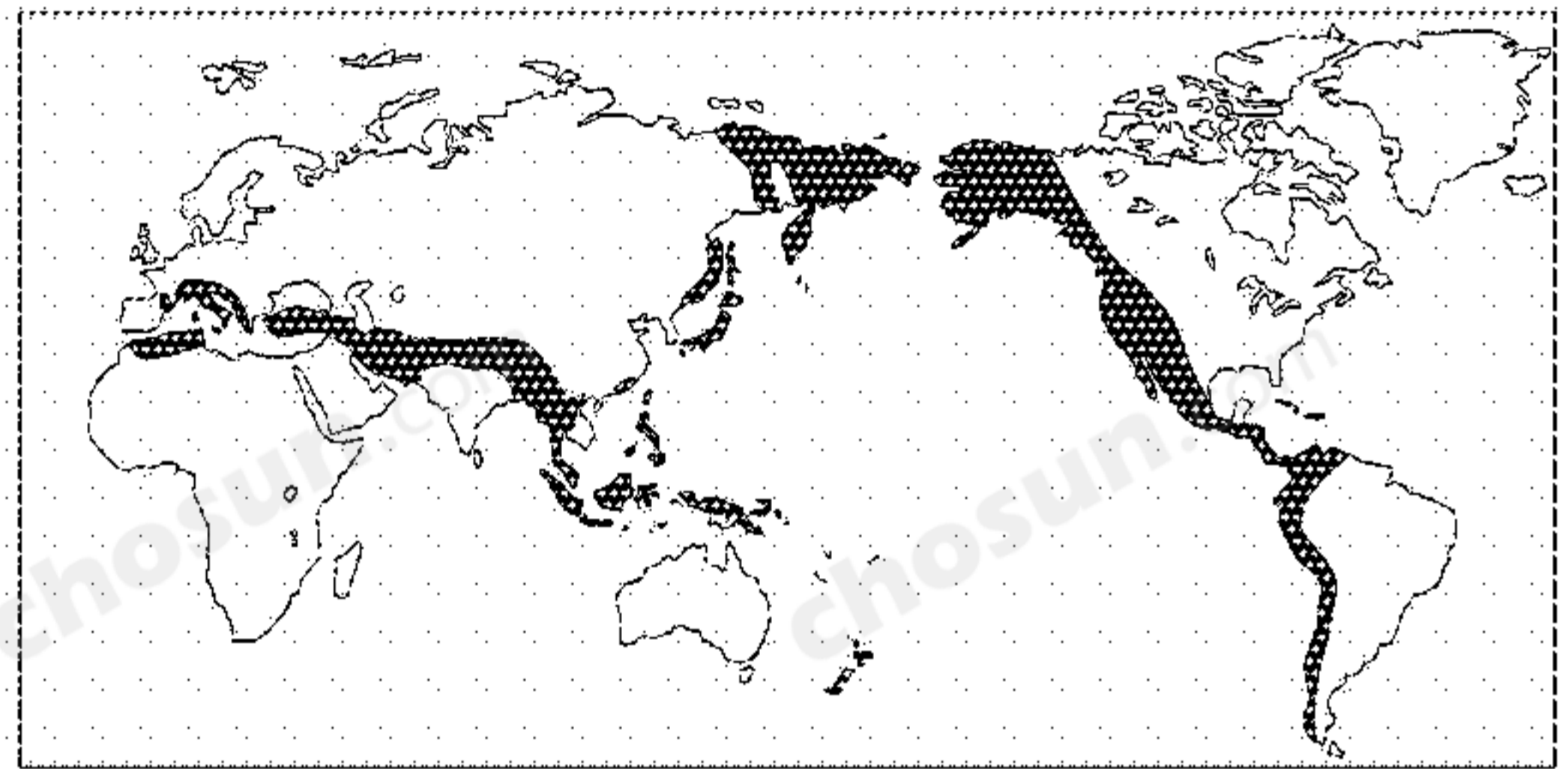
7. 다음은 13세기 말 아시아의 모습이 담긴 여행기의 일부이다. (가)~(마)에 관한 설명으로 옳지 않은 것은? [3점]

모슬은 여러 종족이 사는 큰 왕국인데 그 곳에는 (가) 마흐메트를 신봉하는 아라비(Arabi)라는 종족이 있다. (나) 바우닥(Baudac)은 굉장히 큰 도시이며, 그 곳에는 세상의 모든 사라센들 위에 군림하는 칼리프가 있다. 도시 한 가운데로 (다) 큰 강 하나가 지나고, 그 강을 따라가면 무사히 인도양에 도달할 수 있다. (라) 쿠르모스(호르무즈)라는 항구에서 상인들은 인도에서 갖가지 향료와 보석과 진주, 비단과 금실로 짠 옷감, 상아 등 여러 가지 물품을 배에 싣고 와서 판매한다. 호르무즈에서 케르만으로 돌아가는 길에는 (마) 우물구멍들을 통해 물이 흐르는 것이 보였다.

-마르크폴로, 『동방견문록』-

- ① (가)는 이슬람 교를 믿는 아랍 인들이다.
- ② (나)는 이라크의 수도인 바그다드이다.
- ③ (다)는 고대 문명의 발상지인 인더스 강이다.
- ④ (라)는 당시에 국제 교역의 무대였다.
- ⑤ (마)는 일종의 전통적 지하 관개 수로이다.

8. 지도에 검게 표시된 세계 대지형의 형성 작용을 알아보기 위해 인터넷 검색을 하기로 하였다. 이 때 입력할 검색어로 가장 적절한 것은?



- ① 빙하발달
- ② 안정육괴
- ③ 토양침식
- ④ 퇴적작용
- ⑤ 신기조산대

9. 다음에 소개된 국가에 대한 설명으로 옳은 것은? [3점]

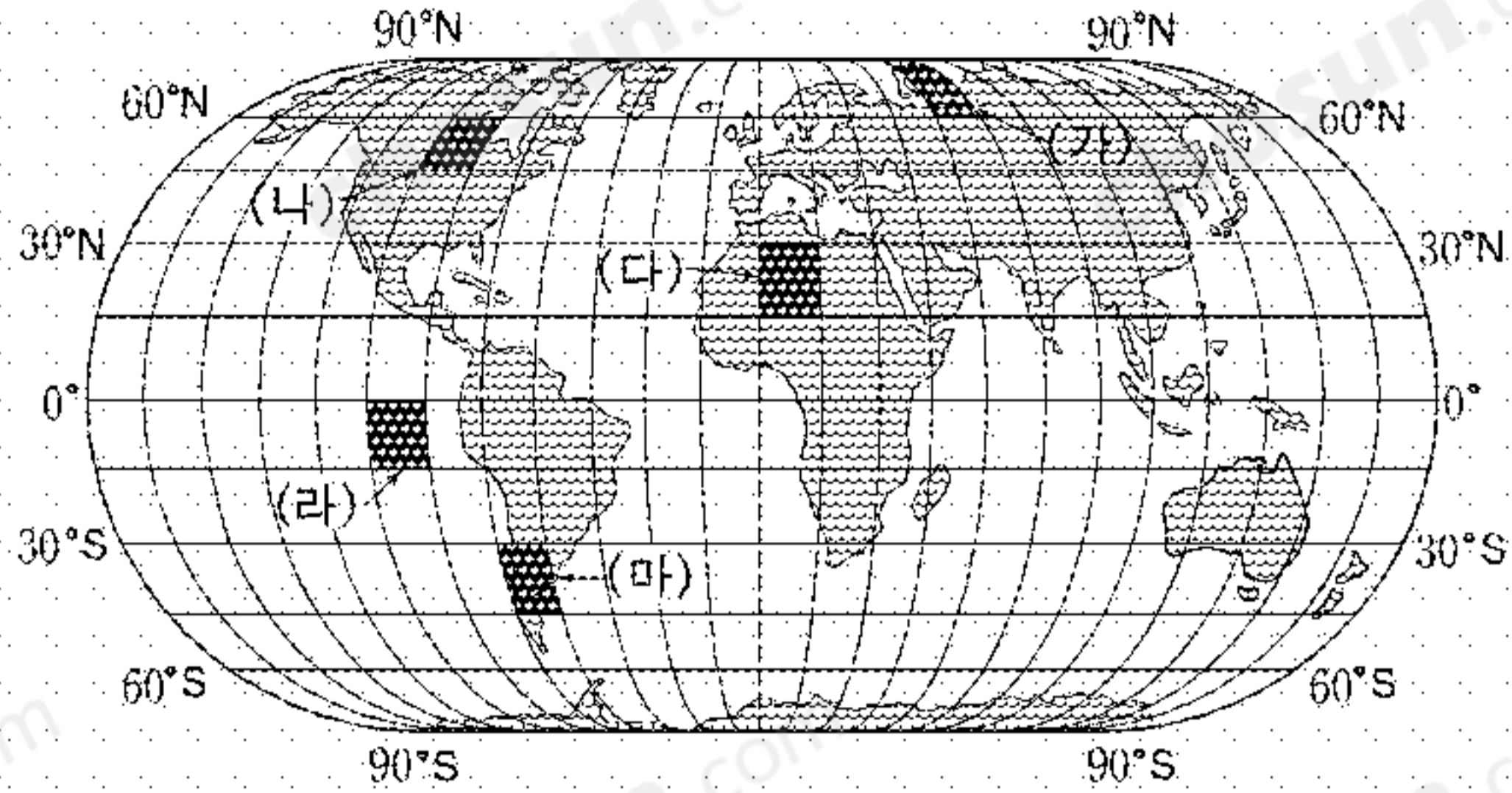
이 나라 정부의 통계에 의하면, 포르투갈어를 쓰는 인구 1억 7천만 명 가운데 5천만 명이 끼니를 걱정하는 절대 빈곤에 시달린다고 한다. 소득의 상위 10%가 국부(國富)의 절반을 소유하고 있으며, 소득의 상위 3%가 전체 농경지의 60% 이상을 차지하고 있다.

대륙의 절반을 차지하는 국토는 사막도 태풍도 지진도 없다. 현재 농사짓고 있는 땅은 5% 정도밖에 안되는데, 이미 세계 최대의 콩·쇠고기 수출국으로 군림하고 있다. 소 사육두수는 약 2억 마리로 미국의 두 배가 넘고, 커피와 사탕수수의 생산과 수출도 세계 최고 수준이다.

-○○일보, 2004년-

- ① 단일한 인종 집단으로 구성되어 있다.
- ② 경지율이 높고 세계적인 밀 수출 지역이다.
- ③ 구소련 해체 때문에 커다란 변화를 겪었다.
- ④ 벌목, 인구 증가 등으로 열대림 면적이 줄었다.
- ⑤ 대찬정 분지에서 주로 양의 사육이 이루어지고 있다.

10. 지도에 검게 표시된 부분의 자연 환경에 관한 설명으로 옳은 것은? [3점]



- ① (가)에서는 북극 쪽으로 탁월풍이 분다.
- ② (나)는 신생대 제4기 빙기에 빙하로 덮여 있었다.
- ③ (다)에서는 별목으로 열대 우림이 파괴되고 있다.
- ④ (라) 해상의 수온이 낮으면 엘니뇨가 발생한다.
- ⑤ (마)의 육지는 대부분 라테라이트 토로 덮여 있다.

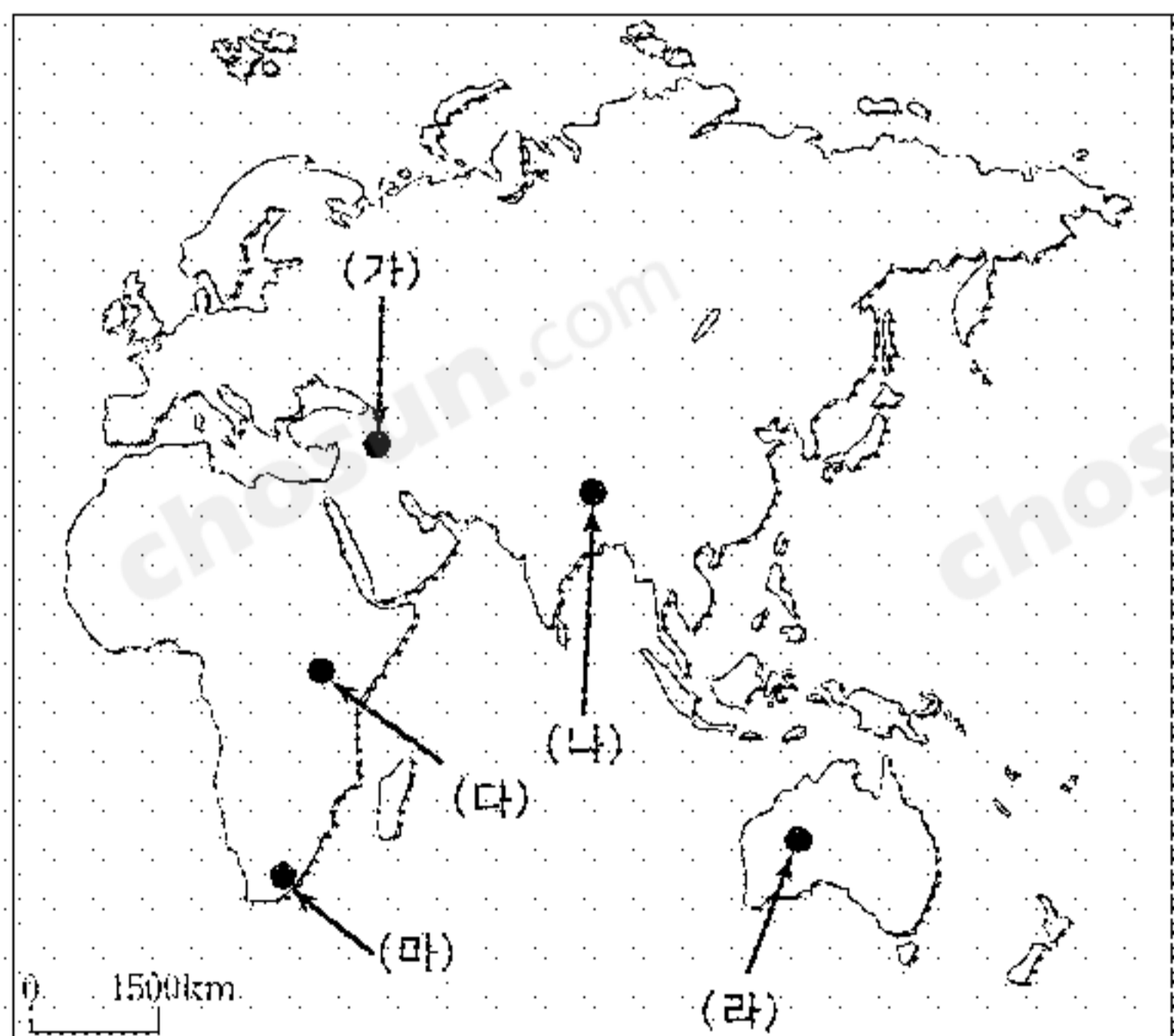
11. 다음은 중·남부 아프리카에 관한 모듈별 학습 주제와 활동 내용이다. (가)~(마)에 들어갈 내용으로 적절하지 않은 것은?

(학습 주제)	(학습 활동 내용)
유럽의 아프리카 식민 지배 역사	→ (가)
끊임없이 일어나는 분쟁과 내전	→ (나)
경지 개간과 열대 우림의 파괴	→ (다)
국가별 플랜테이션 발달 정도	→ (라)
다이아몬드 광산의 지역적 분포	→ (마)

- ① (가) : 국경선의 형태와 지명 조사
- ② (나) : 다양한 부족과 언어의 분포 확인
- ③ (다) : 이동식 화전 농업 지역 파악
- ④ (라) : 수출용 상품 작물 재배 면적 조사
- ⑤ (마) : 카르스트 지형의 형성 과정 조사

12. 자료에 해당하는 소수 민족이 주로 거주하는 지역을 지도에서 바르게 고른 것은?

- 돼지 고기를 먹지 않는다.
- 거주 지역 내의 석유 매장량이 풍부하다.
- 여러 국가에 걸쳐 집단 거주하고 있다.



- ① (가)    ② (나)    ③ (다)    ④ (라)    ⑤ (마)

13. 다음에 소개된 환경 운동의 목적으로 가장 적절한 것은? [3점]

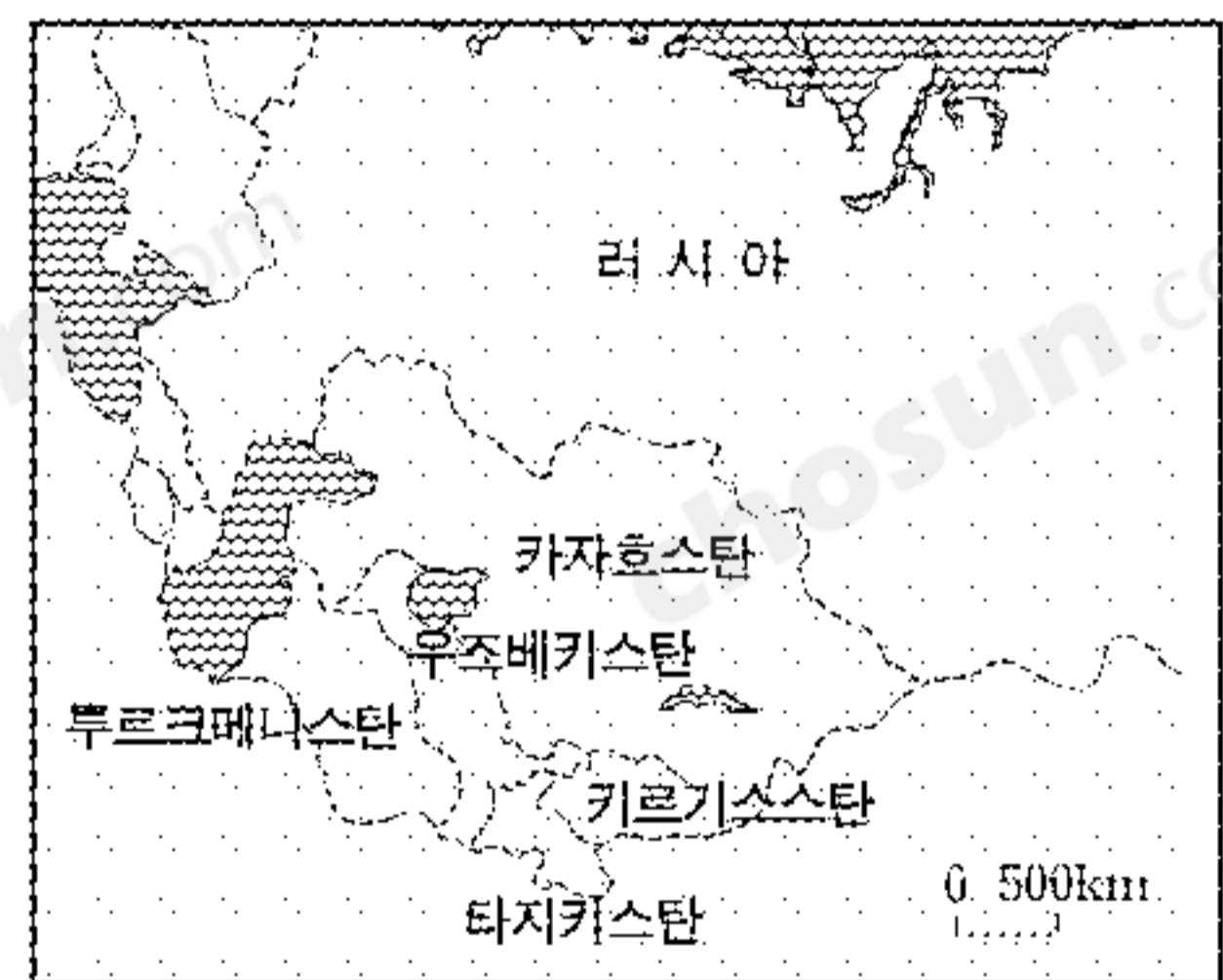
‘그린벨트운동’은 1977년 지구의 날에 케냐에서 시작되었다. 케냐 국토의 일부는 아프리카 사헬 지대에 포함된다. ‘그린벨트운동’은 비 도시 지역에서 나무 심기를 장려하며 전국적인 네트워크를 만들었다. 1999년에는 ‘그린벨트운동’ 여성 회원 5만여 명이 2000만 그루 이상의 나무를 심은 것으로 추정되는데, 수백만 그루는 아직도 자라고 있다고 한다.

- 『지구환경보고서 2003』 -

- ① 케냐 경제의 세계화에 따른 대비
- ② 산성비에 의한 농경지의 피해 축소
- ③ 농촌의 도시화에 따른 수질 오염 방지
- ④ 사하라 사막 남쪽의 사막화에 대한 대응
- ⑤ 지나친 벌목으로부터 열대 우림 보호


14. 구소련에서 독립한 중앙 아시아 국가들에 관하여 수집한 지리 정보와 지도이다. 이 자료를 분석한 내용으로 적절하지 않은 것은? [3점]

국명	인구 (만명)	1인당 GNP(\$)	주요 특징
카자흐스탄	1,480	1,350	목축, 관개 농업, 석유 수출
타지키스탄	660	330	산악 지형, 내전, 빈곤, 기근
키르기스스탄	480	480	산악 지형, 목화, 유목
투르크메니스탄	460	640	면직, 양모, 견직, 석유·천연 가스 수출
우즈베키스탄	2,520	1,020	관개 농업, 목화, 석유·천연 가스 수출



- ① 카자흐스탄은 석유 수출로 1인당 GNP가 높다.
- ② 타지키스탄은 경지가 좁고 생활이 궁핍하다.
- ③ 키르기스스탄은 지진대에 속한다.
- ④ 투르크메니스탄은 섬유 공업이 발달하였다.
- ⑤ 우즈베키스탄의 목화 재배는 연중 고른 강우 때문이다.


15. 다음은 서부 유럽의 농업 변화를 나타낸 것이다. (가)에 알맞은 내용을 <보기>에서 모두 고른 것은?




- <보 기>
- ㄱ. 신선한 농산물에 대한 수요 증대
  - ㄴ. 지하수를 이용한 관개 농업의 발달
  - ㄷ. 도시화에 따른 인구 밀집 지역의 등장
  - ㄹ. 세계무역기구(WTO)의 농산물 시장 개방 압력

- ① ㄱ, ㄴ    ② ㄱ, ㄷ    ③ ㄴ, ㄷ    ④ ㄴ, ㄹ    ⑤ ㄷ, ㄹ


16. (가)~(다)와 유사한 경관을 볼 수 있는 지역을 지도에서 찾아 바르게 짝지은 것은?



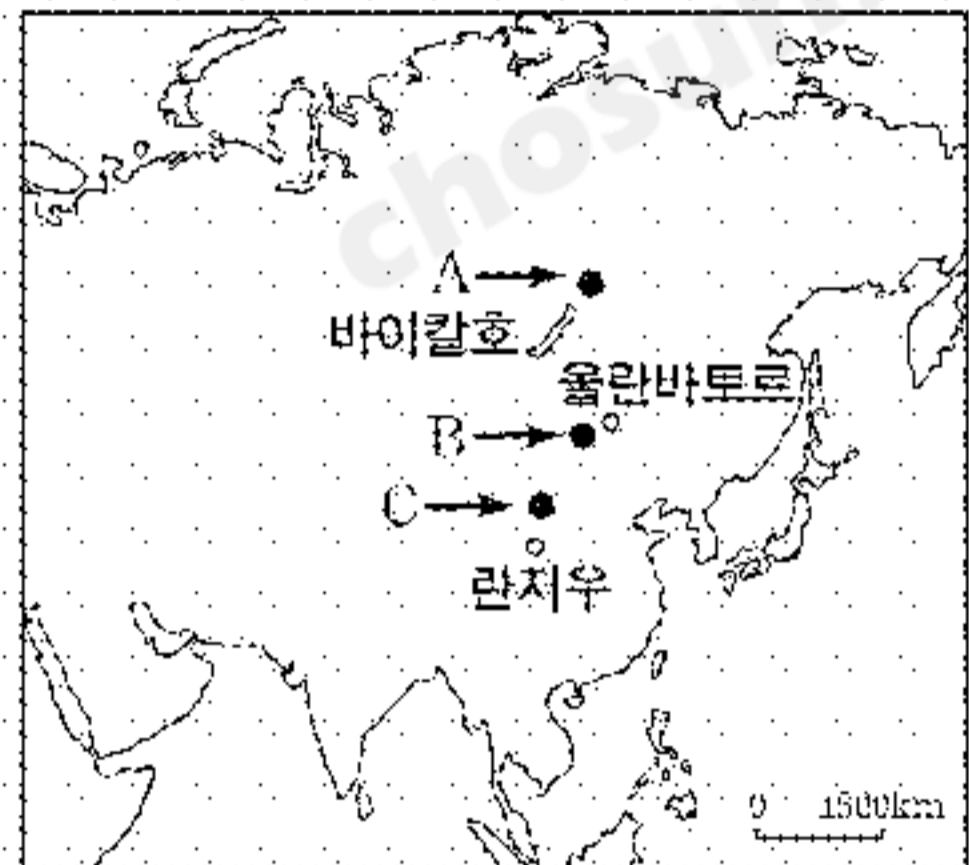
(가)



(나)



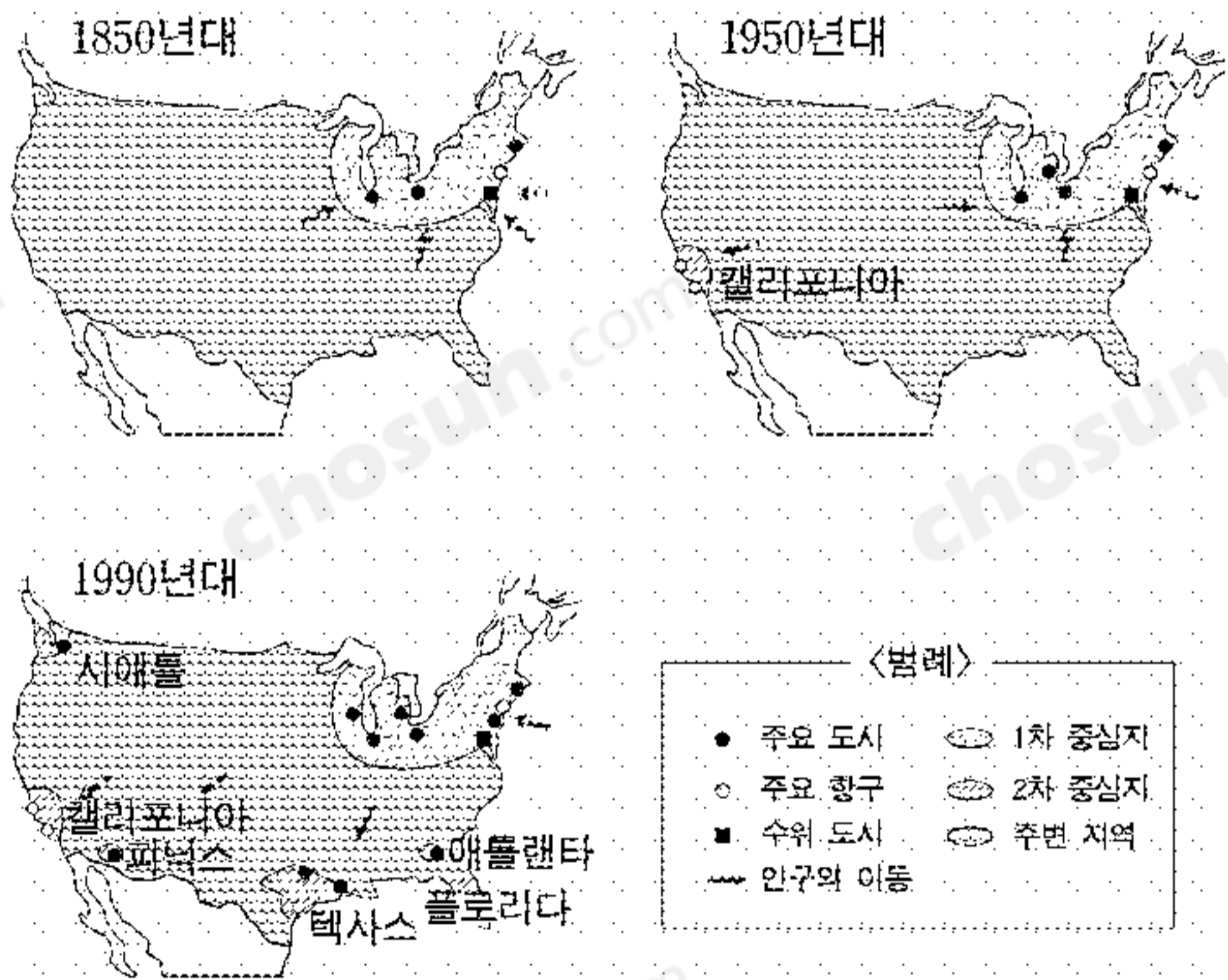
(다)



- (가) (나) (다)
- ① A B C
  - ③ B A C
  - ⑤ C B A

- (가) (나) (다)
- ② A C B
  - ④ C A B

17. 지도는 미국 공업 지역의 변화를 나타낸 것이다. 이를 통해 바르게 파악한 내용을 <보기>에서 모두 고른 것은?

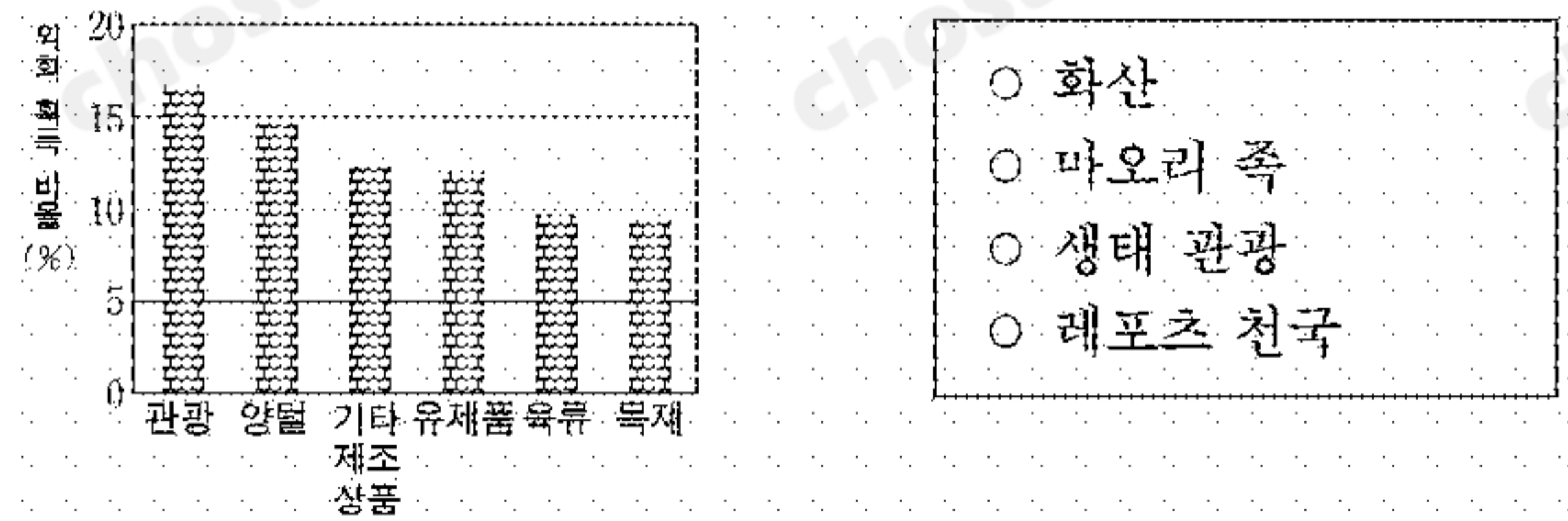


<보 기>

ㄱ. 1950년대에는 태평양 연안에 새로운 공업 지대가 형성되었다.  
 ㄴ. 1990년대에는 선벨트에서 스노우벨트로 이동이 일어났다.  
 ㄷ. 오대호 연안은 철광석, 수운, 철도 등을 바탕으로 성장하였다.  
 ㄹ. 최근 북동부는 경공업 지역으로 빠르게 변모하고 있다.

- ① ㄱ, ㄴ    ② ㄱ, ㄷ    ③ ㄴ, ㄷ    ④ ㄴ, ㄹ    ⑤ ㄷ, ㄹ

18. (가)는 어떤 국가의 산업별 외화 획득 비율, (나)는 이 국가에 대한 인터넷 검색 결과 많이 나타나는 용어이다. 이 국가의 관광 홍보 문구로 적절하지 않은 것은? [3점]

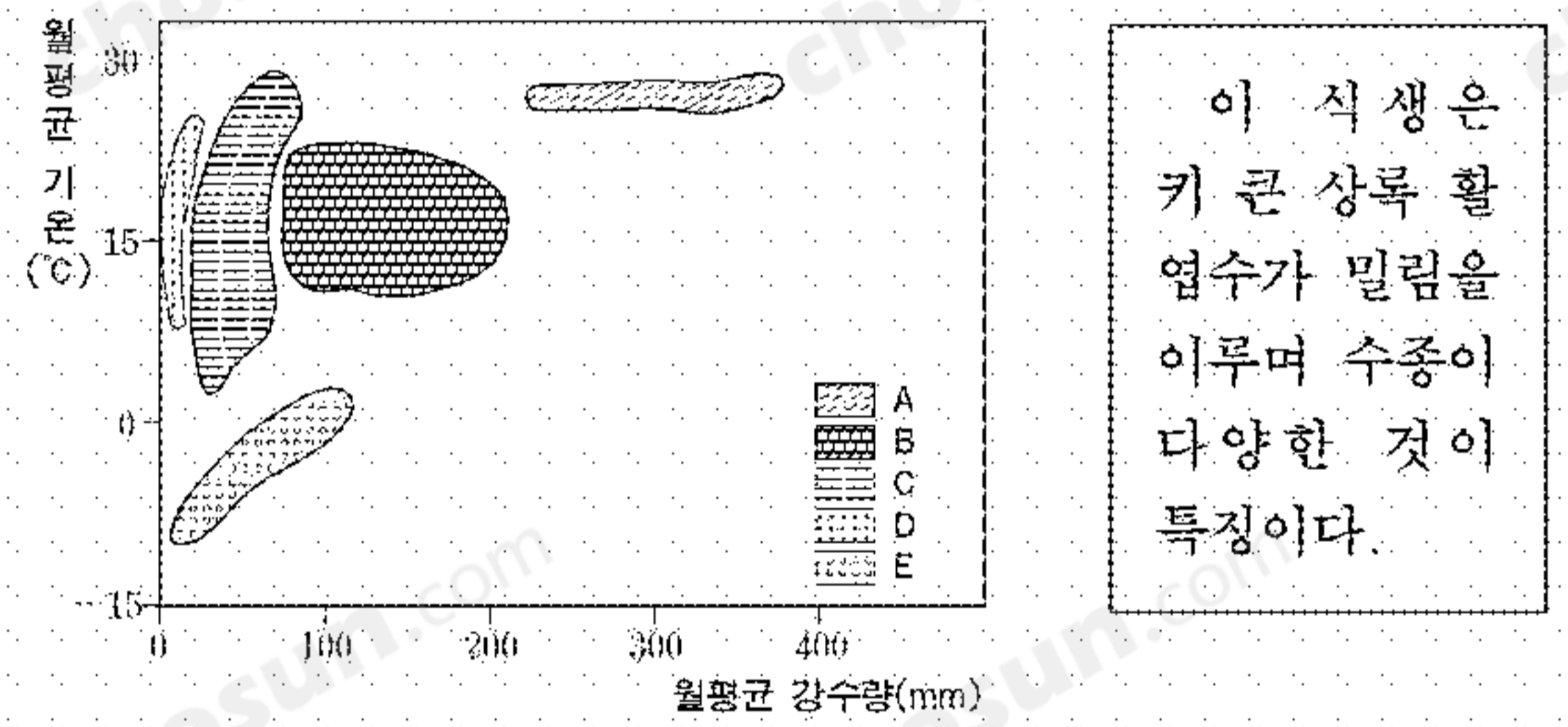


(가)

(나)

- ① 빙하 보고 온천욕을...
- ② 낙타를 타고 사막 횡단을...
- ③ 원주민과 함께 민속 춤을...
- ④ 양털 깎기를 직접 체험해 보세요.
- ⑤ 크리스마스 파티는 여름 해변에서...

19. 그림 (가)는 식생이 분포하는 지역의 기후를 나타낸다. 글 (나)에 해당되는 것은? [3점]

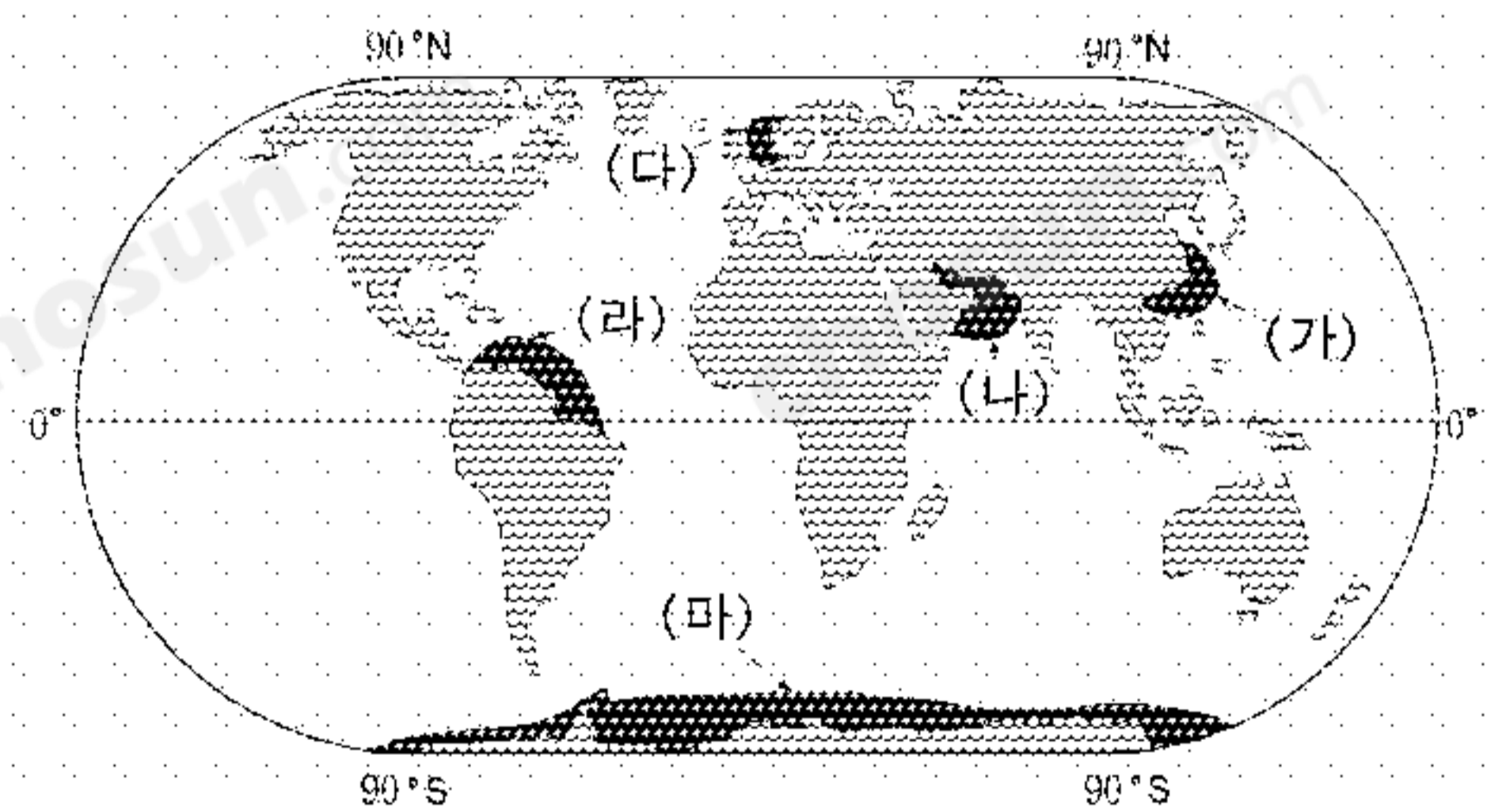


(가)

(나)

- ① A    ② B    ③ C    ④ D    ⑤ E

20. 지도에 검게 표시된 해양에 대한 설명으로 옳은 것은?



- ① (가)에는 연중 한류가 흐른다.
- ② (나)는 세계 최대의 어장이다.
- ③ (다)에서는 원유의 생산이 활발하다.
- ④ (라)에서는 봄, 가을에 계절풍이 분다.
- ⑤ (마)는 배타적 경제 수역(EEZ)과 일치한다.

\* 확인 사항

○ 답안지의 해당란에 필요한 내용을 정확히 기입(표기)했는지 확인 하시오.