

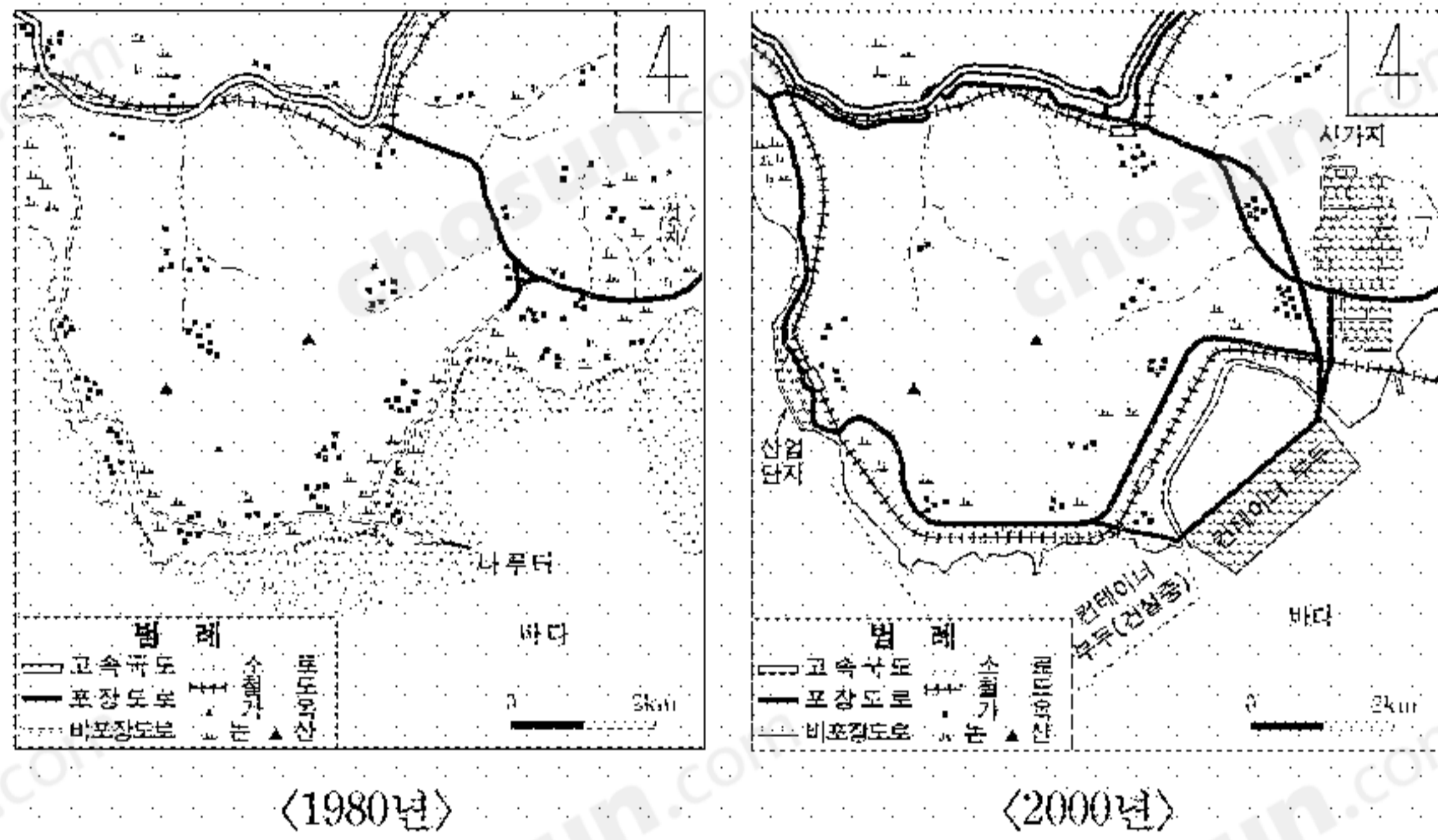
제 4 교시

사회탐구 영역(경제 지리)

성명	수험 번호
----	-------

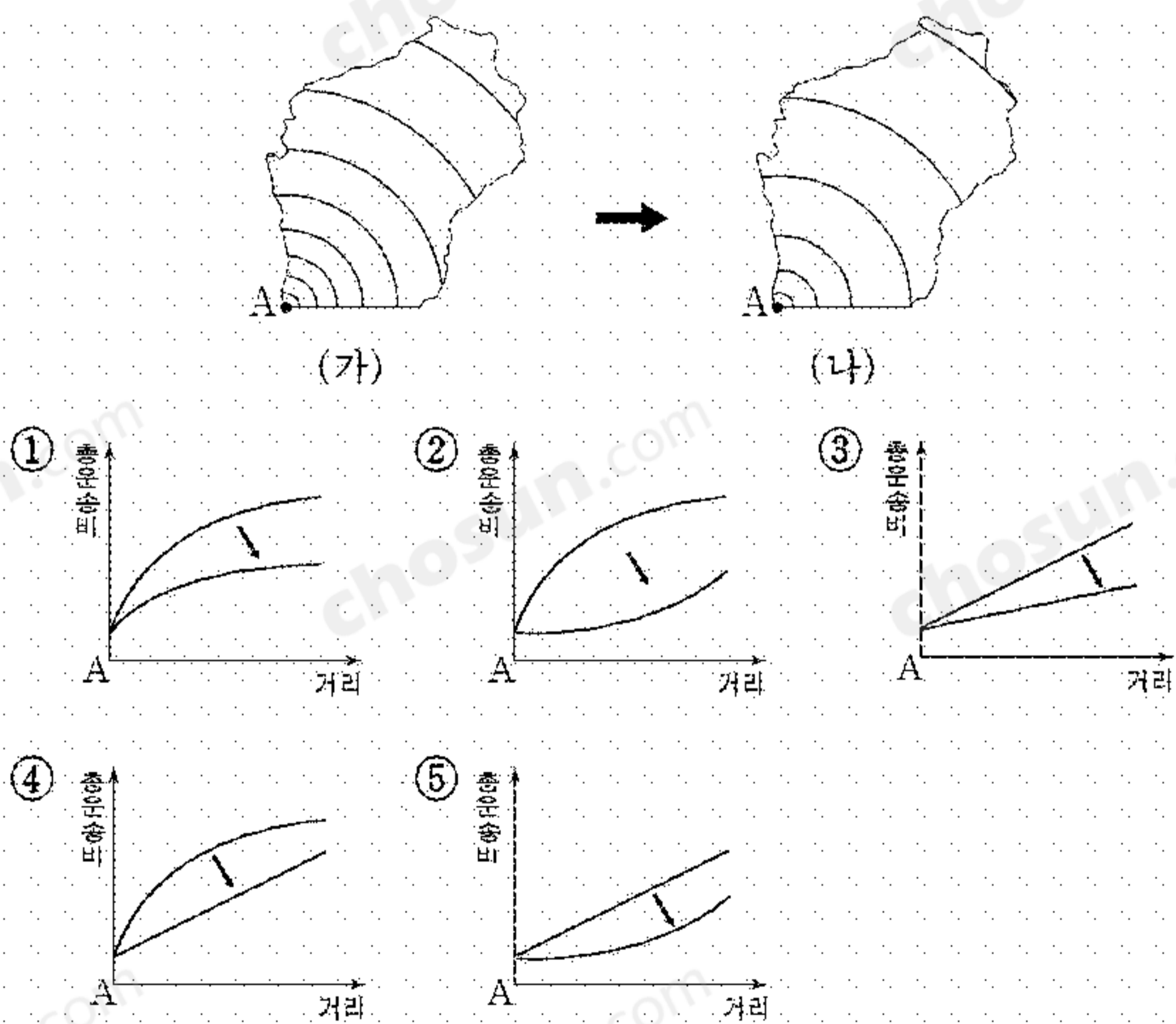
- 자신이 선택한 과목의 문제지인지 확인하시오.
- 문제지에 성명과 수험 번호를 정확히 써 넣으시오.
- 답안지에 성명과 수험 번호를 써 넣고, 또 수험 번호와 답을 정확히 표시하시오.
- 과목을 선택한 순서대로 풀고, 답은 답안지의 '제1선택'란에서부터 차례대로 표시하시오.
- 문항에 따라 배점이 다르니, 각 물음의 끝에 표시된 배점을 참고하시오. 3점 문항에만 점수가 표시되어 있습니다. 점수 표시가 없는 문항은 모두 2점입니다.

1. 지도는 어느 지역의 변화를 나타낸 것이다. 이 지역에 대해 추론한 내용으로 적절하지 않은 것은?

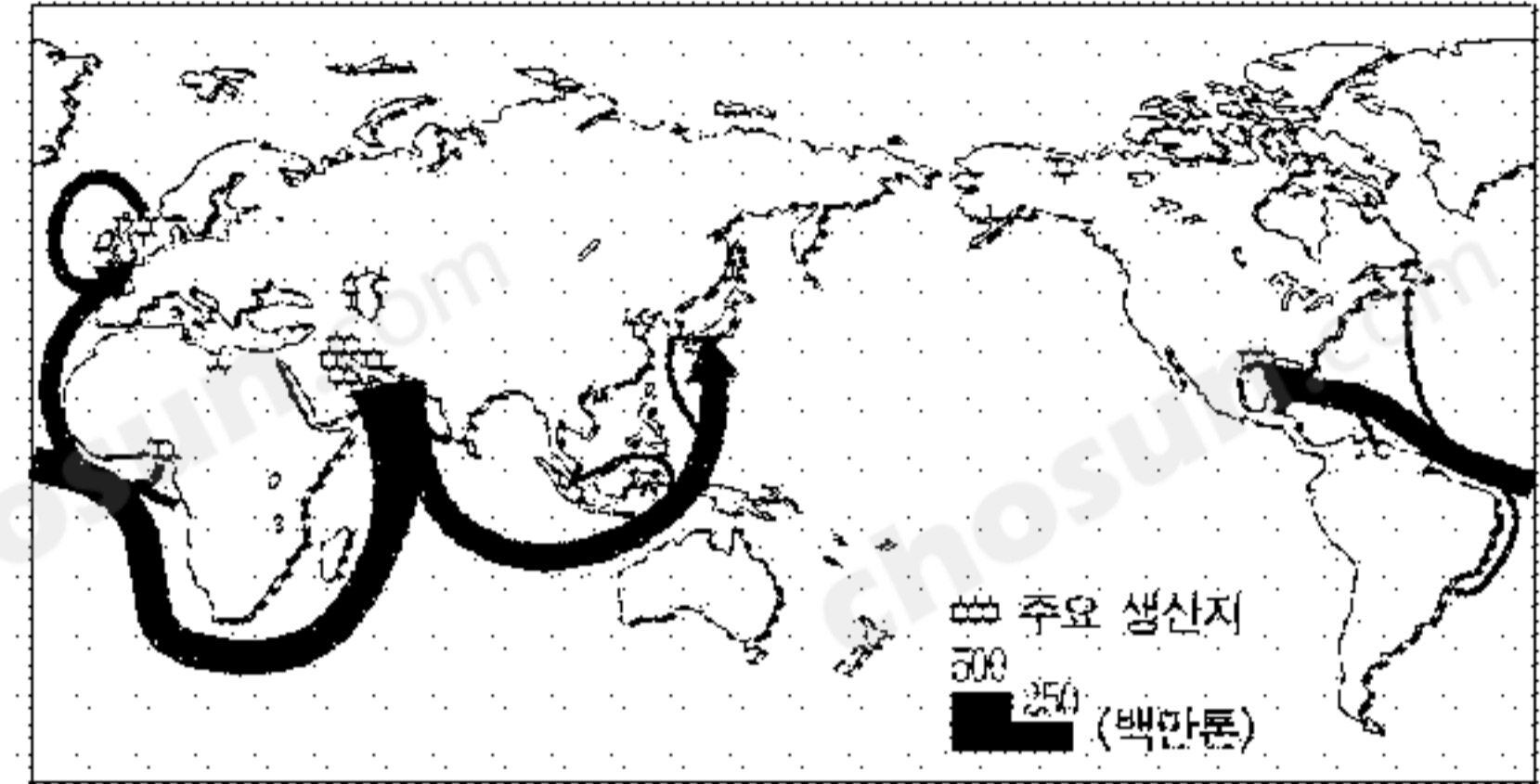


- ① 물류 기능이 강화되었을 것이다.
- ② 수산 양식업이 유리해졌을 것이다.
- ③ 농업적 토지 이용이 감소했을 것이다.
- ④ 공업 입지 조건이 유리해졌을 것이다.
- ⑤ 20~40대 인구의 비중이 커졌을 것이다.

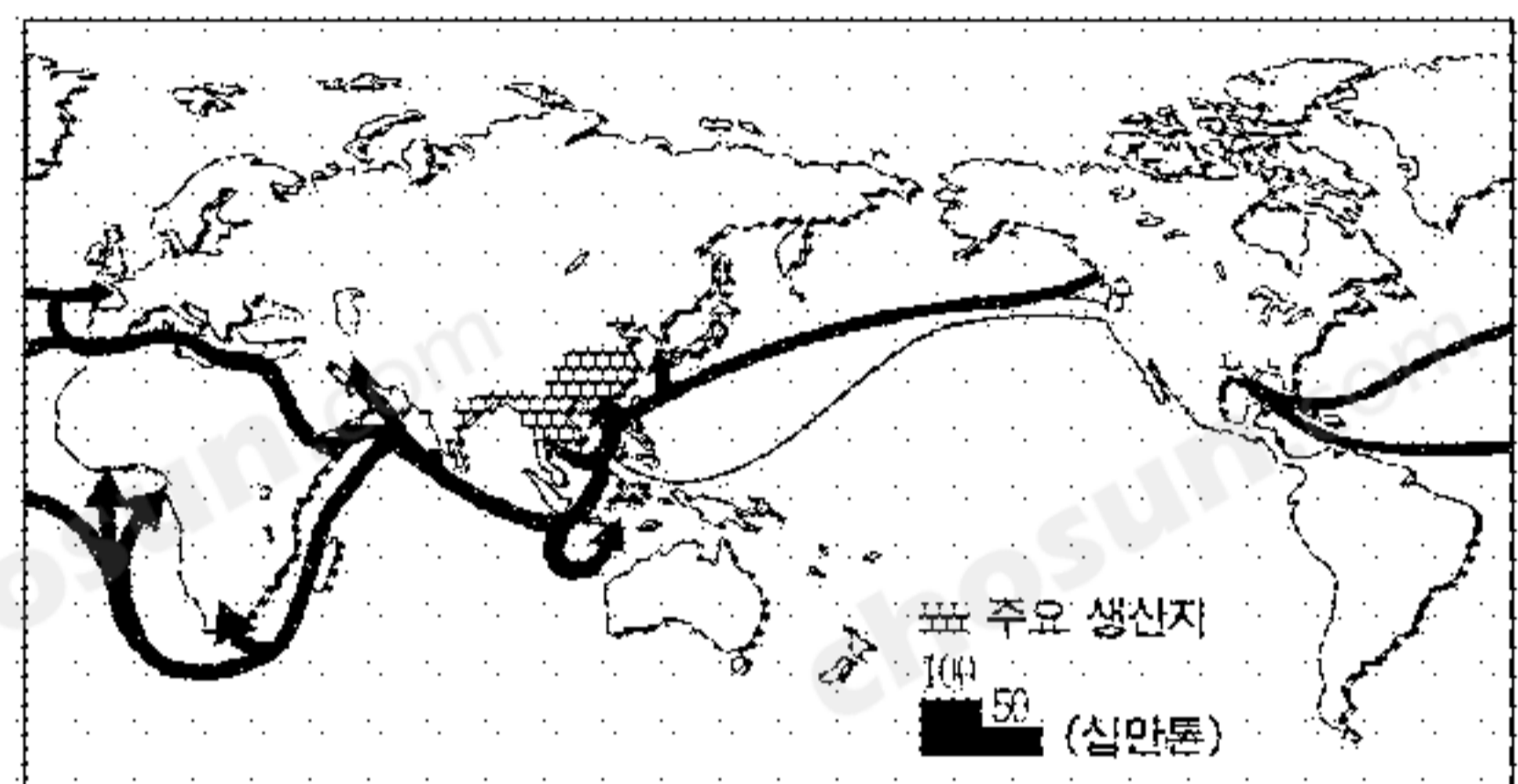
2. 그림은 가상 지역의 A로부터 거리 증가에 따른 총 운송비 변화를 나타낸 것이다. (가)에서 (나)로의 변화를 가장 잘 나타낸 운송비 곡선은? (운송비는 A로부터 100원 간격의 등치선으로 나타냄) [3점]



3. 지도는 어떤 자원의 분포와 이동을 나타낸 것이다. (가), (나) 자원에 대한 설명으로 적절하지 않은 것은?



(가) 에너지



(나) 식량

- ① (가)는 고갈될 가능성이 점차 높아지고 있다.
- ② (가)는 주요 생산지가 일부 지역에 편재되어 있다.
- ③ (나)는 기후의 영향을 크게 받는다.
- ④ (나)의 주요 생산지는 인구 밀도가 낮은 지역이다.
- ⑤ (가)는 (나)보다 세계 생산량 대비 교역량의 비중이 크다.

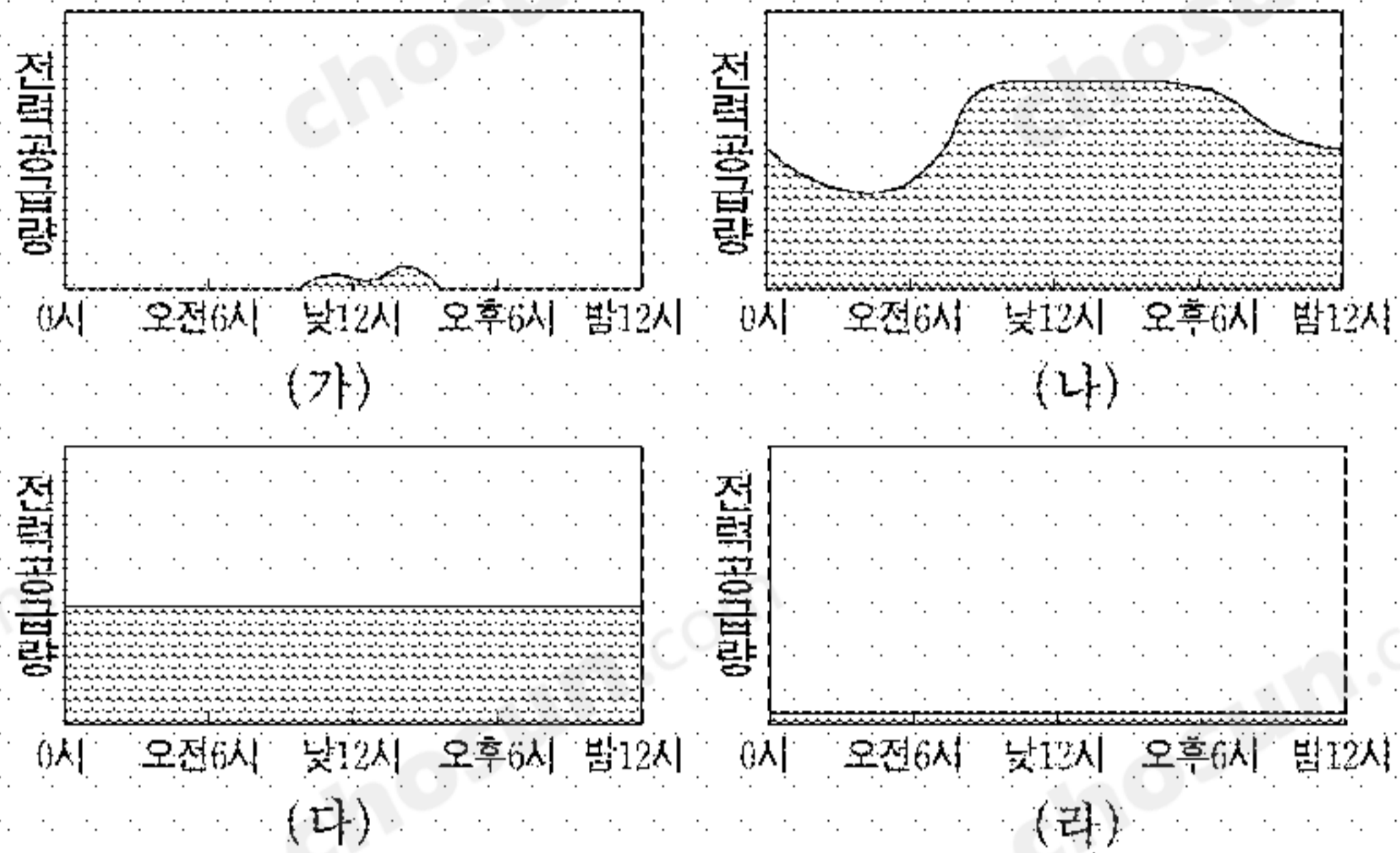
4. 다음은 한 학생이 제출한 보고서 결론 부분의 사례이다. 사례를 바탕으로 할 때, 교사가 제시했을 수행 평가의 탐구 주제로 가장 적절한 것은? [3점]

사례 1. 그리스의 미코노스 섬은 독특한 풍경과 건축 양식, 그리고 평온하고 아늑한 분위기를 가진 섬이다. 관광지로 개발되면서 세계 도처에서 관광객들이 지속적으로 늘어나 오래 전부터 문제였던 물 부족이 더욱 심화되었으며, 호텔에서 버린 하수로 인해 지하수가 오염되기 시작하였다. 지역 주민들은 “400년 간의 터키 점령 하에서도 살아남은 전통, 관습, 건물이 관광이 시작된 지 20년 만에 소멸의 위기에 처해 있다.”고 말한다.

사례 2. 태국의 고산 족 촌락은 20년 전에 발견되었다. 곧 관광객이 몰려들면서 촌락의 전통적인 농업 활동은 변화를 겪었다. 이전의 고산 족 전통 의식과 전통 의상은 보여주기 위한 행사, 문화 상품이 되었다. 지역 주민들은 “우리는 들에 나가 일하고 돌아온 매일 밤 이 전통 의식을 행하곤 했다. 하지만 이제 여인들은 단지 돈을 벌기 위해서 일상적인 옷을 전통 의상으로 바꾸어 입고 노래한다.”고 말한다.

- ① 지역 축제와 관광 소득 증대
- ② 관광 자원으로서의 자연 경관
- ③ 관광 개발을 통한 지역 격차 해소
- ④ 관광 산업의 발달에 따른 지역 변화
- ⑤ 관광 개발을 위한 사회 간접 자본의 확충

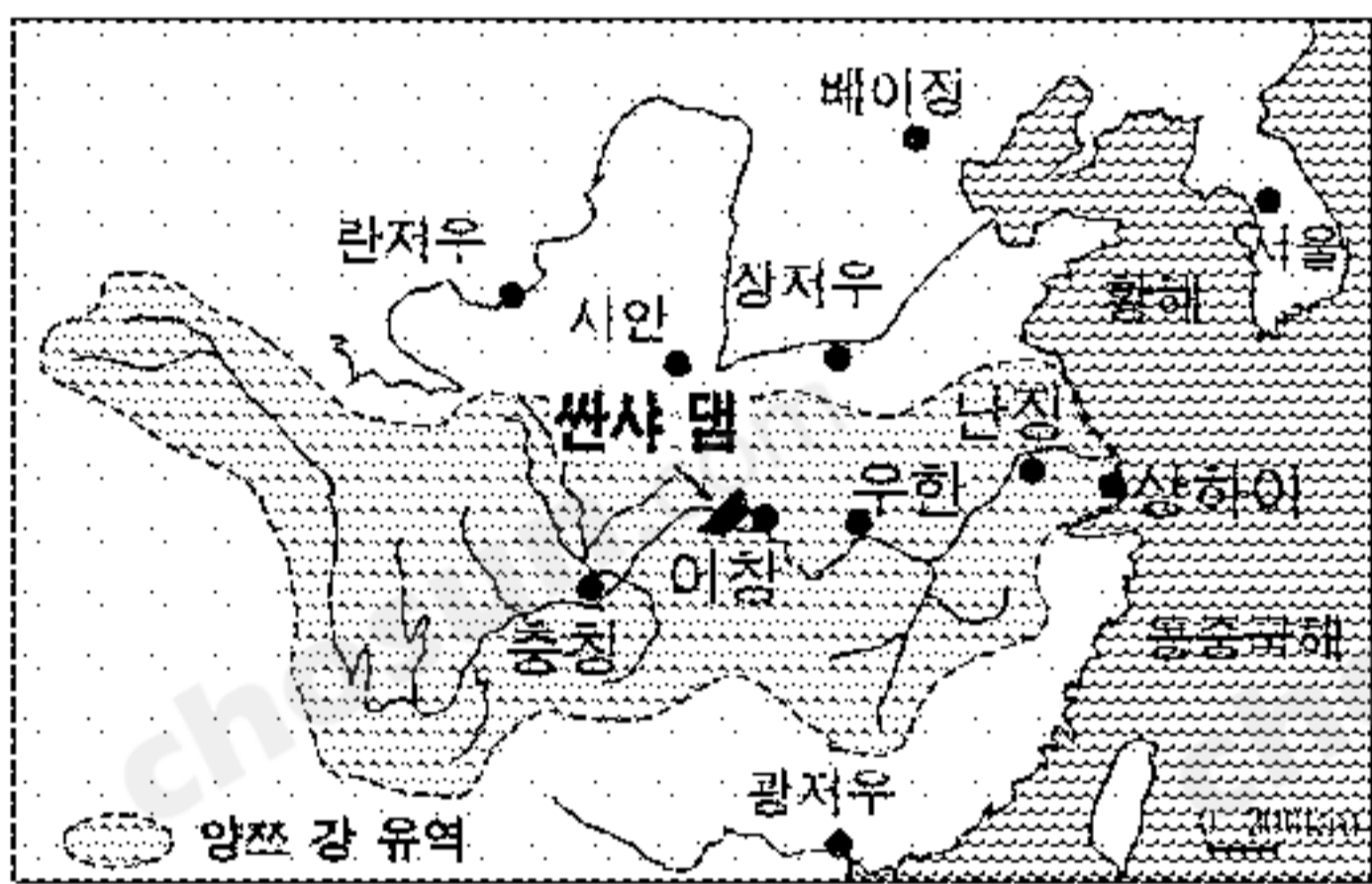
5. 그래프는 우리나라의 여름철 1일 시간대별 전력 공급량을 나타낸 것이다. (가)~(라) 발전의 특성에 대한 옳은 설명을 <보기>에서 모두 고른 것은? [3점]



<보 기>
 가. (가)는 야간의 잉여 전력을 활용하여 탄력적으로 공급한다.
 나. (나)는 화석 연료를 사용하므로 대기 오염을 가져온다.
 다. (다)는 발전 방식의 특성상 주로 내륙에 분포한다.
 라. (라)는 소비지에 가까이 입지하므로 송전 비용이 적게 든다.

- ① 가, 나 ② 가, 다 ③ 나, 다 ④ 나, 라 ⑤ 다, 라

6. 지도는 중국에서 건설하고 있는 뚝사 댐의 위치를 나타낸 것이다. 이 댐의 완공 이후 예상할 수 있는 변화로 적절하지 않은 것은?



- ① 댐 하류의 수질이 악화될 것이다.
 ② 양쯔 강의 유역 면적이 확장될 것이다.
 ③ 황해의 생태계에 변화를 초래할 것이다.
 ④ 댐 상류 충칭의 수운 기능이 향상될 것이다.
 ⑤ 전력 생산으로 내륙의 공업화가 촉진될 것이다.

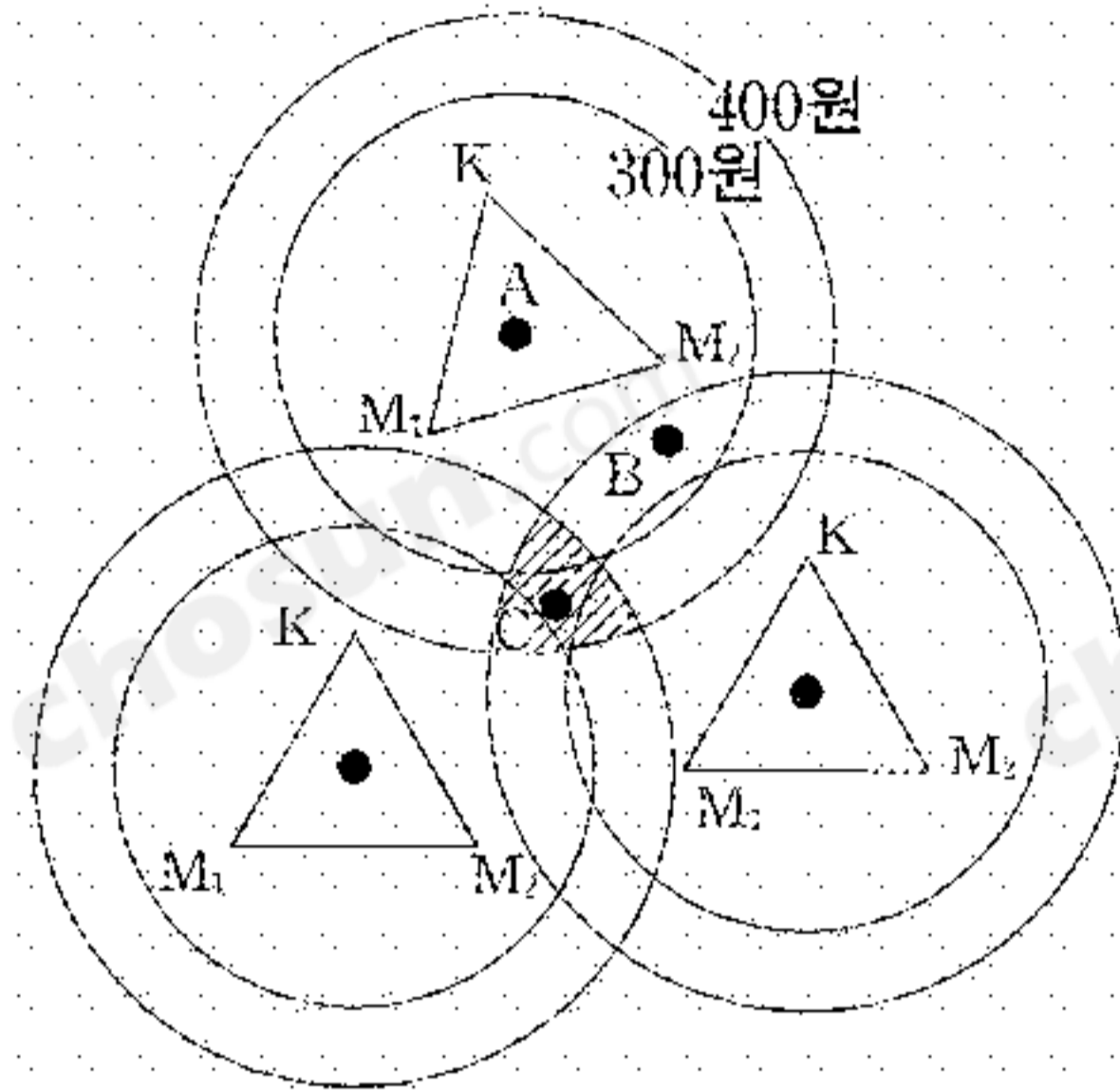
7. (가)와 (나)에 대한 설명으로 옳지 않은 것은? [3점]

세계화의 추세로 한 국가의 경제를 세계 경제와 따로 떼어 생각하기 어렵게 되었다. 특히 세계 무역에 있어 강력하고 강제력을 가진 (가) 세계무역기구(WTO)가 1995년 출범하게 되었다. 이와 동시에 1990년대 이후 (나) 국가 간 자유무역협정(FTA)도 급격히 증가해 1986~1990년 3건에 불과하던 FTA의 체결 건수가 1991~1995년에는 47건, 1996~2002년에는 82건으로 늘어났다.

- ① (가)는 전세계 단일 통화를 추구한다.
 ② (가)는 다자 간 무역 협상을 위해 만들어졌다.
 ③ (나)는 비회원국에게 배타적이다.
 ④ (나)는 시장 규모의 확대를 추구한다.
 ⑤ (가)와 (나)는 교역 자유화를 추구한다.

8. 베버의 입지 이론을 적용할 때, 자료의 A, B, C 지점을 입지 조건이 유리한 순서대로 바르게 배열한 것은? [3점]

구 분	A 지점	B 지점	C 지점
노동비(원)	1,500	500	1,500
집적 이익(원)	0	0	1,000



K : 소비 시장
 M₁, M₂ : 원료 산지
 A : 최소 운송비 지점
 [Shaded Area] : 집적 이익 발생 지역
 동심원은 최소 운송비 지점으로부터 총 운송비가 같은 지점을 연결한 등운송비선임

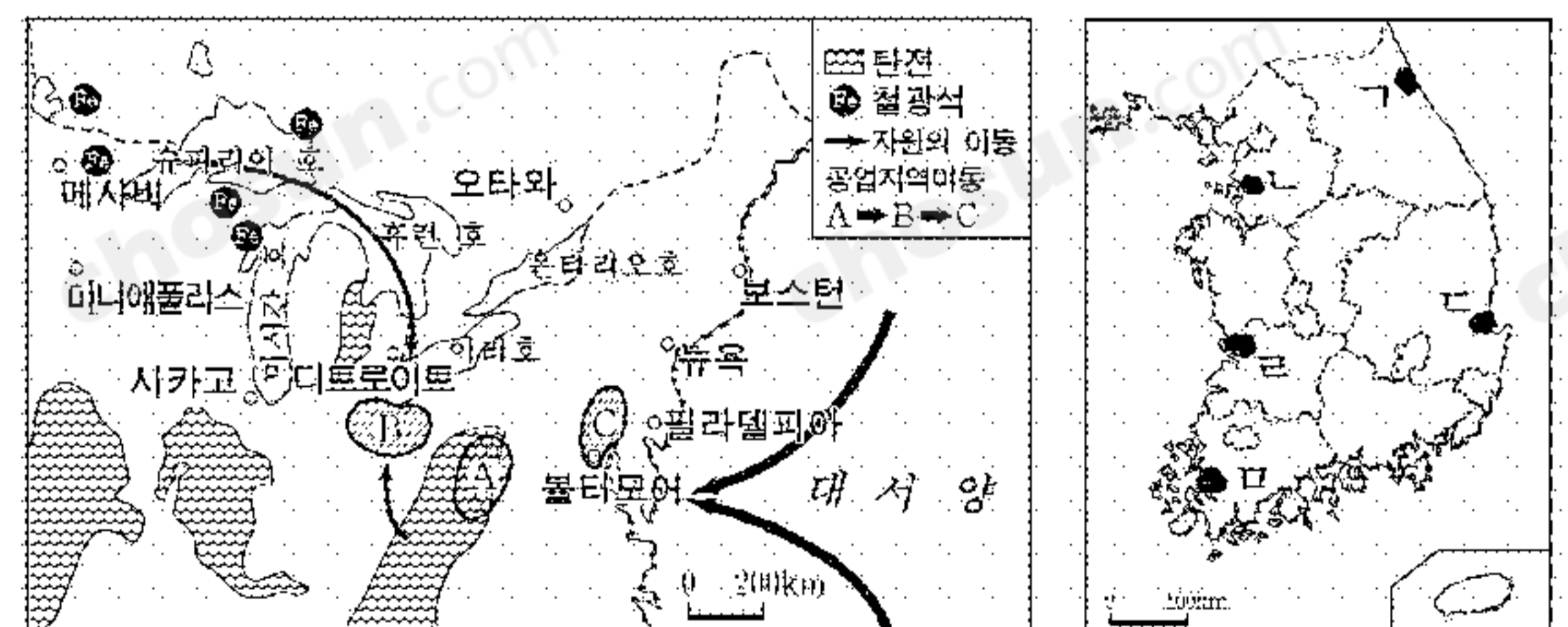
- ① A-B-C ② B-A-C ③ B-C-A
 ④ C-A-B ⑤ C-B-A

9. 다음은 지역 개발 단위에 관한 수업 내용이다. 발표 내용이 옳지 않은 학생은?

교 사 : 지역 개발 방법에 대하여 지금까지 공부한 내용을 정리해 봅시다. 누가 말해 볼까요?
 학생 1 : 개발 주체로 구분해 보면 하향식 개발은 중앙 정부가, 상향식 개발은 지방 자치 단체가 주도하게 됩니다.
 학생 2 : 하향식 개발은 지역 주민의 의사를 반영하기 어렵지만, 상향식 개발은 지역 주민의 수요를 고려하는데 유리합니다.
 학생 3 : 개발 전략 중 성장 거점 개발은 성장 잠재력이 높은 지역을 선정한 후 그 곳에 집중 투자하는 방식입니다.
 학생 4 : 균형 개발 전략은 전국에 골고루 투자함으로써 단기적인 투자의 효율성을 높이는 방식입니다.
 학생 5 : 우리나라의 제1차 국토 종합 개발 계획은 성장 거점 개발 방식이 적용되었습니다.

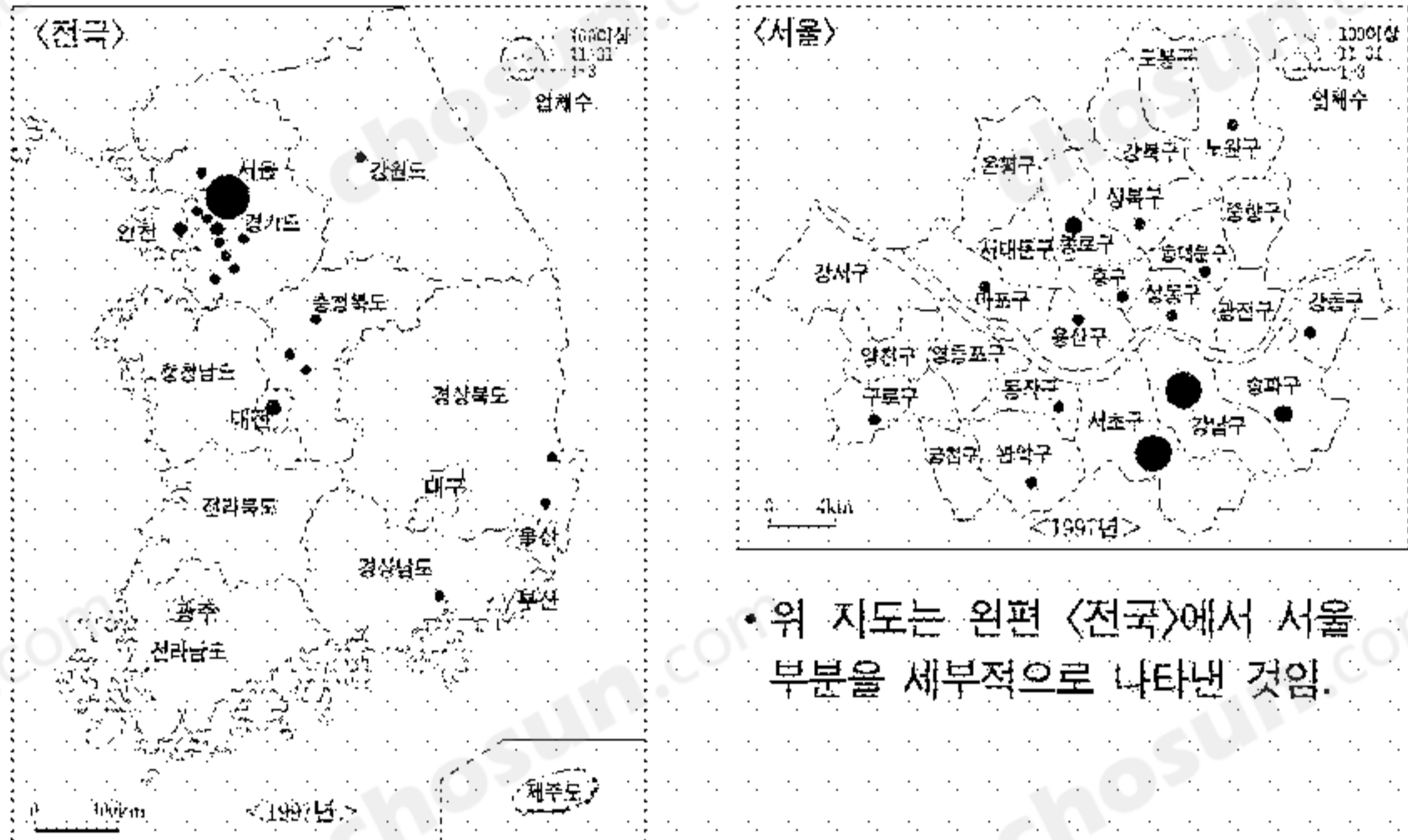
- ① 학생 1 ② 학생 2 ③ 학생 3 ④ 학생 4 ⑤ 학생 5

10. (가)의 C와 유사한 입지 조건으로 인해 동일한 공업이 발달한 지역을 (나)에서 고른 것은?



- ① 가 ② 나 ③ 다 ④ 라 ⑤ 마

11. 지도와 같이 분포하는 기업의 입지 특성을 <보기>에서 모두 고른 것은?

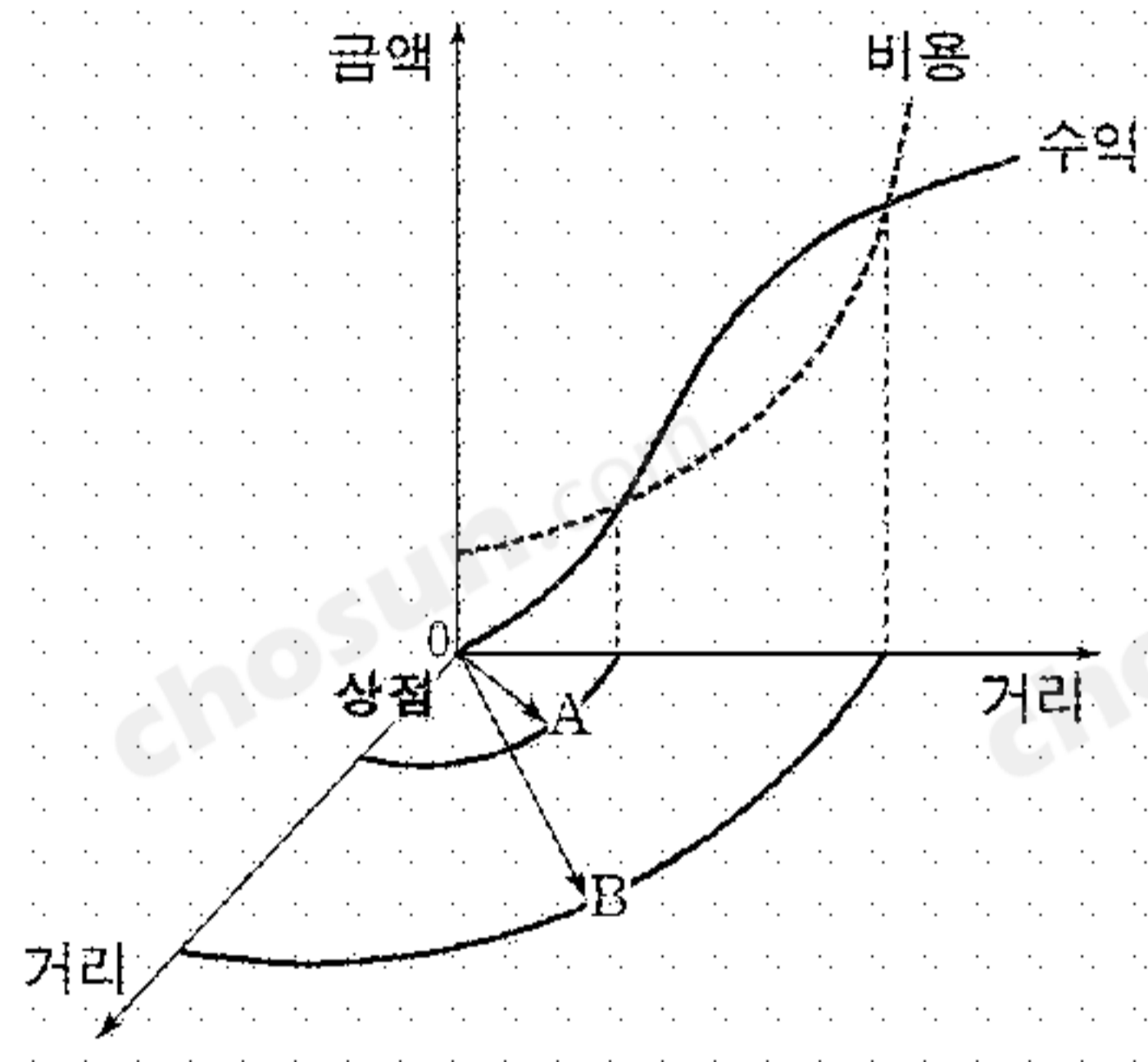


<보 기>

ㄱ. 동력 지향 ㄴ. 원료 지향
 ㄷ. 정보 지향 ㄹ. 집적 지향

- ① ㄱ, ㄴ ② ㄱ, ㄷ ③ ㄴ, ㄷ ④ ㄴ, ㄹ ⑤ ㄷ, ㄹ

[12~13] 그림은 어떤 상점의 수익과 비용 곡선을 나타낸 것이다. 물음에 답하십시오. (단, 상점은 하나만 있는 것으로 한다.)



12. A, B에 대한 설명으로 옳은 것은?

- ① 교통이 발달하면 B의 범위가 축소될 것이다.
- ② A가 B보다 크면 상점의 운영이 지속될 것이다.
- ③ 인구 밀도가 높아지면 A의 범위가 확대될 것이다.
- ④ 소득 수준이 향상되면 A의 범위가 확대될 것이다.
- ⑤ B의 범위를 벗어나면 공급이 발생하지 않을 것이다.

13. A와 관련된 사례를 <보기>에서 모두 고른 것은? [3점]

<보 기>

ㄱ. 지역의 인구가 만 명은 넘어야 상점을 개업할 수 있다.
 ㄴ. 월 판매액이 천만 원을 넘지 못하면 상점을 계속 운영하기 어렵다.
 ㄷ. 삼만 원 이상 구입한 경우 시내 지역에 한해서 무료로 배달받을 수 있다.
 ㄹ. 피자 가게는 피자의 배달 거리가 멀어질수록 피자 한 개 당 이윤이 줄어 든다.

- ① ㄱ, ㄴ ② ㄱ, ㄷ ③ ㄴ, ㄷ ④ ㄴ, ㄹ ⑤ ㄷ, ㄹ

14. 튀넨의 고립국 이론을 적용할 때 A, B 작물에 대한 옳은 설명을 <보기>에서 모두 고른 것은? [3점]

(단, 지대 = 시장가격 - 생산비 - 운송비)

구분	시장 가격 (원/kg)	생산비 (원/kg)	운송비 (원/kg · km)
A 작물	400	200	4
B 작물	200	100	1

<보 기>

ㄱ. A 작물의 수요가 감소하면 재배 면적이 줄어 든다.
 ㄴ. B 작물의 운송비가 감소하면 재배 면적이 줄어 든다.
 ㄷ. A 작물의 재배 면적은 B 작물의 재배 면적보다 좁다.
 ㄹ. B 작물은 A 작물보다 시장 가까이에서 재배된다.

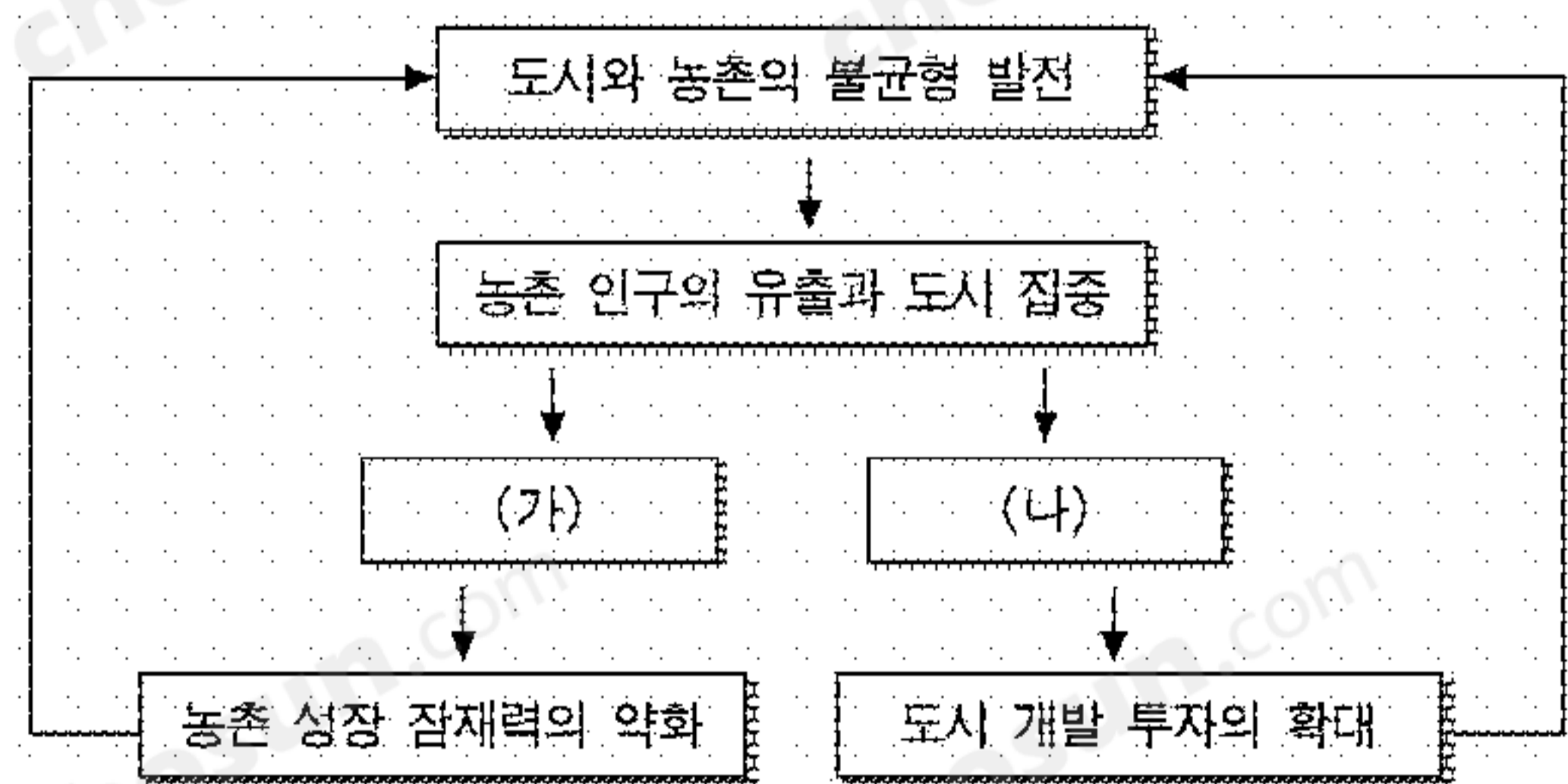
- ① ㄱ, ㄴ ② ㄱ, ㄷ ③ ㄴ, ㄷ ④ ㄴ, ㄹ ⑤ ㄷ, ㄹ

15. 다음 글을 고려했을 때 물 자원의 바람직한 개발 및 관리 방안으로 적절하지 않은 것은? [3점]

우리나라의 연평균 강수량은 세계 평균보다 30%가 많지만, 높은 인구 밀도 때문에 1인당 사용 가능한 물 자원의 양은 세계 평균의 약 10%밖에 되지 않는다. 사용 가능한 수자원에 있어서도 우리나라는 1인 기준으로 1,550m³에 불과하기 때문에 물 부족 국가군으로 분류된 바 있다. 그럼에도 불구하고 우리나라의 국민 1인당 물 사용량은 경제협력개발기구(OECD)의 다른 나라에 비해 꽤 높은 편이다. 따라서 공급 측면에서 환경 피해를 최소화하는 물 자원의 확보와 더불어 수요 측면에서의 물 자원 관리가 요구된다.

- ① 절수 기기의 보급을 확대한다.
- ② 누진형 수도 요금 체계를 도입한다.
- ③ 노후 상수관을 교체하여 낭비를 줄인다.
- ④ 물 재활용 시설의 사용률을 높여 나간다.
- ⑤ 전국 각지에 지하수를 대규모로 개발한다.

16. 다음은 인구 이동과 관련된 도시·농촌 불균형 발전이 악순환되는 과정을 나타낸 것이다. (가), (나)에 들어갈 수 있는 내용을 바르게 짝지은 것은?



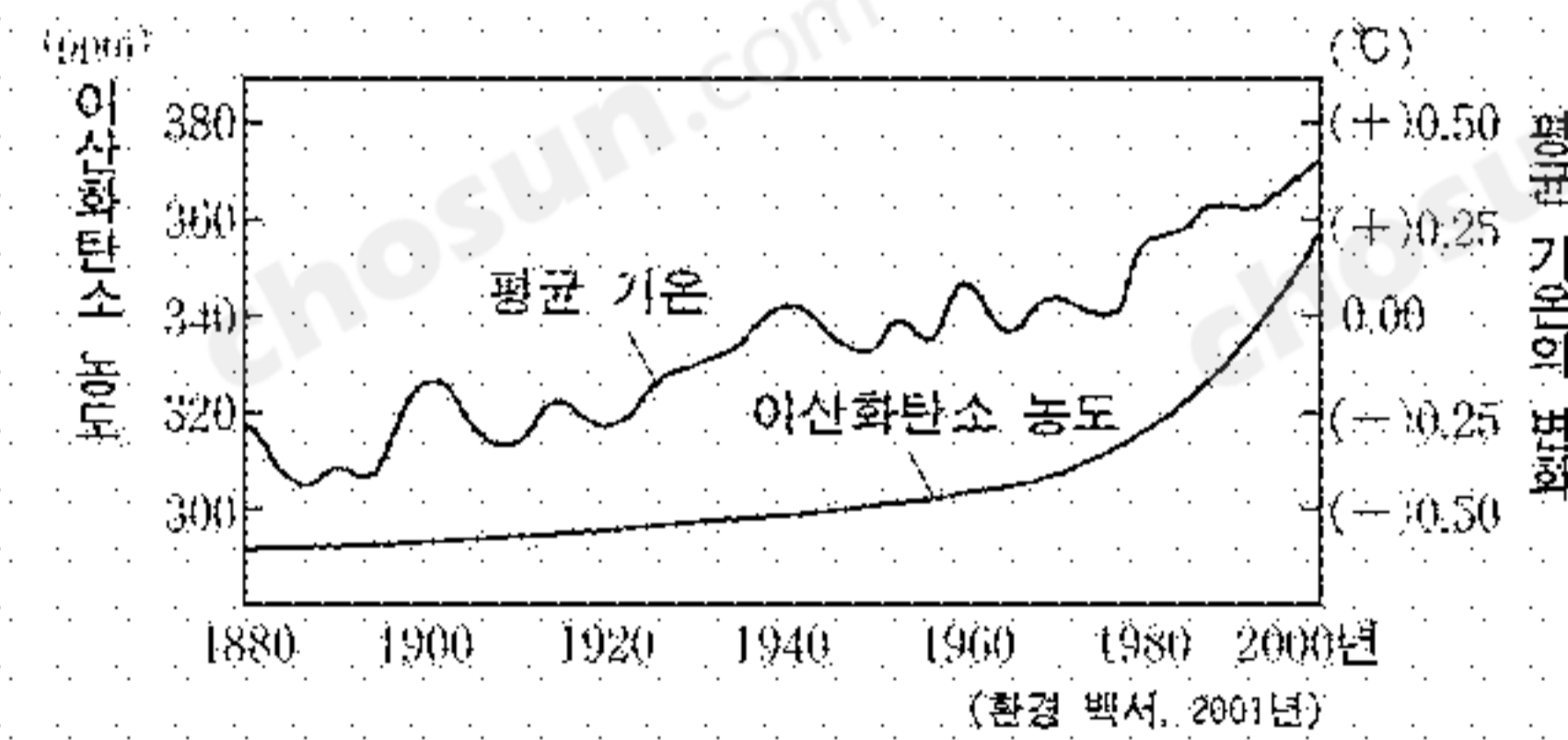
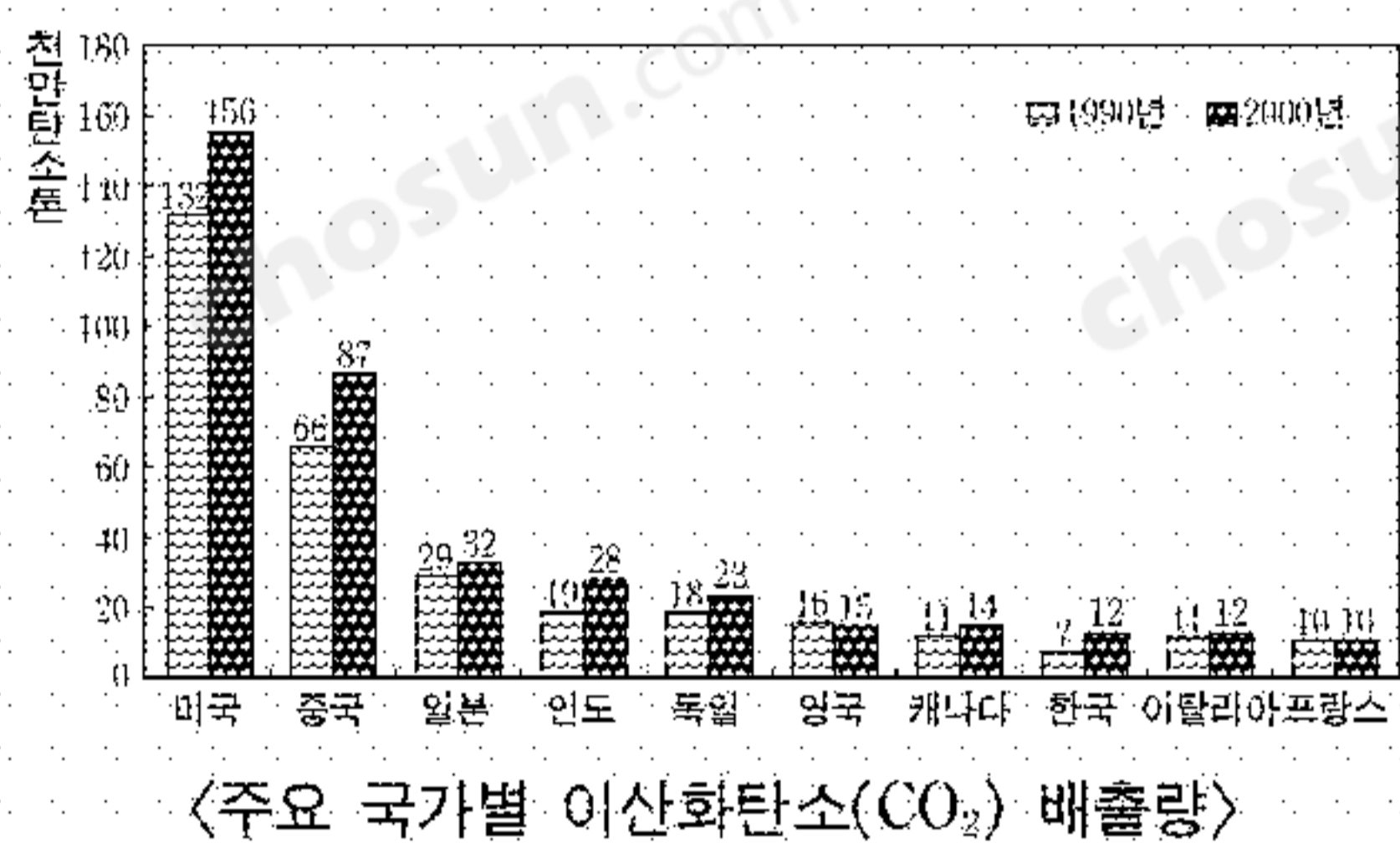
- | | |
|---|--|
| <p>(가)</p> <ol style="list-style-type: none"> ① 주민 소득의 저하 ② 휴경지의 감소 ③ 출생률의 증가 ④ 생활 환경의 개선 ⑤ 노년 인구 비율의 증가 | <p>(나)</p> <ol style="list-style-type: none"> ① 실업률의 감소 ② 환경 오염의 증대 ③ 교통 혼잡의 증대 ④ 범죄 발생률의 증가 ⑤ 주택 보급률의 저하 |
|---|--|

17. 표는 여러 가지 환경 문제와 관련된 내용이다. (가)~(마)에 들어갈 대응책으로 적절하지 않은 것은? [3점]

환경 문제	사회 경제적 배경	발생 요인	대응책	국제적 노력
지구 온난화	산업 혁명 이후의 급격한 공업화	화석 연료 사용	(가)	기후변화협약 교토의정서
산성비	공업화	화석 연료 사용	(나)	헬싱키의정서 소피아의정서
오존층 파괴	산업과 생활의 고도화	프레온(CFCs) 냉매	(다)	빈조약 몬트리올의정서
열대림 감소	인구 급증, 빈곤, 자원 채취	화전 농업, 벌채 및 개발	(라)	국제열대목재 협정
사막화	인구 급증	방목, 경작 과다	(마)	사막화방지협약

- ① (가) : 온실 가스 배출량의 감축 의무를 부과한다.
- ② (나) : 탈황 장치를 보급하고 청정 연료의 사용을 늘린다.
- ③ (다) : 플라스틱 사용을 줄이고 폐기물의 수출입을 금지한다.
- ④ (라) : 열대 목재의 적절한 이용을 위한 국제 협력을 증진한다.
- ⑤ (마) : 생태계를 고려한 경작을 권장하고 삼림 면적을 확대한다.

18. 두 그래프를 바탕으로 적절하게 추론한 내용을 <보기>에서 모두 고른 것은? [3점]



- <보 기>
- ㄱ. 인구 규모가 크면 클수록 CO₂ 배출량이 많다.
 - ㄴ. 평균 기온의 상승은 CO₂ 농도의 증가와 관계가 있을 것이다.
 - ㄷ. 미국은 세계에서 가장 높은 CO₂ 배출량 증가율을 보이고 있다.
 - ㄹ. 유럽 국가는 아시아 국가보다 대체로 CO₂ 배출량 증가율이 낮다.

- ① ㄱ, ㄴ ② ㄱ, ㄷ ③ ㄴ, ㄷ ④ ㄴ, ㄹ ⑤ ㄷ, ㄹ

19. (가), (나) 현상의 원인을 <보기>에서 찾아 바르게 짝지은 것은?

(가) 우리나라 제조업체들의 공장 해외 이전이 가속화되면서 제조업 공동화 현상이 현실화되고 있다. 이전 업종은 섬유, 신발 등 노동집약적인 업종이 주류를 이루고 있는데, 220개 제조업체를 대상으로 한 조사에서 68%가 새로 또는 추가로 해외로 나가겠다고 응답했다.
-○○ 신문-

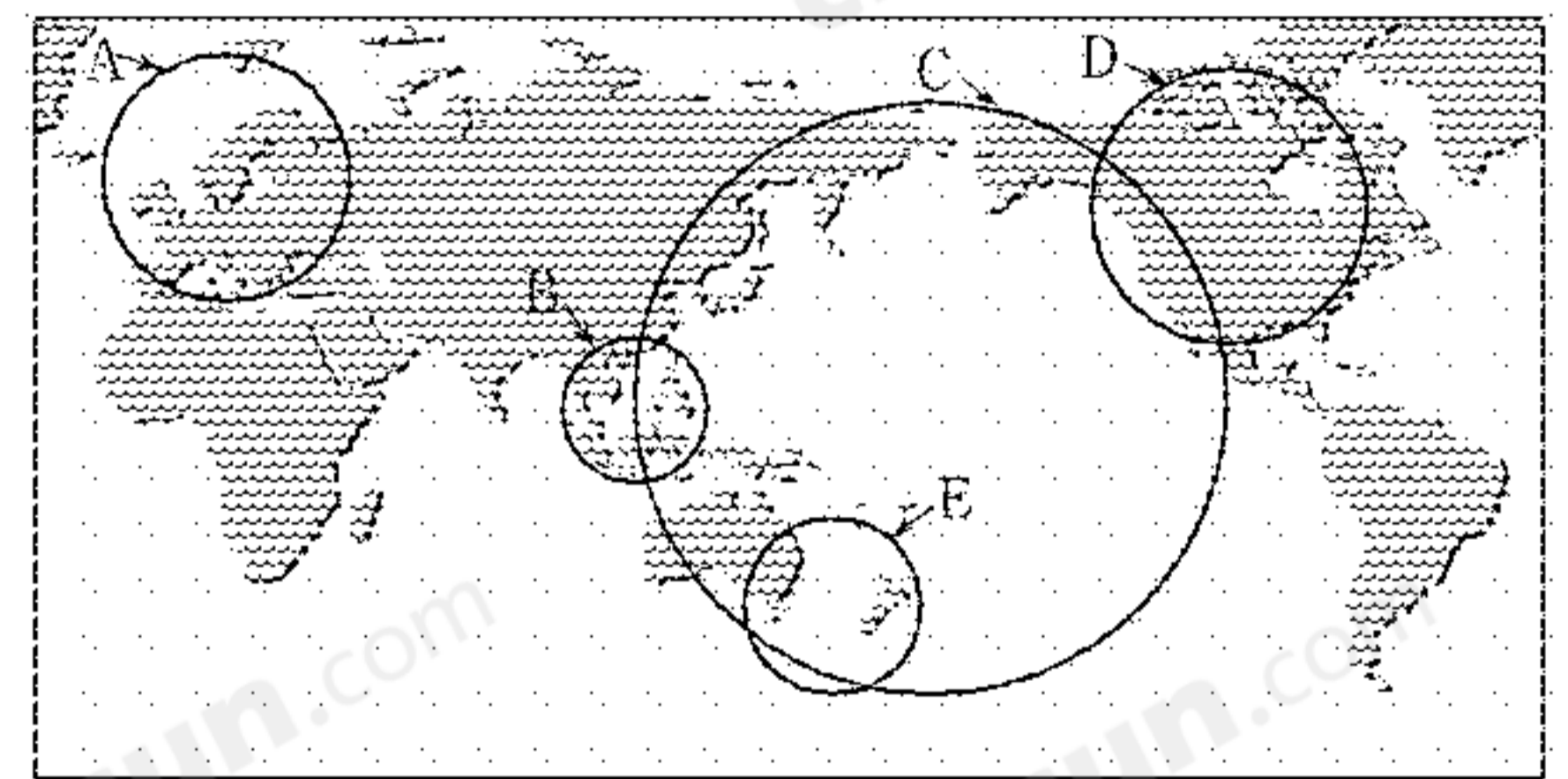
(나) 1990년대 이후 지속되어 온 일본 제조업의 생산 기지 해외 이전 시대가 막을 내리고 있다. 기업들은 디지털 기기, 정보 기기 등에서 일본을 품목별 세계 최적의 생산 기지화하는 전략을 택하고 있는데, 115개 업체를 대상으로 한 조사에서 10%가 앞으로 3년 내에 해외 생산 기지를 일본으로 다시 옮기겠다고 응답했다.
-○○ 신문-

- <보 기>
- ㄱ. 자본의 안정적인 확보가 필요하기 때문이다.
 - ㄴ. 제조업의 인건비 절감이 가능하기 때문이다.
 - ㄷ. 지역 경제 블록화 경향이 완화되었기 때문이다.
 - ㄹ. 고부가가치 제품 개발 여건이 유리하기 때문이다.

- | | | | | | |
|---|-----|-----|---|-----|-----|
| | (가) | (나) | | (가) | (나) |
| ① | ㄱ | ㄴ | ② | ㄱ | ㄷ |
| ③ | ㄴ | ㄷ | ④ | ㄴ | ㄹ |
| ⑤ | ㄷ | ㄹ | | | |

20. 다음과 같은 국제 협력 기구가 위치한 지역을 바르게 나타낸 것은?

- 회원국들이 주로 원자재와 노동 집약적 경공업 제품을 수출한다.
- 회원국들의 경제 구조가 서로 비슷하여 경제적 상호 보완성이 약하다.
- 회원국 간의 경제 발전과 사회적 기반 확립 및 공동 안보를 목표로 한다.



- ① A ② B ③ C ④ D ⑤ E

* 확인 사항

- 답안지의 해당란에 필요한 내용을 정확히 기입(표기)했는지 확인 하시오.