

5. 다음 기사의 (가)와 (나)에 해당하는 무형 재화를 바르게 분류하여 짝지은 것은?

(가) 우리 나라에서 2003년 미국에 특허 출원한 건수는 전년도 세계 6위에서 4위로 올라, 산업상 이용할 수 있는 발명에 대한 보호를 효과적으로 하고 있음을 알 수 있다.

-○○일보, 2004. 3.-

(나) 우리 나라의 소프트웨어 불법 복제율은 1996년 70%에서 2003년 48%로 계속 낮아져, 지적 창작물의 권리에 대한 인식이 높아지고 있음을 알 수 있다.

-○○신문, 2004. 7.-

- | | |
|----------|--------|
| (가) | (나) |
| ① 영업권 | 저작권 |
| ② 저작권 | 영업권 |
| ③ 저작권 | 산업 재산권 |
| ④ 산업 재산권 | 영업권 |
| ⑤ 산업 재산권 | 저작권 |

6. 다음 설명에 모두 해당하는 지급 수단으로 옳은 것은?

- 상품 대금 지급 방법은 후급에 해당한다.
- 고가(高價)의 상품을 거래할 때 편리하다.
- 이용 실적에 따라 세금 혜택을 받을 수 있다.

- | | | |
|---------|----------|--------|
| ① 현금 | ② 당좌 수표 | ③ 신용카드 |
| ④ 선불 카드 | ⑤ 자기앞 수표 | |

7. 다음은 외국의 ○○신문에 실린 광고이다. 이 회사의 국제 경영 전략으로 가장 적절한 것은? [3점]

모 집

당사는 한국에 본사를 둔 김치 판매의 선두 주자로서 해외에 진출하고자 아래와 같이 가맹점을 모집합니다.

- 아 래 -

- 모집 기간 : 2004년 11월 17일 ~ 12월 31일
- 모집 대상 : 당사의 영업 방침대로 가맹점을 경영할 수 있는 자
- 지원 내역 :
 - 경영 기법 제공
 - 동일 상호 및 상표 사용
 - 관리 시스템 및 재료 공급
 - 광고와 판매 촉진 상담 및 지원

- | | |
|-------------|------------|
| ① 턴키 계약 | ② 국제 라이선싱 |
| ③ 국제 컨소시엄 | ④ 국제 프랜차이징 |
| ⑤ 주문자 상표 부착 | |

8. 다음은 초과 보험에 관한 내용이다. ㉠과 ㉡에 해당하는 보험 용어를 바르게 짝지은 것은?

초과 보험은 보험 사고시 보험자가 보상할 최고 한도액인 (㉠)이(가) 보험 목적물의 시가(時價)인 (㉡)보다 초과한 경우를 말한다. 이 계약이 보험 계약자의 사기(詐欺)로 인하여 체결된 때에는 무효로 한다.

[상법 제669조 관련 내용]

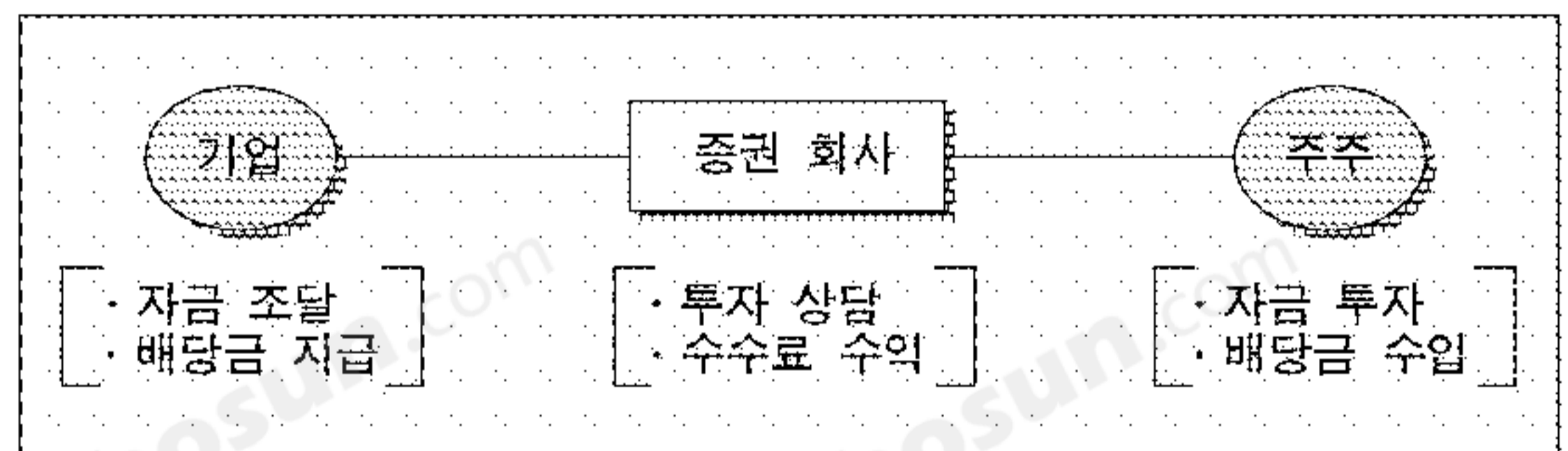
- | | |
|---------|-------|
| ㉠ | ㉡ |
| ① 보험료 | 보험 가액 |
| ② 보험료 | 보험 금액 |
| ③ 보험 가액 | 보험 금액 |
| ④ 보험 금액 | 보험료 |
| ⑤ 보험 금액 | 보험 가액 |

9. 그림은 교사와 학생의 대화 장면이다. ㉠에 들어갈 학생의 답변으로 가장 적절하지 않은 것은?



- ① 웹 호스팅 서비스를 이용하면 비용이 적게 들어요.
- ② 24시간 운영이 가능하여 영업 시간의 제약이 없어요.
- ③ 전국의 고객을 대상으로 할 수 있어서 거래 지역이 넓어요.
- ④ 고객의 관심 분야와 구매 정보를 신속히 파악할 수 있어요.
- ⑤ 고객 개인 정보를 본인의 동의 없이 매매할 수 있어 수입이 늘어요.

10. 그림의 자본 증권을 통한 기업의 자금 조달 방법과, 이 자본 증권을 은행 정기 예금과 비교한 주주의 위험 정도를 바르게 짝지은 것은? [3점]



- | 기업의 자금 조달 방법 | 주주의 위험 정도 |
|--------------|-----------|
| ① 직접 금융 | 높음 |
| ② 직접 금융 | 낮음 |
| ③ 간접 금융 | 높음 |
| ④ 간접 금융 | 낮음 |
| ⑤ 단기 금융 | 높음 |

11. 그림의 대화에서 ㉠에 들어갈 대금 지급 방법으로 옳은 것은?



- ① 선금 ② 분할금 ③ 상환금
- ④ 어음금 ⑤ 외상금

12. 다음 ㉠~㉣에서 물적 유통 기능에 해당하는 사례를 고른 것은?

농산물 유통업자인 갑은 부족한 자금 ㉠ 1,000만 원을 은행에서 차입한 후, 생산자인 을에게 ㉡ 2,000만 원을 지불하고 포도를 구입하였다.
 갑은 포도를 3개월 동안 ㉢ 저온 창고에 보관한 비용으로 200만 원을 지출한 후, 운송업자에게 100만 원을 주고 ㉣ 농산물 도매 시장으로 운송하였다.

- ① ㉠, ㉡ ② ㉠, ㉢ ③ ㉡, ㉣
- ④ ㉡, ㉣ ⑤ ㉢, ㉣

13. 다음 수출 계약서에 나타난 상품 인도 장소와 해상 운임 부담자를 바르게 짝지은 것은? [3점]

수출 계약서

2004. 11. 17.

이 계약은 수출업자(갑, 한국 부산 거주)와 수입업자(을, 미국 뉴욕 거주)의(중략).....

제1항 (물품 명세)(중략).....

제2항 (단가)

2.1. FOB 가격 조건으로 한다.

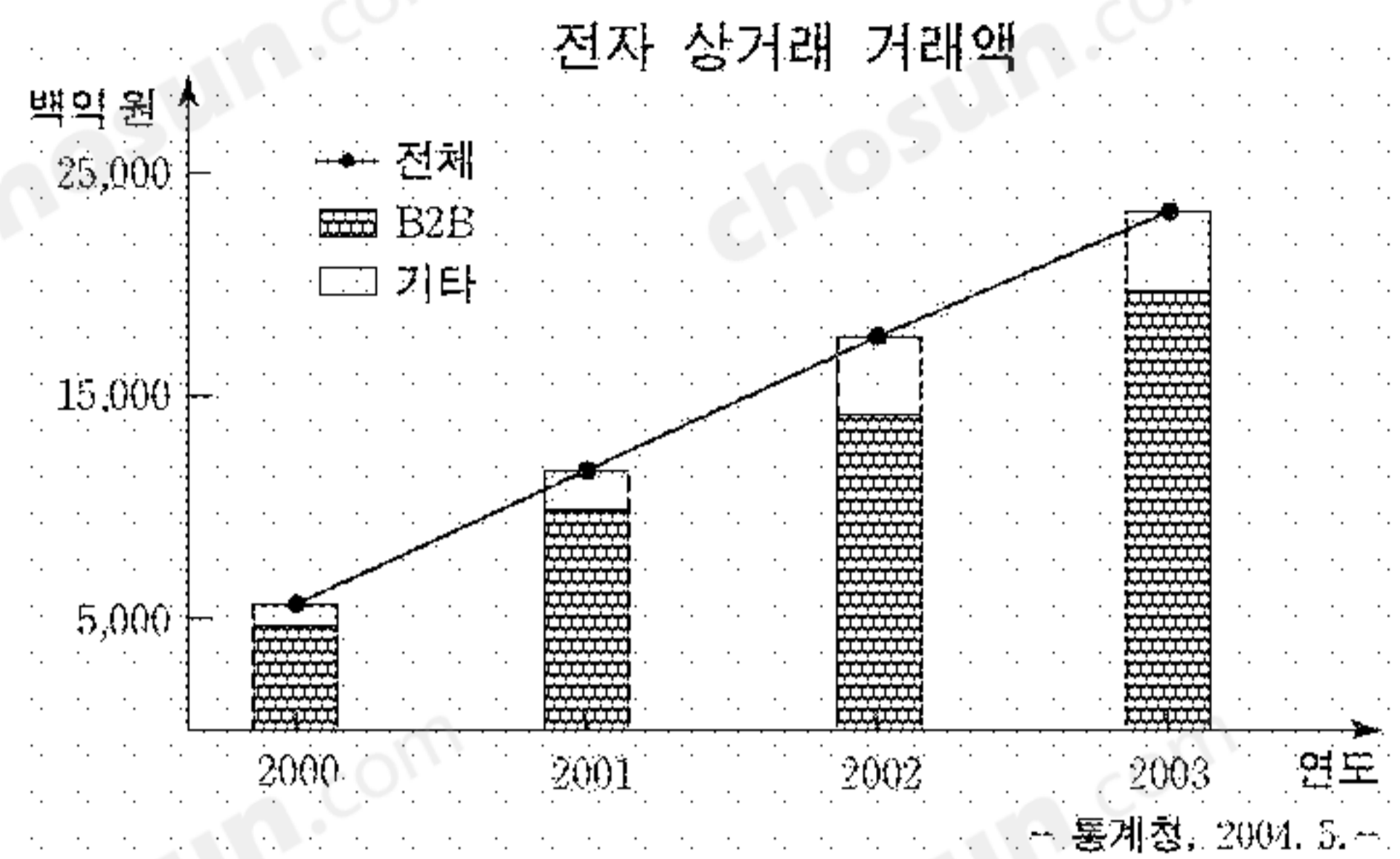
2.2. 국제상업회의소에서 규정한 인코텀즈 2000으로 한다.(중략).....

제3항 (대금 결제 조건)

무 신용장 결제 방식으로 하며 지급도어음(D/P) 조건으로 한다.

- | | |
|----------|-----------|
| 상품 인도 장소 | 해상 운임 부담자 |
| ① 수입항 본선 | 수입업자 |
| ② 수입항 본선 | 수출업자 |
| ③ 수출항 본선 | 수입업자 |
| ④ 수출항 본선 | 수출업자 |
| ⑤ 수출항 선측 | 수출업자 |

14. 그래프를 보고 추론한 내용으로 옳은 것을 <보기>에서 고른 것은? [3점]



<보 기>

ㄱ. 유통 단계가 늘어났다.
 ㄴ. 전자 결제 수단의 사용이 증가하였다.
 ㄷ. 정보 통신 기술을 활용한 상거래가 증가하였다.
 ㄹ. 전자 상거래 거래액은 기업과 소비자 간이 기업 간보다 많았다.

- ① ㄱ, ㄴ ② ㄱ, ㄹ ③ ㄴ, ㄷ
- ④ ㄴ, ㄹ ⑤ ㄷ, ㄹ

15. 다음에 나타난 A국가의 주요 무역 형태로 가장 적절한 것은? [3점]

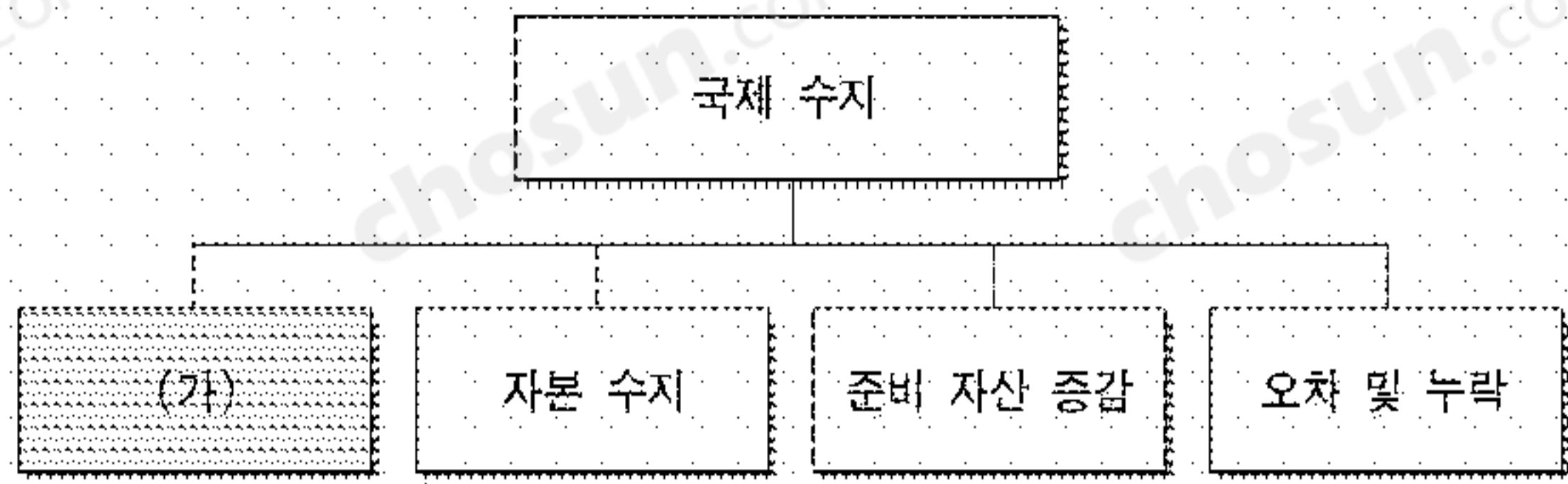
A국가의 무역 현황

- 산업 특징
 - ㄱ. 기술 경쟁력이 있다.
 - ㄴ. 자원이 부족하여 외국으로부터 원자재를 수입한다.
 - ㄷ. 수입한 원자재를 이용하여 고부가 가치의 완제품을 수출한다.
- 무역 상황
 - ㄱ. 무역 의존도가 60% 정도이다.
 - ㄴ. 수출 5대 품목의 비중이 전체 수출의 70%를 차지하고 있다.
- 수출입 5대 품목

순위	수출 품목	수입 품목
1	반도체	원유
2	자동차	전자 부품
3	무선 통신 기기	컴퓨터 부품
4	컴퓨터	철광석
5	선박	천연 가스

- ① 가공 무역 ② 무형 무역 ③ 중개 무역
- ④ 중계 무역 ⑤ 통과 무역

16. 다음에서 (가)에 영향을 주는 사례를 <보기>에서 고른 것은? [3점]



<보 기>
 ㄱ. 미국에 자동차를 수출하였다.
 ㄴ. 중국에 현지 공장을 설립하였다.
 ㄷ. 독일의 신기술 프로젝트에 투자하였다.
 ㄹ. 일본인의 국내 관광으로 수입이 증가하였다.

- ① ㄱ, ㄴ ② ㄱ, ㄹ ③ ㄴ, ㄷ
 ④ ㄴ, ㄹ ⑤ ㄷ, ㄹ

17. 다음 사례에서 '갑'과 '을'이 갖는 권리에 해당하는 것을 <보기>에서 모두 고른 것은? [3점]

○ 해외 진출에 따른 자금을 조달하기 위해 ○○주식회사가 발행한 회사채에 '갑'이 투자하였다.
 ○ 도로 확장에 필요한 자금을 조달하기 위해 정부와 지방자치 단체가 발행한 국·공채에 '을'이 투자하였다.

<보 기>
 ㄱ. 이자를 받을 수 있다.
 ㄴ. 의결권을 행사할 수 있다.
 ㄷ. 만기시 원금을 받을 수 있다.

- ① ㄱ ② ㄴ ③ ㄷ
 ④ ㄱ, ㄷ ⑤ ㄴ, ㄷ

18. 다음에서 (가)에 해당하는 매매 방법과 사례를 바르게 짝지은 것은?

	구매자 수	1인	다수
판매자 수		1인	다수
	1인	직접 매매	입찰 판매
	다수	입찰 매입	(가)

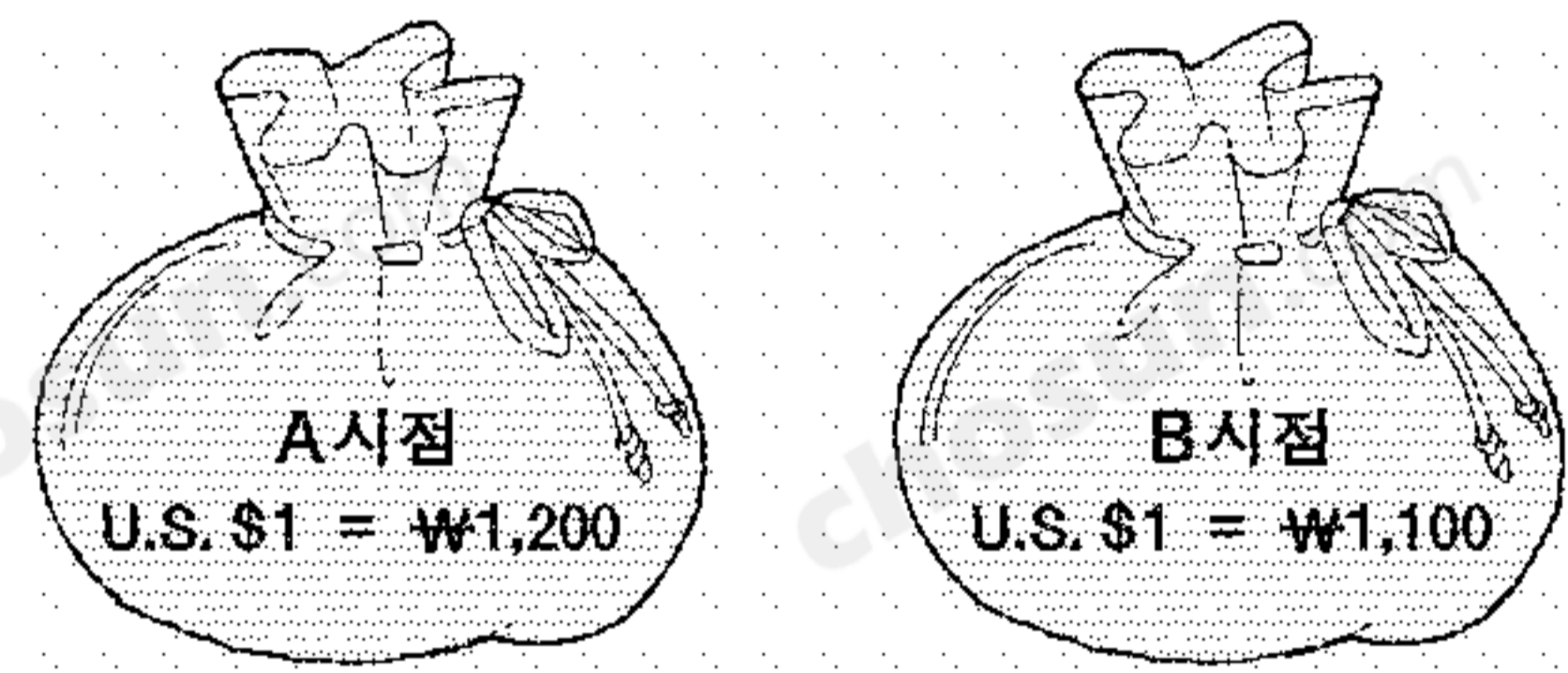
- | | |
|-------|------------------|
| 매매 방법 | 사례 |
| ① 경매 | 증권 거래소의 주식 매매 |
| ② 경매 | 부패하기 쉬운 농수산물의 매매 |
| ③ 경매매 | 정부의 물품 구입 |
| ④ 경매매 | 증권 거래소의 주식 매매 |
| ⑤ 경매매 | 부패하기 쉬운 농수산물의 매매 |

19. 다음 ㉠과 ㉡에 들어갈 용어를 바르게 짝지은 것은?

- ○○자동차회사는 부품 협력 업체와 상거래 서식을 컴퓨터 통신으로 전달하는 (㉠)을(를) 실시하여 '종이 없는 거래'로 비용을 절감하고 업무 처리 시간을 단축하였다.
- ○○유통회사는 상품에 부착된 바코드를 읽어 상품 정보를 컴퓨터에 저장하는 (㉡)을(를) 도입하여 상품별로 매출 동향을 파악하고 재고를 적정하게 유지하였다.

- | | |
|--------------------|------------------|
| ㉠ | ㉡ |
| ① 전자 문서 교환(EDI) | 지리 정보 시스템(GIS) |
| ② 전자 문서 교환(EDI) | 판매 시점 정보 관리(POS) |
| ③ 지리 정보 시스템(GIS) | 판매 시점 정보 관리(POS) |
| ④ 판매 시점 정보 관리(POS) | 전자 문서 교환(EDI) |
| ⑤ 판매 시점 정보 관리(POS) | 지리 정보 시스템(GIS) |

20. 그림은 A, B시점을 기준으로 미국 달러화와 원화의 교환 비율을 나타낸 것이다. 우리 나라에서 이들 화폐를 교환했을 때, 두 시점에 대한 비교 설명으로 옳은 것을 <보기>에서 고른 것은? [3점]



<보 기>
 ㄱ. A시점보다 B시점에서 원화의 환율이 하락하였다.
 ㄴ. A시점보다 B시점에서 원화의 가치가 하락하였다.
 ㄷ. A시점보다 B시점에서 원화를 미국 달러화로 환전한 사람이 유리하다.
 ㄹ. A시점보다 B시점에서 미국 달러화를 원화로 환전한 사람이 유리하다.

- ① ㄱ, ㄴ ② ㄱ, ㄷ ③ ㄴ, ㄷ
 ④ ㄴ, ㄹ ⑤ ㄷ, ㄹ

* 확인 사항
 ○ 답안지의 해당란에 필요한 내용을 정확히 기입(표기)했는지 확인 하시오.