


제 4 교시

직업탐구 영역(회계 원리)

성명		수험 번호							
----	--	-------	--	--	--	--	--	--	--

- 자신이 선택한 과목의 문제지인지 확인하시오.
- 문제지에 성명과 수험 번호를 정확히 써 넣으시오.
- 답안지에 성명과 수험 번호를 써 넣고, 또 수험 번호와 답을 정확히 표시하시오.
- 과목을 선택한 순서대로 풀고, 답은 답안지의 '제1선택'란에서부터 차례대로 표시하시오.
- 문항에 따라 배점이 다르니, 각 물음의 끝에 표시된 배점을 참고하시오. 3점 문항에만 점수가 표시되어 있습니다. 점수 표시가 없는 문항은 모두 2점입니다.

1. 다음 수업 장면에서 제시된 거래 요소의 결합 관계에 해당하는 것은?



- ① 거래처에 현금 ₩400,000을 대여하다.
- ② 여비교통비 ₩200,000을 현금으로 지급하다.
- ③ 현금 ₩500,000을 출자하여 영업을 개시하다.
- ④ 정기에금에 대한 이자 ₩100,000을 현금으로 받다.
- ⑤ 영업용 자동차를 ₩1,000,000에 현금으로 구입하다.

2. 다음 기사에 나타난 복식부기 회계 제도를 시행하였을 때 기대할 수 있는 효과를 <보기>에서 모두 고른 것은? [3점]

행정자치부는 2006년까지 모든 지방자치단체에 복식부기 회계 제도를 도입할 예정이다. 복식부기 회계는 현재 지방자치단체가 활용하는 예결산 위주의 단식부기 회계의 결점을 개선하는 것이다. 이 방법은 복식부기 원리를 적용하여 장부를 기록하기 때문에 재무상태와 경영성과에 대한 정보를 일목요연하게 보여줄 것으로 기대된다.

-○○신문, 2004년 5월 20일자-

<보 기>

- ㄱ. 수익과 비용의 거래는 회계 처리하지 않으므로 가장 방법이 간단해진다.
- ㄴ. 대차 평균의 원리에 의하여 기록이나 계산상의 오류를 검증할 수 있다.
- ㄷ. 거래의 이중성으로 인하여 회계의 투명성이 확보되고, 지방자치단체에 대한 주민들의 신뢰가 높아진다.

- ① ㄱ ② ㄴ ③ ㄷ ④ ㄱ, ㄴ ⑤ ㄴ, ㄷ

3. 다음 대화에 나타난 거래를 바르게 분개한 것은? (단, 상품의 회계 처리는 3분법에 의한다.)

사 장 : 상품 1,000,000원을 매입하고 대금은 어떻게 지급하십니까?
 경리부장 : 700,000원은 현금으로 지급하고 잔액은 외상으로 하였습니다.




- ① (차) 매 입 1,000,000 (대) { 현금 700,000
미지급금 300,000
- ② (차) 매 입 1,000,000 (대) { 현금 700,000
외상매입금 300,000
- ③ (차) 매 입 1,000,000 (대) 외상매입금 1,000,000
- ④ (차) 상 품 1,000,000 (대) { 매 입 700,000
미지급금 300,000
- ⑤ (차) 상 품 1,000,000 (대) { 매 입 700,000
외상매입금 300,000

4. 그림의 대화에서 ㉠과 ㉡에 해당하는 회계 용어를 바르게 짝지은 것은? [3점]



- | | |
|--------|-------|
| ㉠ | ㉡ |
| ① 매입환출 | 매출할인 |
| ② 매입환출 | 매입에누리 |
| ③ 매출환입 | 매입할인 |
| ④ 매출환입 | 매입에누리 |
| ⑤ 매출환입 | 매출에누리 |

5. 영업용 건물과 관련된 거래 (가)~(다)를 분개할 때 차변 계정과목을 바르게 짝지은 것은?

(가)	(나)	(다)
		
신축 중인 건물의 공사대금 2억 원을 현금으로 지급하다.	건물이 완공되어 잔금 18억원을 당좌 수표를 발행하여 지급하다.	노후된 건물을 도색하고 100만 원을 현금으로 지급하다. (수익적 지출로 처리하다.)

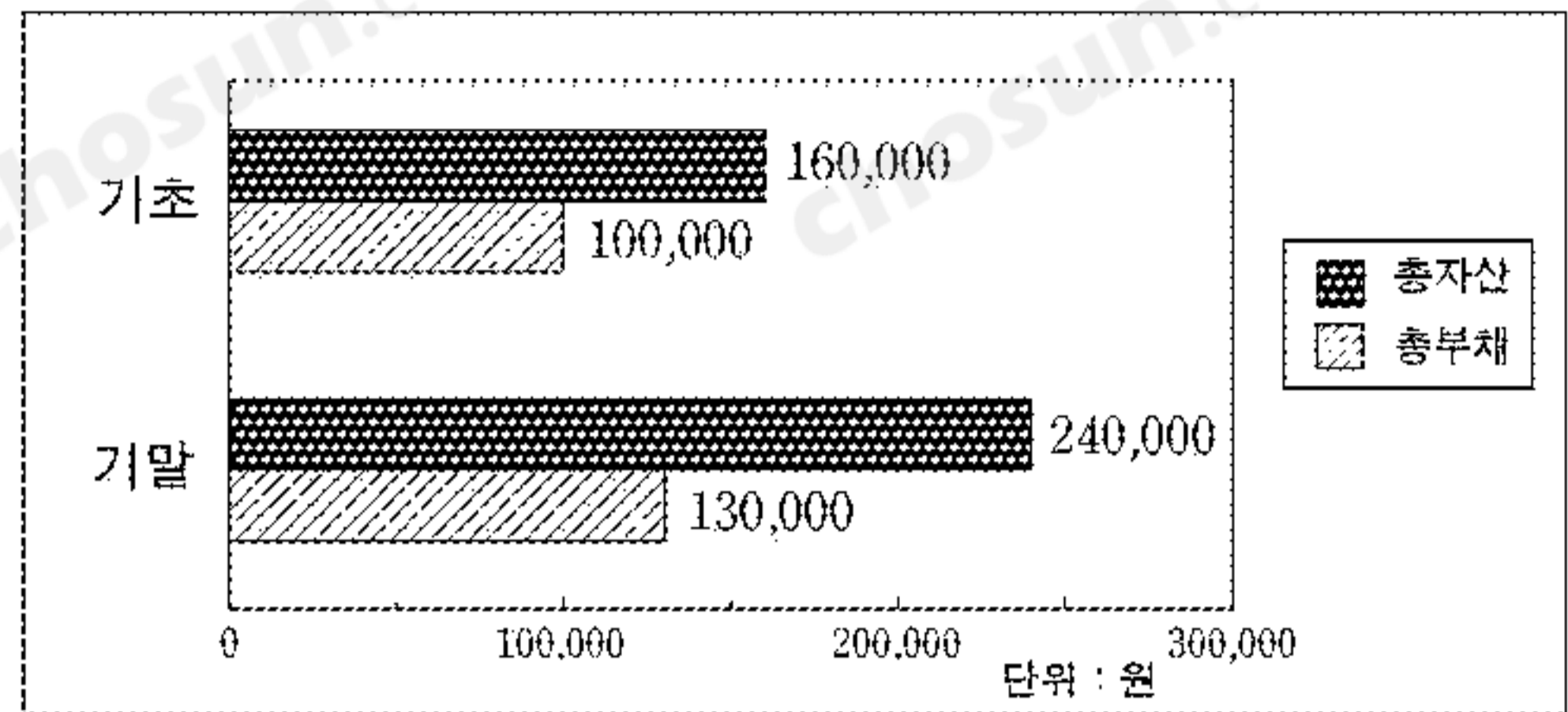
- | | | |
|----------|-------|-----|
| (가) | (나) | (다) |
| ① 건물 | 건물 | 수선비 |
| ② 선급금 | 건물 | 건물 |
| ③ 선급금 | 투자부동산 | 수선비 |
| ④ 건설중인자산 | 건물 | 수선비 |
| ⑤ 건설중인자산 | 투자부동산 | 건물 |

6. 다음은 ○○주식회사가 사무용으로 사용할 물품을 구입하고 받은 영수증이다. 내역을 보고 분개할 때 차변 계정과목으로 옳은 것은? (단, 비용 계정으로 회계 처리한다.)

NO. xx 영수증 (공급받는자용)				
○○주식회사 귀하				
사업자 등록번호	108-xx-xxxxxx			
상 호	○○문구	성 명	김○○ (인)	
사업자 소재지	xxxxx			
업 태	소 매	종 목	문구류	
작성년월일	공급대기총액	비 고		
2004. 11. 16.	₩100,000			
공 급 내 역				
월일	품 목	수 량	단 가	공급대기(금액)
11/16	장 부	10	8,000	80,000
"	복사용지	10	2,000	20,000
합 계				₩100,000

- ① 매 입 ② 매 출 ③ 매출원가
 ④ 소모품비 ⑤ 감가상각비

7. 그래프는 2003년도 ○○주식회사의 재무상태를 나타낸 것이다. 이 자료에서 당기순이익을 계산한 결과로 옳은 것은?



- ① 당기순이익 ₩50,000 ② 당기순손실 ₩50,000
 ③ 당기순이익 ₩60,000 ④ 당기순손실 ₩60,000
 ⑤ 당기순이익 ₩110,000

8. 다음 분개를 총계정원장에 전기할 때 각 계정의 ㉗와 ㉘에 들어갈 내용을 바르게 짝지은 것은?

11/17 (차) 현금 100,000 (대) 단기차입금 100,000

현 금							
날짜	적요	분면	금액	날짜	적요	분면	금액
11/17	(㉗)		100,000				

단기차입금							
날짜	적요	분면	금액	날짜	적요	분면	금액
				11/17	(㉘)		100,000

- | | |
|---------|-------|
| ㉗ | ㉘ |
| ① 제좌 | 현금 |
| ② 제좌 | 단기차입금 |
| ③ 현금 | 단기차입금 |
| ④ 단기차입금 | 제좌 |
| ⑤ 단기차입금 | 현금 |

9. 밑줄 친 거래가 발생한 후 나타나는 결과를 <보기>에서 고른 것은? [3점]

의약품 전문 제조업체인 ○○주식회사는 주주총회의 특별결의로 회사 규모를 축소하기 위해 주식 1,000주(액면가액 1주당 ₩5,000)를 1주당 ₩4,000에 현금으로 매입하여 소각하였다.

- <보 기>
- | | |
|---------------|--------------------|
| ㄱ. 자산이 증가한다. | ㄴ. 부채가 증가한다. |
| ㄷ. 자본금이 감소한다. | ㄹ. 발행 주식의 수가 감소한다. |

- ① ㄱ, ㄴ ② ㄱ, ㄷ ③ ㄴ, ㄷ ④ ㄴ, ㄹ ⑤ ㄷ, ㄹ

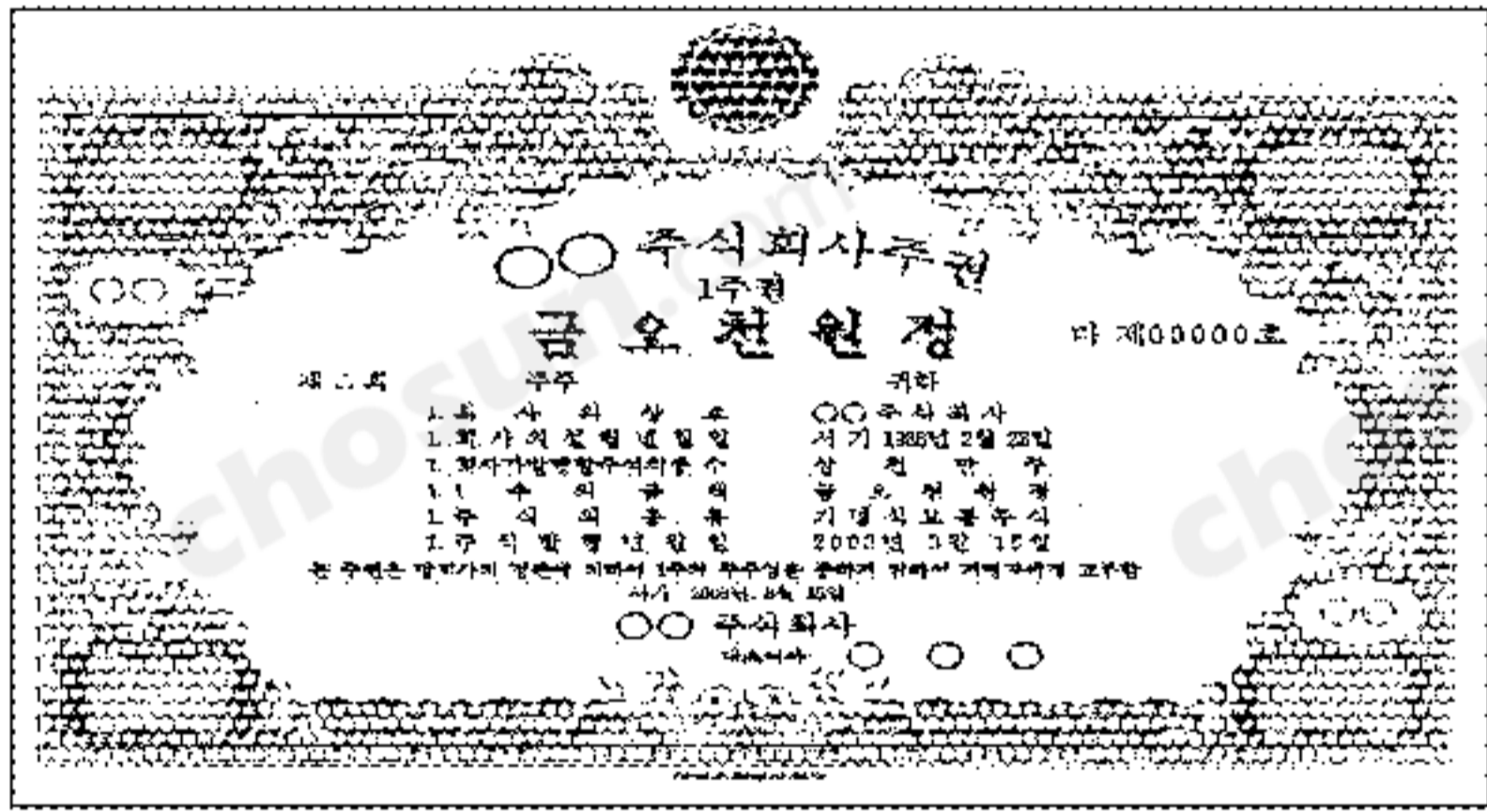
10. 다음 거래를 분개할 때 차변 계정과목이 세금과공과인 거래를 모두 고른 것은?

- ㄱ. 접대비 ₩80,000을 현금으로 지급하다.
- ㄴ. 사무실 전화 요금 ₩50,000을 현금으로 납부하다.
- ㄷ. 영업용 건물에 대한 재산세 ₩100,000을 현금으로 납부하다.

- ① ㄱ ② ㄴ ③ ㄷ ④ ㄱ, ㄴ ⑤ ㄴ, ㄷ

11. 다음 자료에 의하여 단기매매증권평가손익을 계산한 결과로 옳은 것은? [3점]

액면가액으로 취득하여 보유하고 있던 단기 투자 목적의 ○○주식회사 주식 1,000주를 결산 시 1주당 공정가액(시가) ₩6,000으로 평가하였다.



○ 단기매매증권평가손익은 2002년 기업회계기준 개정 전에는 유가증권평가손익이라 하였음.

- ① 단기매매증권평가이익 ₩1,000,000
- ② 단기매매증권평가손실 ₩1,000,000
- ③ 단기매매증권평가이익 ₩5,000,000
- ④ 단기매매증권평가손실 ₩5,000,000
- ⑤ 단기매매증권평가이익 ₩6,000,000

12. 다음은 ○○전자주식회사의 손익계산서를 간략히 나타낸 것이다. ㉠에 영향을 미치는 거래를 <보기>에서 모두 고른 것은? [3점]

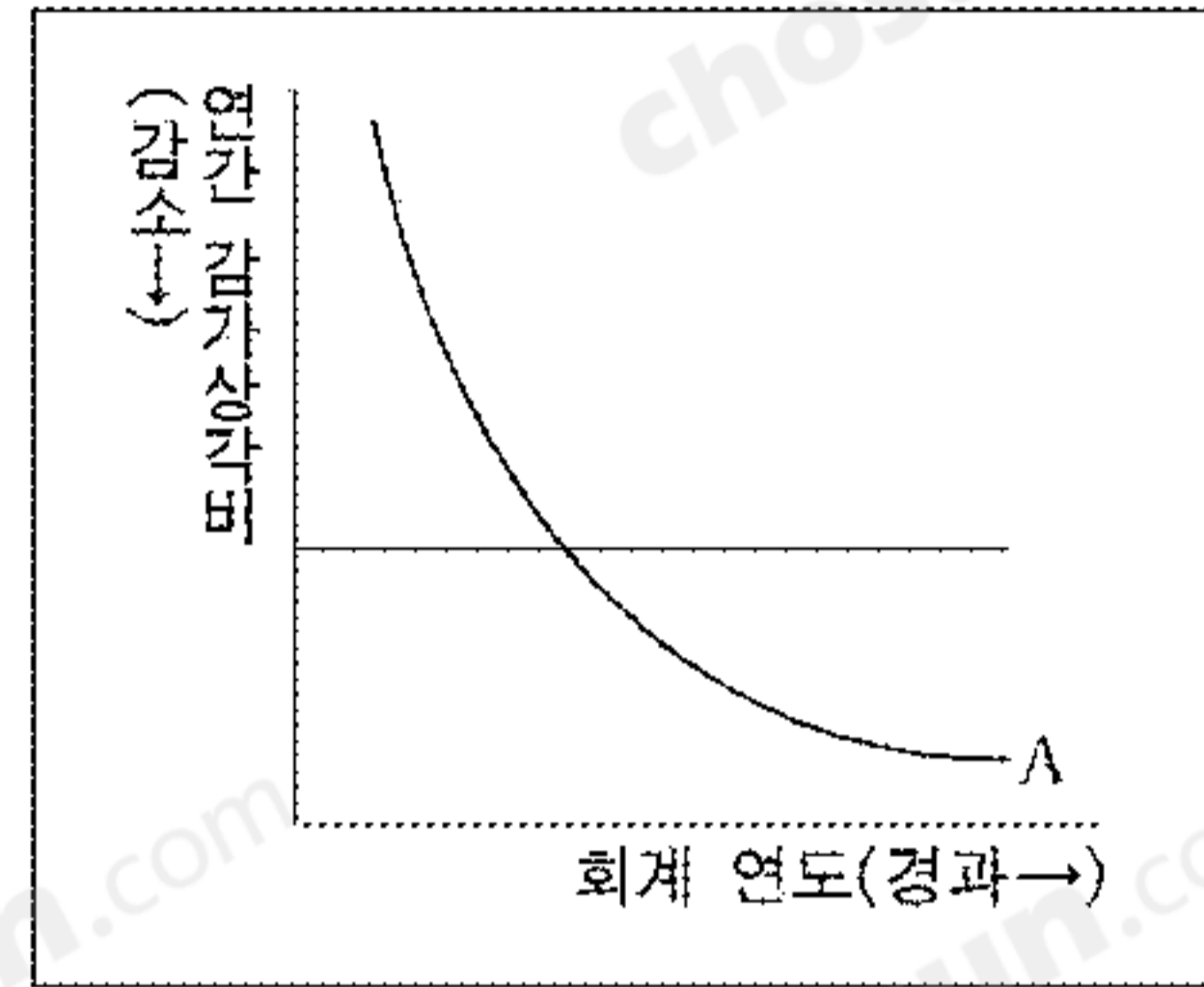
과 목	금 액
매 출 액	×××
매 출 원 가	×××
매 출 총 손 익	×××
관매비와 관리비	×××
영 업 손 익	×××
영 업 외 수 익	×××
영 업 외 비 용	×××
(㉠)	×××
특 별 이 익	×××
특 별 손 실	×××
∴	∴

<보기>

- ㄱ. 당기분 법인세 ₩80,000을 현금으로 지급하다.
- ㄴ. 당기분 사무실 임대료 ₩100,000을 현금으로 받다.
- ㄷ. 차입금에 대한 당기분 이자 ₩20,000을 현금으로 지급하다.

- ① ㄱ ② ㄴ ③ ㄷ ④ ㄱ, ㄴ ⑤ ㄴ, ㄷ

13. 그래프는 유형자산의 감가상각 방법 중 정액법과 정률법을 나타낸 것이다. A에 해당하는 감가상각 방법으로 2003년 결산 시 감가상각비를 계산한 결과로 옳은 것은? [3점]



[차량운반구의 감가상각 관련 자료]

- 취득일 2003년 1월 5일 ○ 취득원가 ₩100,000
- 내용연수 5년 ○ 잔존가액은 취득가액의 5%
- 상각률은 연 45% ○ 결산일 12월 31일(연 1회)

- ① ₩19,000 ② ₩20,000 ③ ₩45,000
 ④ ₩70,000 ⑤ ₩90,000

14. 유동성 배열법에 따라 <보기>의 계정과목을 대차대조표에 기입하고자 한다. ㉠~㉣에 들어갈 내용을 바르게 짝지은 것은?

<보 기>

- ㄱ. 상품 ㄴ. 토지 ㄷ. 현금및현금등가물

대 차 대 조 표


○○회사 2003년 12월 31일 현재 (단위: 원)

자 산	금 액	부 채 · 자 본	금 액
(㉠)			
(㉡)			
(㉢)			

- ㉠ ㉡ ㉢
 ① ㄱ ㄴ ㄷ
 ② ㄱ ㄷ ㄴ
 ③ ㄴ ㄷ ㄱ
 ④ ㄷ ㄱ ㄴ
 ⑤ ㄷ ㄴ ㄱ

15. 다음 자료에서 2003년 기말 대차대조표에 표시되는 선급임차료 (선급비용) 금액을 계산한 결과로 옳은 것은? [3점]

- 2003년 11월 1일 임차료 6개월분 ₩30,000을 현금으로 지급하다.



- ① ₩5,000 ② ₩10,000 ③ ₩20,000
 ④ ₩30,000 ⑤ ₩60,000

